

بِسْمِ اللّٰهِ الرَّحْمٰنِ الرَّحِیْمِ

اَللّٰهُمَّ صَلِّ عَلٰی مُحَمَّدٍ وَّآلِ مُحَمَّدٍ وَّعَجِّلْ فَرَجَهُمْ



ریاضی
اول دبستان





وزارت آموزش و پرورش سازمان پژوهش و برنامه‌ریزی آموزشی



نام کتاب :
پدیدآورنده :
مدیریت برنامه‌ریزی درسی و تألیف :
شناسه افزوده برنامه‌ریزی و تألیف :

ریاضی - اول دبستان - ۱۰۵
سازمان پژوهش و برنامه‌ریزی آموزشی
دفتر تألیف کتاب‌های درسی عمومی و متوسطه نظری
احمد شاهرانی، علی ایرانمنش، محمدکاظم نائینی، محمدحسن بیژن‌زاده، محسن جمالی، سید جعفر شهاب‌زاده، امین
باشی‌زاده، حسین رودسری، بهمن اصلاح‌بذیر، سید اصغر جوادی، ناهید بریری، سعید قریشی، مینو رحیمی،
طیبه حمزه‌بیگی، سمیه‌سادات میرمعینی و وحید عالمیان (اعضای شورای برنامه‌ریزی)
خسرو داودی، آرش رستگار و وحید عالمیان (اعضای گروه تألیف) - محمد دانشگر (ویراستار)
اداره کل نظارت بر نشر و توزیع مواد آموزشی

مدیریت آماده‌سازی هنری :
شناسه افزوده آماده‌سازی :

احمد رضا امینی (مدیر امور فنی و چاپ) - مجید ذاکری‌یونسی (مدیر هنری و طراح جلد) - ندا عظیمی (طراح گرافیک
و صفحه‌آرا) - حدیثه قربان، لیدا معتمد، ندا عظیمی و مجید ذاکری‌یونسی (تصویرگران) - کامران انصاری (طراح خط
رایانه‌ای) - فاطمه باقری‌مهر، زهرا ایمانی‌نصر، زهرا رشیدی‌مقدم، حسین چراغی، فاطمه بزشکی، حمید نابت کلاچاهی،
راحله زادفتح‌اله (امور آماده‌سازی)

نشانی سازمان :

تهران : خیابان ایرانشهر شمالی - ساختمان شماره ۴ آموزش و پرورش (شهید موسوی)

تلفن : ۸۸۸۳۱۱۶۱-۹ - دورنگار : ۸۸۳۰۹۲۶۶، کد پستی : ۱۵۸۴۷۴۷۳۵۹

شرکت افست : تهران - کیلومتر ۴ جاده آبهلی، پلاک ۸، تلفن : ۷۷۳۳۹۰۹۳

ناشر :

دورنگار : ۷۷۳۳۹۰۹۷، صندوق پستی : ۴۹۷۹-۱۱۱۵۵

شرکت افست «سهامی عام» (www.Offset.ir)

چاپخانه :

چاپ دوازدهم ۱۴۰۱

سال انتشار و نوبت چاپ :

برای دریافت فایل pdf کتاب‌های درسی به پایگاه کتاب‌های درسی به نشانی www.chap.sch.ir و برای خرید کتاب‌های
درسی به سامانه فروش و توزیع مواد آموزشی به نشانی www.irtextbook.ir یا www.irtextbook.com مراجعه نمایید.




کلیه حقوق مادی و معنوی این کتاب متعلق به سازمان پژوهش و برنامه‌ریزی آموزشی وزارت آموزش و پرورش است و هرگونه استفاده از کتاب و
اجزای آن به صورت جایی و الکترونیکی و ارائه در پایگاه‌های مجازی، نمایش، اقتباس، تلخیص، تبدیل، ترجمه، عکس‌برداری، نقاشی، تهیه فیلم و تکثیر
به هر شکل و نوع، بدون کسب مجوز از این سازمان ممنوع است و متخلفان تحت پیگرد قانونی قرار می‌گیرند.

ISBN 978-964-05-1983-7

شابک ۷-۱۹۸۳-۰۵-۹۶۴-۹۷۸

امام مهربان





سخنی با همکاران

خداوند را سپاس می‌گزاریم که به ما توفیق داد تا در جهت بهبود و بهسازی روش‌های آموزش ریاضی در دوره‌ی ابتدایی و همچنین دستیابی به اهداف پیش‌بینی شده‌ی برنامه‌ی درسی ملی، با توجه به نیازهای دانش‌آموزان به تألیف کتاب جدید ریاضی پایه‌ی اول همت گماریم.

در این کتاب تلاش شده است با روش‌های آموزشی جدید، دانش‌آموزان به فکر کردن ترغیب شوند و در یادگیری نقش فعال ایفا کنند. در عین حال مهارت‌هایی را بیاموزند که توانایی آنها را در حل مسئله تقویت می‌کند. در این کتاب نگاه ما به ریاضیات چند جنبه‌ی متفاوت دارد. از طرفی ریاضیات یک هنر است که باید از لحاظ زیبایی‌شناسی و حقیقت‌نمایی ارزش‌های نهفته‌ی خود را آشکار سازد. از طرف دیگر، این درس ابزاری در خدمت بشر است که در تمام علوم بشری کاربرد و حضوری تعیین‌کننده دارد. همچنین ریاضیات مقدمه‌ای است برای آموزش مجزّات که الهیات را به یاد ما می‌آورد و به معارف عالم بالا شباهت دارد. آموزش ریاضیات نه تنها اهرمی مؤثر برای رشد تفکر است؛ بلکه وسیله‌ای برای تعالی انسان از طریق ساختارهای شناختی و معرفتی اوست که البته بدون تکیه بر معارف الهی و علوم توحیدی میسر نخواهد شد.



سخنی درباره‌ی دانش‌آموزان

درس ریاضیات باید برای دانش‌آموز شادی بخش و لذت‌آور باشد و به وسیله‌ی آن احساس خوبی از توانایی‌های خود و دیگران به دانش‌آموز دست دهد. به دانش‌آموزان نشان دهد با همه‌ی تفاوت‌ها و اختلاف‌هایی که دارند، می‌توانند در کنار هم باشند و برای همدیگر احترام قائل باشند. دانش‌آموزان هم مسئولیت بپذیرند و هم به دیگران، وقتی به کمک نیاز دارند، کمک و برای رسیدن به یک هدف مشترک همکاری کنند. با یکدیگر با صداقت رفتار نمایند و سادگی را پیشه‌ی خود سازند.

سخنی با والدین

پیشینه‌ی فکری و مهارت‌هایی که در ذهن دانش‌آموزان نهاده شده، اجازه نمی‌دهد نظام آموزشی یکسانی که دانش‌آموزان با آن مواجه‌اند، ساختارهای شناختی یکسانی را به دست دهد. ذهن دانش‌آموزان مانند گل‌های رنگارنگی‌اند که از یک آب و خاک و خورشید بهره گرفته‌اند اما با یکدیگر در رنگ و بو تفاوت دارند و در برابر نظام یکسان آموزشی مهارت‌های مختلفی را کسب می‌کنند. این تنوع در زمینه‌های یادگیری دانش‌آموزان را می‌توان در سبک‌های یادگیری و ساختار انسان شناختی آنها خلاصه کرد.

جهت اطلاع شما والدین محترم در هر صفحه‌ی کتاب توصیه‌ها و راهنمایی‌هایی نوشته شده است تا در صورتی که تمایل دارید فعالیت‌های یادگیری ریاضی فرزند خود را در منزل دنبال کنید؛ از این رو تأکید می‌شود صرفاً در چارچوب توصیه شده اقدام نمایید.



توصیه‌هایی برای تدریس کتاب

۱- این کتاب ۲۵ بخش است. هر بخش با یک لوحه‌ی تصویری که دربرگیرنده‌ی مفاهیم کلی آن بخش است، آغاز می‌شود. به این ترتیب که هر بخش با نگاه کل به جزء شروع و تدریس هر صفحه با مراجعه به صفحه‌ی لوحه‌ی ذی‌ربط آغاز می‌گردد.


۲- تدریس هر صفحه را با استفاده از ابزار و اشیای ملموس شروع کنید؛ پس از آنکه مفهوم به قدر کفایت توسط دانش‌آموزان تجربه شد، به صفحات کتاب درسی رجوع کنید.


۳- به سبک‌های مختلف یادگیری دانش‌آموزان توجه داشته باشید. در این کتاب تلاش شده است که برای سبک‌های متفاوت، فعالیت‌های گوناگون گنجانده شود اما به دسته‌بندی کردن دانش‌آموزان براساس سبک‌های یادگیری نیازی نیست و انجام فعالیت‌های پیش‌بینی شده کفایت می‌کند.



۴- در پایین هر صفحه توصیه‌هایی برای معلم و والدین به صورت کوتاه آمده است تا آموزگاران محترم و اولیای گرامی با اطلاع بیشتر با فرزند خود تعامل کنند، اما توصیه می‌شود کتاب راهنمای تدریس جهت کسب اطلاعات کامل‌تر و دقیق‌تر مطالعه شود.

۵- با توجه به مطالب ذکر شده در راهنمای تدریس و همچنین تجربه‌های عملی آموزگاران محترم امکان تشخیص سبک‌های مختلف یادگیری وجود دارد و به برگزاری آزمون برای جداسازی نیازی نیست.

۶- همه‌ی دانش‌آموزان به طور هم‌زمان به مهارت لازم در انجام یک فعالیت نمی‌رسند؛ بنابراین نباید فرصت یادگیری را از آنها سلب کرد و برای رسیدن به هدف نهایی باید به قدر کفایت صبور باشیم.

۷- نماد کلاس () توصیه برای آموزش بهتر مفاهیم توسط معلمان است.


۸- نماد خانه () توصیه برای والدین جهت تعمیق بخشی به مفاهیم است.

۹- در بعضی از صفحات کتاب دو هدف در نظر گرفته شده است. هدف اول که مرتبط با فعالیت اول است با نماد  و فعالیت دوم با نماد  مشخص شده است.







بِسْمِ اللّٰهِ الرَّحْمٰنِ الرَّحِیْمِ



شکل های مثل هم را بشمار و تعدادشان را بگو.

بشمار
و بگو



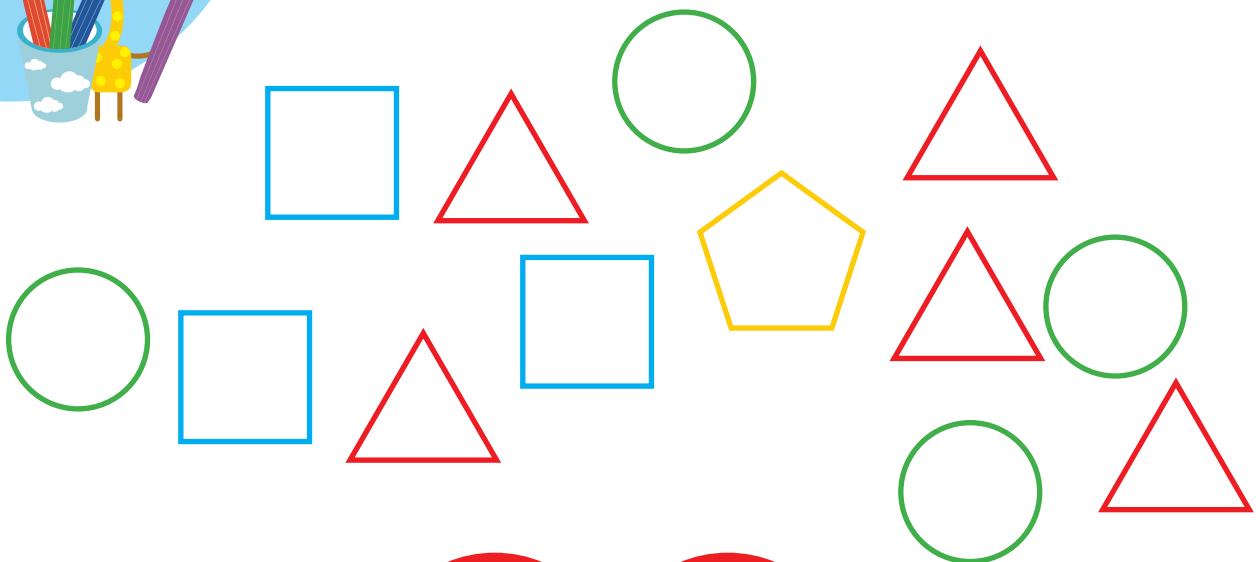
با استفاده از اشیای پیرامون خود، دانش آموزان ابتدا دسته های ۱ تا ۵ تایی مثل هم را جدا کنند و بشمارند؛ سپس این فعالیت را انجام دهند.
از فرزند خود بخواهید تا اشیای مثل هم، مانند قاشق، بشقاب، لیوان و ... را بشمارند که تعداد آنها از ۵ تا کمتر باشد.





بشمار و رنگ کن

به تعداد هر شکل خانه‌ی روبه‌روی آن را رنگ کن.




از دانش‌آموزان بخواهید شکل‌های هندسی مثل هم را بشمارند و به همان تعداد، خانه‌ها را رنگ کنند.
از فرزند خود بخواهید چیزهایی را در اطراف خود به شما نشان دهد که مثل شکل‌های بالا هستند.



مانند نمونه، الگوی شکل‌ها را با رنگ کردن خانه‌ها نشان بده.

الگویابی
کن



--	--	--	--	--	--	--	--




--	--	--	--	--	--

از دانش‌آموزان بخواهید الگوها را بیان کنند (رابطه‌ی بین شکل‌ها را توضیح دهند).
توجه فرزند خود را به الگوهای جلب کنید که در اطراف وجود دارد؛ برای مثال، طرح دور فرش یک الگو دارد.









شماره



الگویابی کن

دور دسته‌ای خط بکش که یک الگو دارد.

دور دسته‌ای خط بکش که یک الگو دارد و به همان ترتیب، شکل‌ها را رنگ کن.







از دانش‌آموزان بخواهید توضیح دهند دسته‌ای که انتخاب کرده‌اند، چه الگویی دارد.

از فرزند خود بخواهید الگوی شکل‌ها را با شمردن و استفاده از عددهای ۱ و ۲ بیان کند.



دسته‌هایی را که تعداد شکل‌هایشان مثل هم است با خط کش به هم وصل کن.

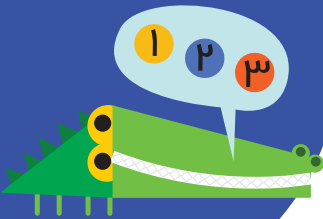
با ابزار
کار کن



با مهره، دکمه و یا اشیای مشابه دسته‌های ۱ تا ۵ تایی را بسازید و از دانش‌آموزان بخواهید با شمردن سریع، تعداد آنها را بگویند. از فرزند خود بخواهید در موقعیت‌های زندگی روزمره از شمارش استفاده کند و تعداد را سریع بگوید.

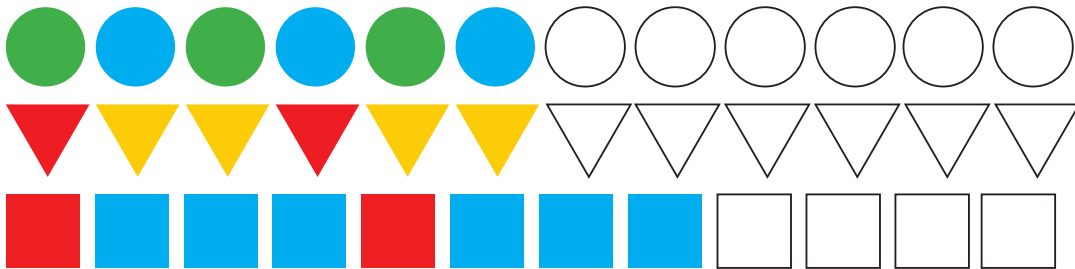



شمارش



بشمار و بگو

انگشتان هر دست چه عددی را نشان می دهد؟ تو هم نشان بده.
رنگ کردن شکل ها را به همان ترتیب ادامه بده.



هر دانش آموز باید بتواند یک عدد کمتر از ۵ را به صورت های مختلف با انگشت دست خود نشان دهد.
خمیر بازی به دست ورزی و توانایی حرکت انگشتان دست فرزند شما کمک می کند.








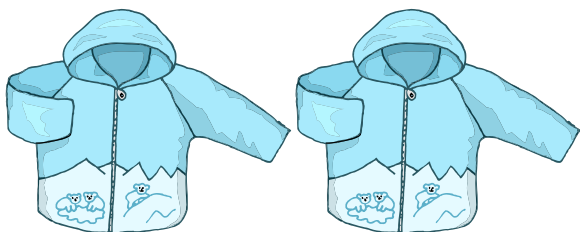
خیابان
دانش آموز شهید
پورتنی





بشمار و رنگ کن

به تعداد شکل های سمت چپ، از شکل های سمت راست رنگ کن. جدول های شگفت انگیز زیر را با رنگ مناسب کامل کن.



دانش آموزان برای انجام این کار می توانند از برقراری تناظر یا شمردن استفاده کنند. در جدول های شگفت انگیز در هر سطر و ستون

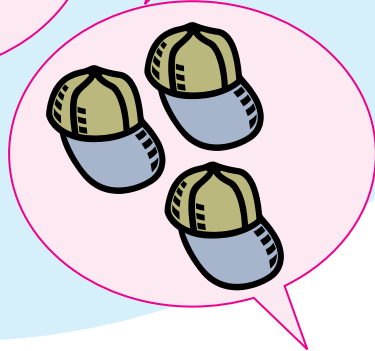

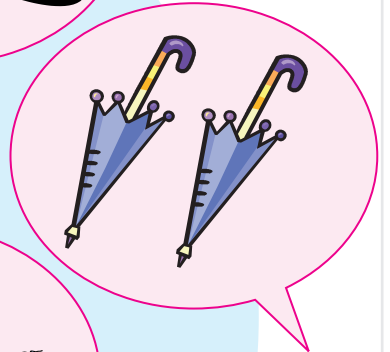


باید هر سه رنگ به کار رود.

در زندگی روزمره موارد زیادی هست که بدون شمردن می توان دسته های با تعداد مساوی را پیدا کرد؛ برای مثال، کنار هر فاشق یک چنگال است.

تعداد شکل های هر دسته را سریع بگو.
الگو را ادامه بده و دو شکل بعد هر الگو را بکش.

بشمار
و بگو

۱ ۲ ۳


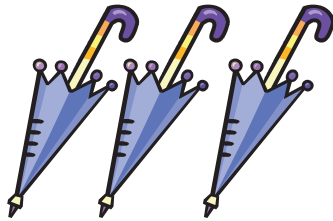


مهره ها و اشیای مختلف کمتر از ۴ تا را به دانش آموزان نشان دهید تا بدون شمردن، تعداد آنها را با سرعت بیان کنند.
در هر الگو، توجه فرزندان را به بخش تکرار شونده جلب کنید. در الگوی اول دو مربع زرد و دو دایره ی سبز، بخش تکرار شونده ی الگو هستند.



بشمار
و بگو

تعداد شکل‌های دسته‌ی سمت راست را با انگشتان دست راست
و تعداد شکل‌های دسته‌ی سمت چپ را با انگشتان دست چپ خود نشان بده.



بازده

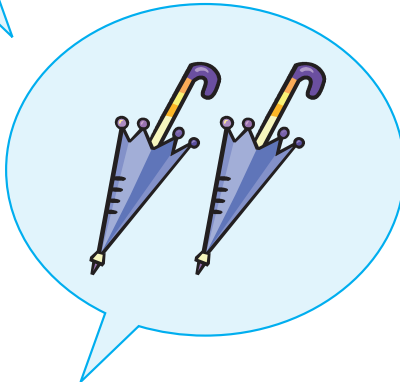
از دانش‌آموزان بخواهید هر بار که با انگشتان دست خود عددی را نشان می‌دهند از نمایش‌های مختلف انگشتان برای آن عدد استفاده کنند.

از فرزند خود بخواهید تعداد اشیای یک دسته‌ی کمتر از ۴ تا را با انگشتان خود به صورت‌های مختلف نشان دهد.



تعداد شکل‌های هر دسته را بگو. حالا اگر یک شکل به شکل‌های هر دسته اضافه کنیم چه عددی را نشان می‌دهد؟ با انگشتان دست نشان بده.
الگورا ادامه بده و شکل بعد هر الگورا بکش.

بشمار
و بگو



از دانش‌آموزان بخواهید توضیح دهند که چگونه عدد بعدی را پیدا کرده‌اند.
اگر فرزند شما تعداد مهره‌های یک دسته تا ۳ چیز را گفت یک مهره اضافه کنید و بپرسید حالا چند تاست.

روانه



بشمار و رنگ کن

مربع‌هایی را که نقطه دارد، با رنگ‌های مناسب رنگ کن تا یک نقاشی شطرنجی درست شود. جدول‌های شگفت‌انگیز را با شکل مناسب کامل کن.









هدف این فعالیت، آماده‌سازی پیدا کردن و ادامه دادن الگوها است.

توجه کنید که رنگ کردن مربع‌های کوچک به دقت و تمرین نیاز دارد. دانش‌آموزان می‌توانند شکل‌های با تعداد کمتر از ۵ را بشمارند.



یکی بعد و یکی قبل از تعداد شکل های هر دسته را بگو و با انگشتان دست نشان بده.
الگو را به همان ترتیب ادامه بده.

بشمار
و بگو



دانش آموزان برای پاسخ به شمارش نیازی ندارند. همین کار را با مهره ها و چیزهای دیگر نیز می توانند انجام دهند.
۳ چیز به فرزند خود نشان دهید و بپرسید اگر یکی به آنها اضافه کنیم یا یکی از آنها را برداریم، چند تا می ماند.




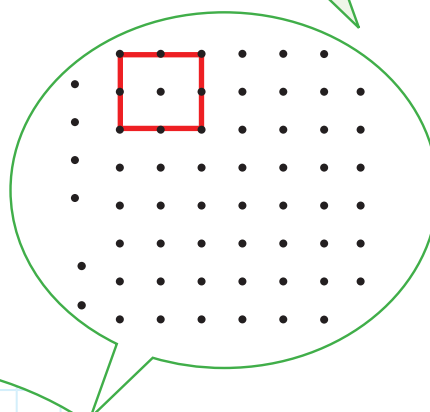


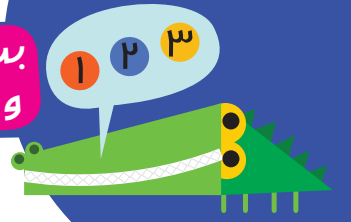
چهارده

۱۴



۲ تا شکل به هر دسته اضافه کن و بگو چند تا می شود.

بشمار
و بگو



دانش آموز ابتدا عدد هر دسته را بدون شمردن بگوید و سپس بعد از کشیدن ۲ شکل تعداد کل را با شمردن بیان کند.
اگر فرزند شما برای بیان تعداد کل شکل از ادامه ی تعداد دسته ی اولیه بشمارد، (یعنی دوباره از یک شروع نکند) آماده ی یادگیری مفهوم عدد شده است.

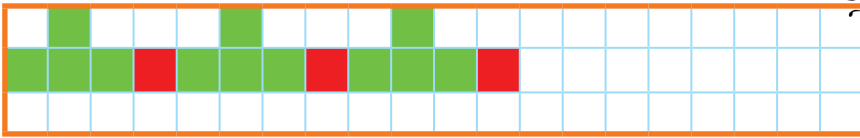
شماره

۱۶

بشمار
و بگو

انگشتان دو دست خود را مانند شکل‌ها باز کنید. انگور را به همان ترتیب ادامه بده.







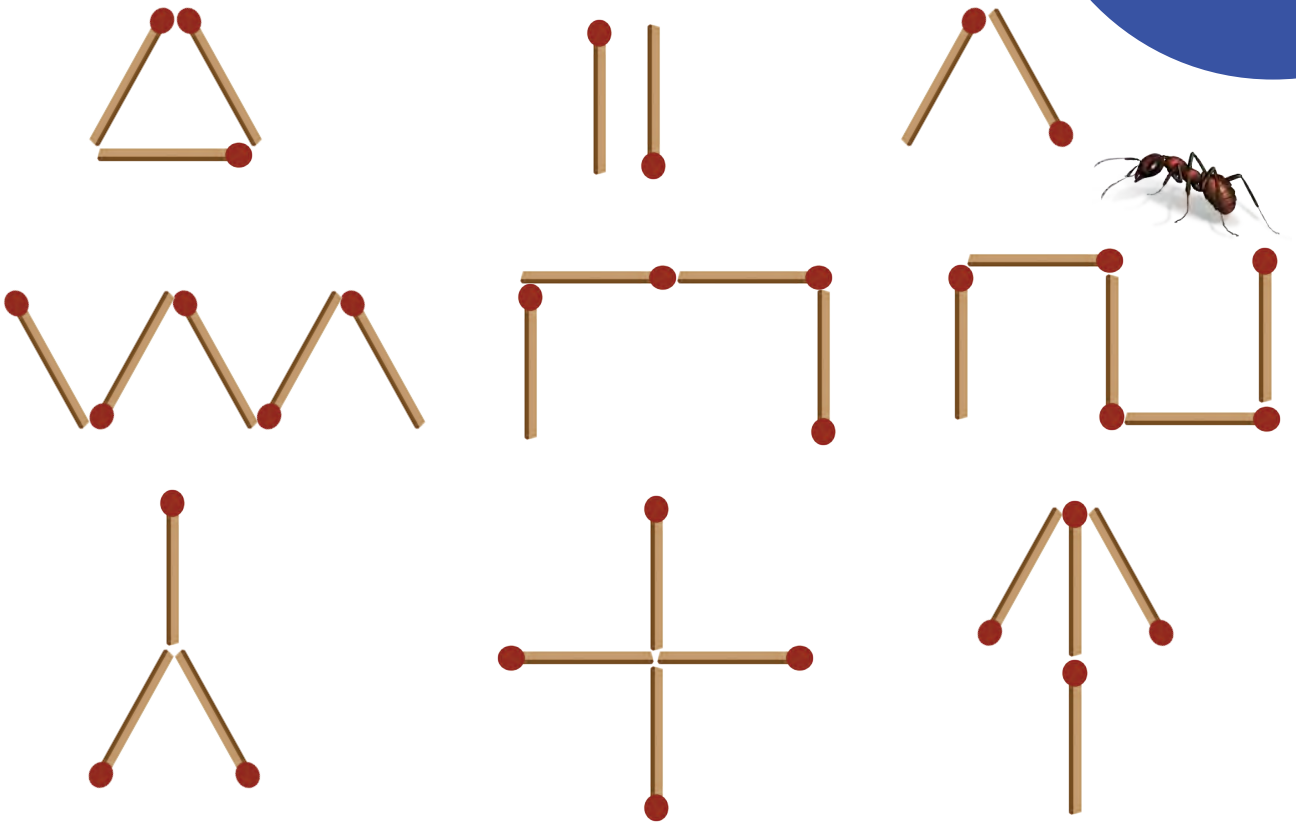
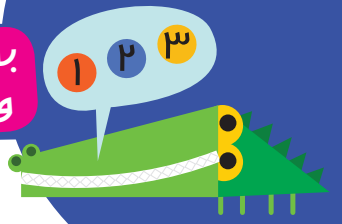
هفته

مشابه این فعالیت را در کلاس انجام دهید و از دانش‌آموزان بخواهید شما انگشتان دو دست خود را باز کنند. هدف این تمرین‌ها جمع دو عدد نیست. کافی است به همان تعدادی که از انگشتان یک دست بسته می‌شود، انگشتان دست دیگر باز شود.



هر شکل با چند چوب کبریت درست شده است؟ شما هم با چوب کبریت چند تا شکل بساز و بشمار. جدول های شگفت انگیز را با رنگ مناسب کامل کن.

بشمار
و بگو

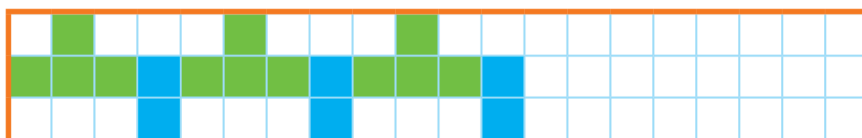






از هدف های دیگر فعالیت بالا آشنایی دانش آموزان با نمایش های مختلف یک عدد است. در صورت امکان دانش آموزان شکل هایی را رسم کنند که با چوب کبریت ساخته اند. فعالیت بالا را با چوب کبریت یا چیزهای مشابه در منزل انجام دهید. هر جدول شگفت انگیز از ۴ مربع کوچکتر درست شده است که باید ۴ مربع به رنگ های مختلف داشته باشد.

هجره

بشمار و بگو

هر دسته چند تا شکل دارد؟ اگر ۲ تا شکل دیگر اضافه کنیم چند تا می شود؟
الگو را به همان ترتیب ادامه بده.




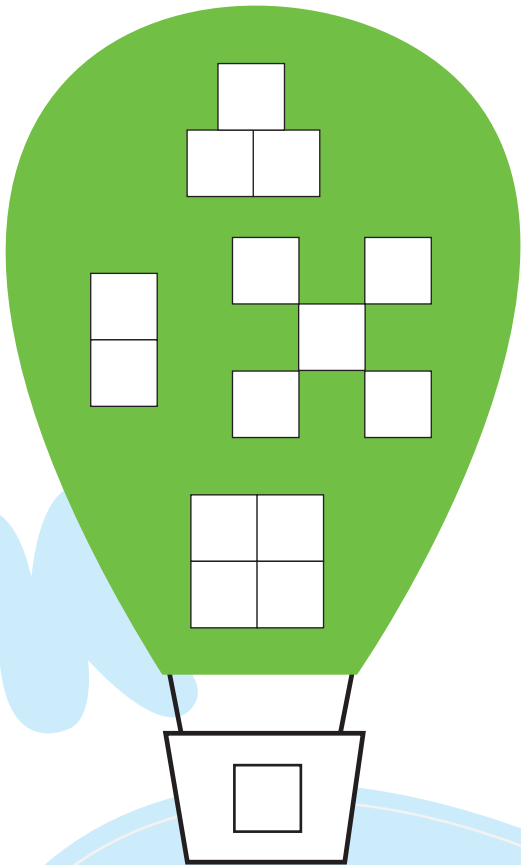
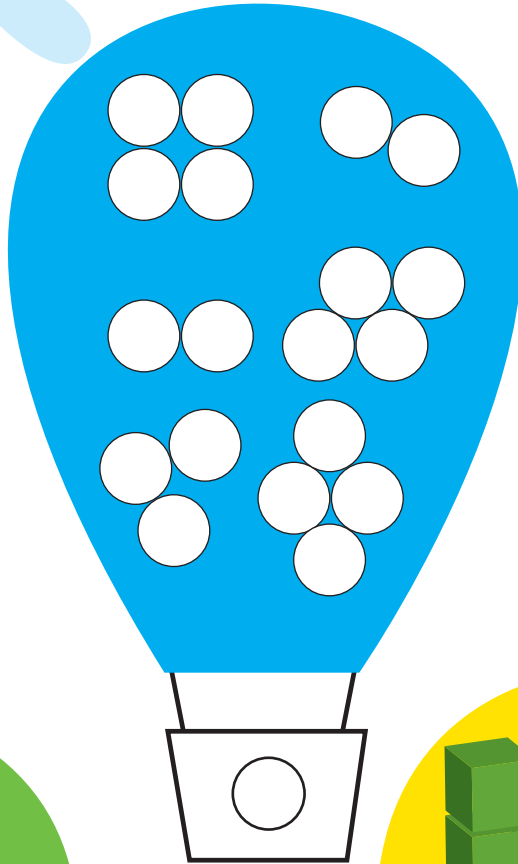
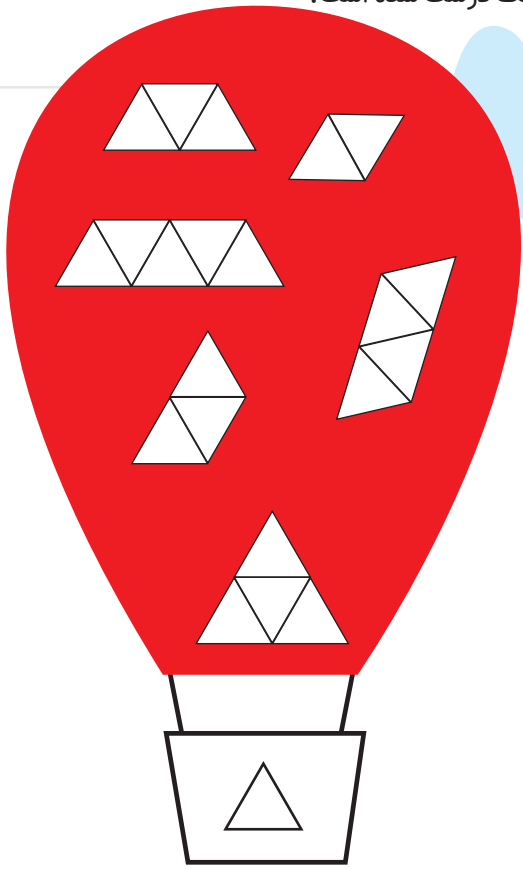
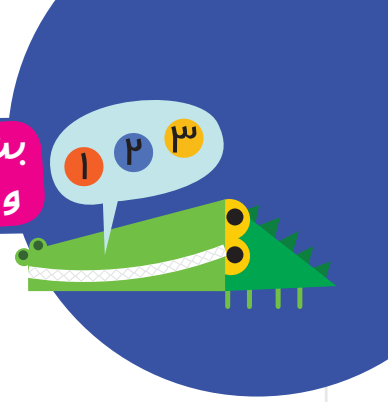
دانش آموز عدد هر دسته را بدون شمردن بگوید و ۲ تا بعد از آن را بشمرد.

مهم این است که فرزند شما برای بیان تعداد کل، دوباره از عدد یک شروع به شمردن نکند.



هر دسته از شکل‌های روی بالن از چند شکل کوچک درست شده است؟

بشمار
و بگو



در صورتی که دانش‌آموز در شمردن تعداد شکل‌های کوچک مشکل دارد می‌تواند آنها را با رنگ‌های مختلف رنگ‌آمیزی کند. می‌توانید شکل‌های مثلث، مربع و دایره را با مقوای درست کنید تا فرزند شما شکل‌های بالا را ببیند و شمردن را تمرین کند.




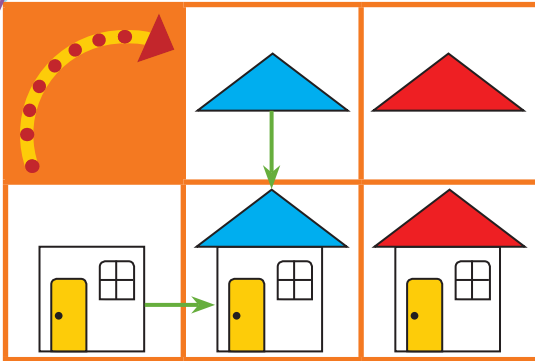


بیشتر



کامل کن

جدول را مانند نمونه کامل کن.



برای کامل کردن هر قسمت (مربع کوچک) به سطر و ستون‌ها و ترکیب آنها اشاره شود تا دانش آموز، یک کل را با اجزای داده شده بسازد.


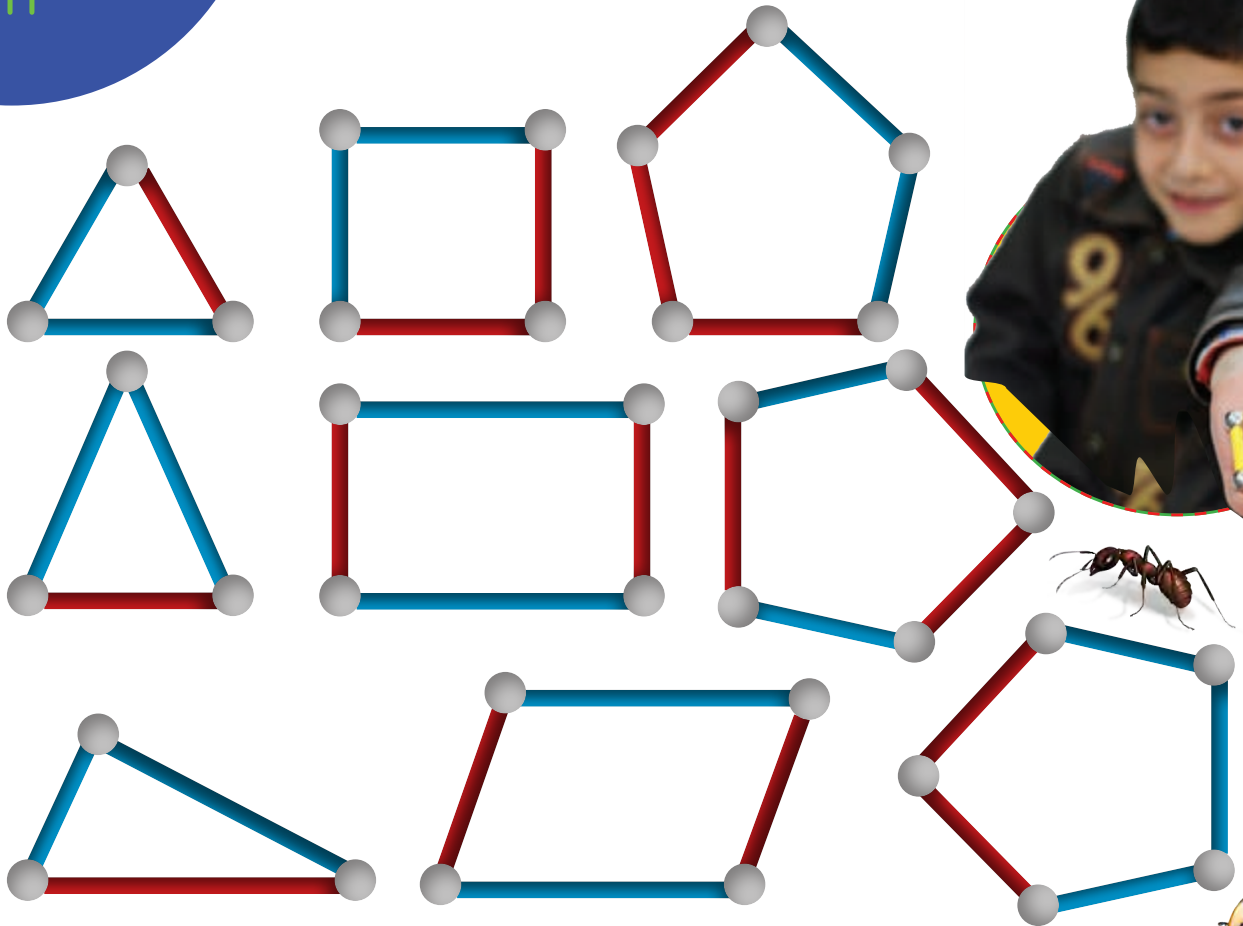
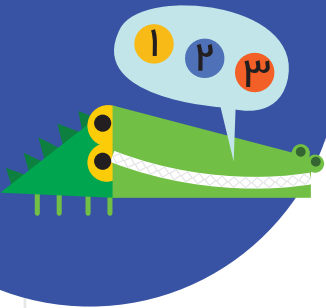
می‌توان این فعالیت را با چیزها و اسباب بازی‌ها نیز به صورت عملی انجام داد.





بشمار و بگو

هر شکل چند گوشه دارد؟ با چند میله درست شده است؟ چند تا قرمز چند تا آبی؟
الگو را با رنگ کردن ادامه بده.



لزومی ندارد که از واژه‌های ضلع یا رأس استفاده شود. دانش‌آموزان در این صفحه با شکل‌های هندسی آشنا می‌شوند.

توجه فرزندتان را به شکل‌های هندسی اطراف خود جلب کنید.



بشمار و رنگ کن

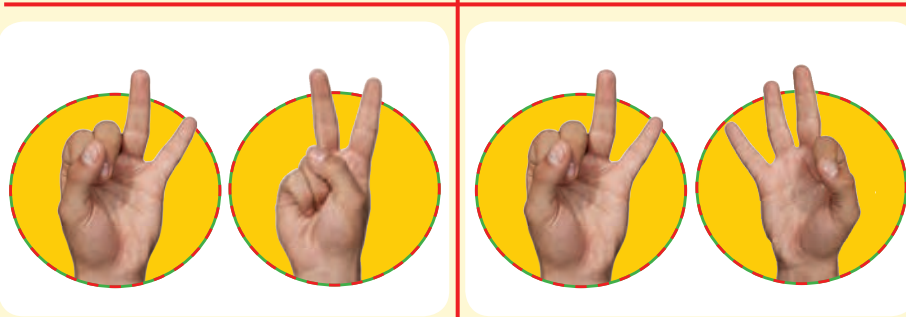
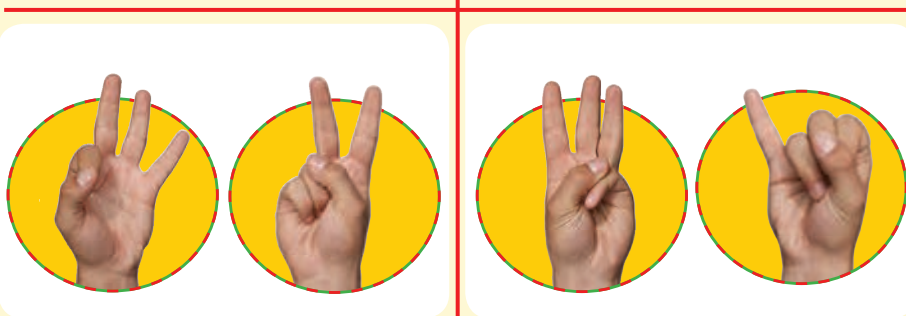
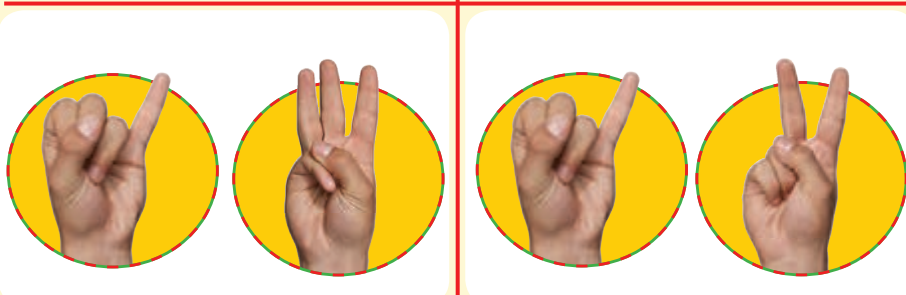
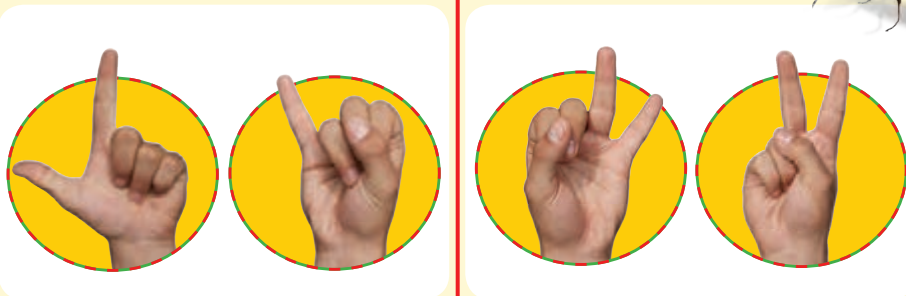
از هر شکل چند تا در تصویر دیده می شود؟
مانند نمونه برای هر یک، یک چوب خط بگذار و یک خانه رنگ کن.



از این صفحه دانش آموزان با نمودار چوب خطی آشنا می شوند و دسته های ۵ تایی آن را تا انتهای کتاب به کار می برند.
برای فرزند خود داستان استفاده از چوب خط برای شمردن را توسط انسان های غارنشین تعریف کنید. همچنین به کاربردها و ضرب المثل های مرتبط با آن اشاره کنید.

بشمار و بگو

عددی را که هر دست نشان می‌دهد، بگو؛ سپس با انگشتان دست خود شکل‌ها را نشان بده. حالا انگشتان باز یک دست را ببند و به همان تعداد انگشتان دست دیگر را باز کن. الگو را به همان ترتیب ادامه بده.





دانش‌آموزان با انتقال انگشتان دست چپ به دست راست عبارت و می‌شود..... را بیان کنند. فرزند شما در این صفحه از علامت جمع و نماد عدد استفاده نمی‌کند؛ فقط مفهوم آن را بیان می‌کند.





مانند نمونه با شابلون شکل بکش.

با ابزار
کار کن






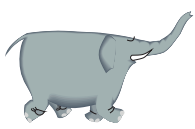

هدف این صفحه کسب مهارت استفاده از شابلون است. استفاده از شابلون و چگونگی در دست گرفتن آن را به دانش آموزان آموزش دهید. فرزند شما نیاز دارد از ابزار شابلون با مهارت استفاده کند؛ لذا در صورت لزوم زمینه‌ی تمرین کردن را در منزل فراهم کنید.



بشمار و بنویس


به تعداد هر حیوان چوب خط بکش.




				













دانش آموزان در این تمرین باید بدون رنگ کردن مربع‌ها چوب خط رسم کنند.
مشابه این تمرین را در منزل با چیزهای دیگر با فرزند خود انجام دهید.















هر شکل از چند تا  ساخته شده است؟ چند تا زرد، چند تا سبز؟ جدول های شگفت انگیز را با شکل مناسب کامل کن.

بشمار و بگو







توجه دانش آموزان را به طول دسته‌ی مکعب‌ها و تعداد آنها جلب کنید. لازم است این فعالیت را به صورت عملی انجام دهید. اگر از وسایل بالایا شبیه آن در منزل دارید، تمرین‌های مشابه را با فرزند خود انجام دهید.






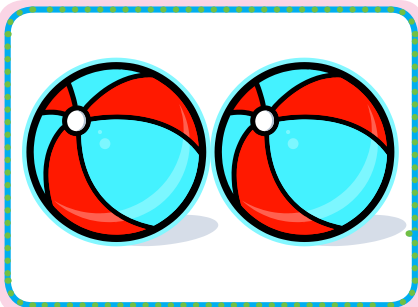


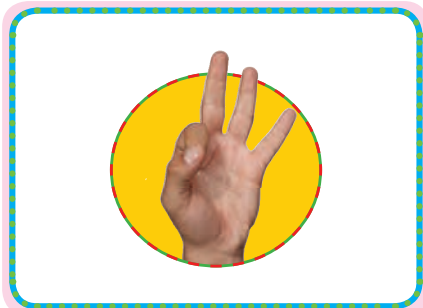


با کشیدن چوب خط بگو شکل های سمت چپ و راست با هم چند تا است؟

بشمار و بنویس





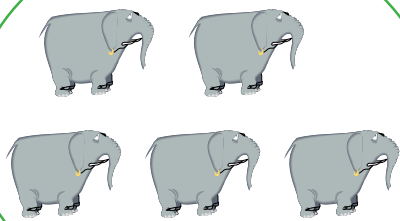


///



قبل از فعالیت این صفحه، همین کار را با چیزهای ملموس انجام دهید.
از فرزند خود بخواهید چیزهای با تعداد ۵ یا کمتر از ۵ تا را با استفاده از چوب خط شمارش کند.

بشمار و بگو

تعداد شکل‌های سمت چپ را بگو و با انگشتان یک دست نشان بده. به تعداد شکل‌های سمت راست، انگشتان خود را ببند و توضیح بده چند تا مانده است.




دانش‌آموزان می‌توانند هر انگشتی را که خواستند، ببندند. با بیان داستان برای شکل‌ها مفهوم تفریق مطرح شود.

فرزند شما در این قسمت از نماد تفریق استفاده نمی‌کند و فقط مفهوم تفریق را تمرین می‌کند.



الگوها را به همین ترتیب ادامه بده.

الگویابی
کن



The grid contains the following patterns from top to bottom:

- Row 1: Blue L-shaped lines (top-left corner).
- Row 2: Green horizontal lines.
- Row 3: Red horizontal lines.
- Row 4: Black L-shaped lines (top-right corner).
- Row 5: Red horizontal lines.
- Row 6: Blue horizontal lines.
- Row 7: Green vertical lines.
- Row 8: Red vertical lines.
- Row 9: Blue horizontal lines.
- Row 10: Green vertical lines.

دانش آموزان می‌توانند همین الگوها را ابتدا با کمک مدادهای خود یا چوب کبریت بسازند.

توجه فرزند خود را به الگوهای تکرار شونده مثل نرده و کاشی کاری جلب کنید.



سی و دو

۳۲

بشمار و بنویس

انگشتان یک دست را باز کن. به تعداد شکل‌ها انگشتان خود را ببند و به تعداد انگشت‌های باقیمانده چوب خط بکش.



Two red triangles.

Two parallel lines.



Three blue squares.

Blank space for writing.



Four green circles.

Blank space for writing.



One purple hexagon.

Blank space for writing.



Five yellow rectangles.

Blank space for writing.

دانش آموزان می‌توانند به هر شکلی که می‌خواهند انگشتان خود را ببندند. در این صفحه دانش آموزان به طور غیرمستقیم با مفهوم صفر




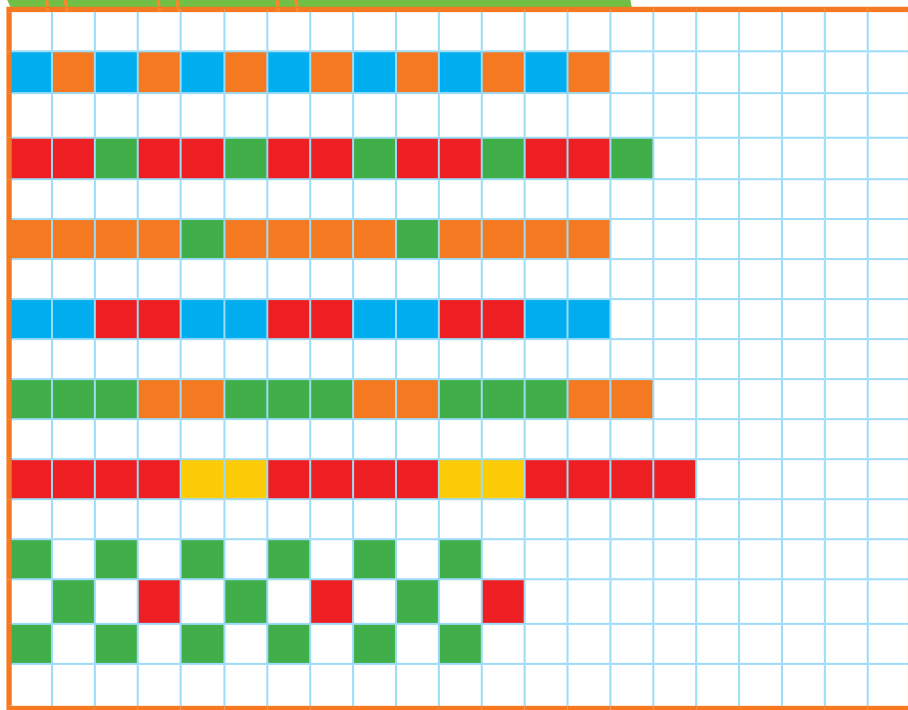

مواجه می‌شوند.

اگر با فرزند خود تمرین می‌کنید فقط از عددهای کمتر از ۵ استفاده کنید.



در هر ردیف، الگوها را به همان ترتیب ادامه بده. بخش تکرار شونده ی الگو را در سمت راست بکش. جدول های شگفت انگیز را با رنگ مناسب کامل کن.

الگویابی
کن




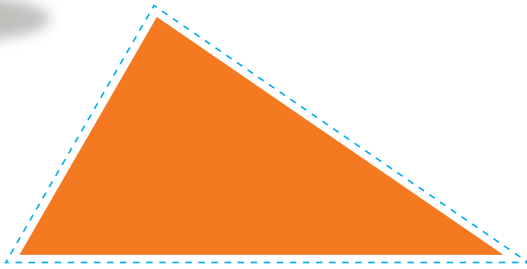

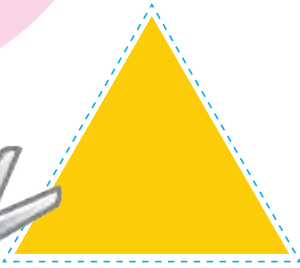
دانش آموزان را تشویق کنید، برای تشخیص شکلی که تکرار می شود، الگو را به صورت کلامی بیان کنند و سپس شکل تکرار شونده را در قسمت سمت راست بکشند.

تشخیص شکلی که تکرار می شود، دشوار است. برای اینکه فرزند شما به این مرحله برسد، باید صبور باشید.



با ابزار کار کن

شکل‌های زیر را با خط کش روی کاغذ بکش و دور آنها را با قیچی ببر. لبه‌ها را با مداد رنگی رنگ کن. هر شکل چند گوشه و چند لبه دارد؟



۱



۲



۳



۴







بشمار و رنگ کن

تعداد شکل‌های سمت چپ را با دست چپ، و تعداد شکل‌های سمت راست را با دست راست نشان بده. این دو شکل روی هم چند تا چینه دارند؟ به همان تعداد چینه‌های سمت راست را رنگ کن.



دانش‌آموزان می‌توانند برای رنگ کردن چینه‌ی ۵ تایی






از رنگ مورد علاقه‌ی خود استفاده کنند. همچنین بهتر است رنگ کردن را از پایین به بالا و به دنبال هم انجام دهند.

در صورتی که در منزل وسایل مشابه چینه دارید، همین فعالیت را با عدد‌های ۵ و کمتر از ۵ انجام دهید.



در هر قسمت با انگشتان یک دست نشان بده چند شکل وجود دارد. به تعداد شکل های مثل هم انگشتان دست را ببند. با چوب خط نشان بده چند تا مانده است.


بشمار و بنویس



هدف این صفحه، آماده کردن دانش آموز برای مفهوم تفریق و همچنین استفاده از نماد چوب خط برای نشان دادن حاصل تفریق است. دانش آموزان در این مرحله از نماد تفریق استفاده نمی کنند و عددهای به کار رفته کمتر از ۶ است.


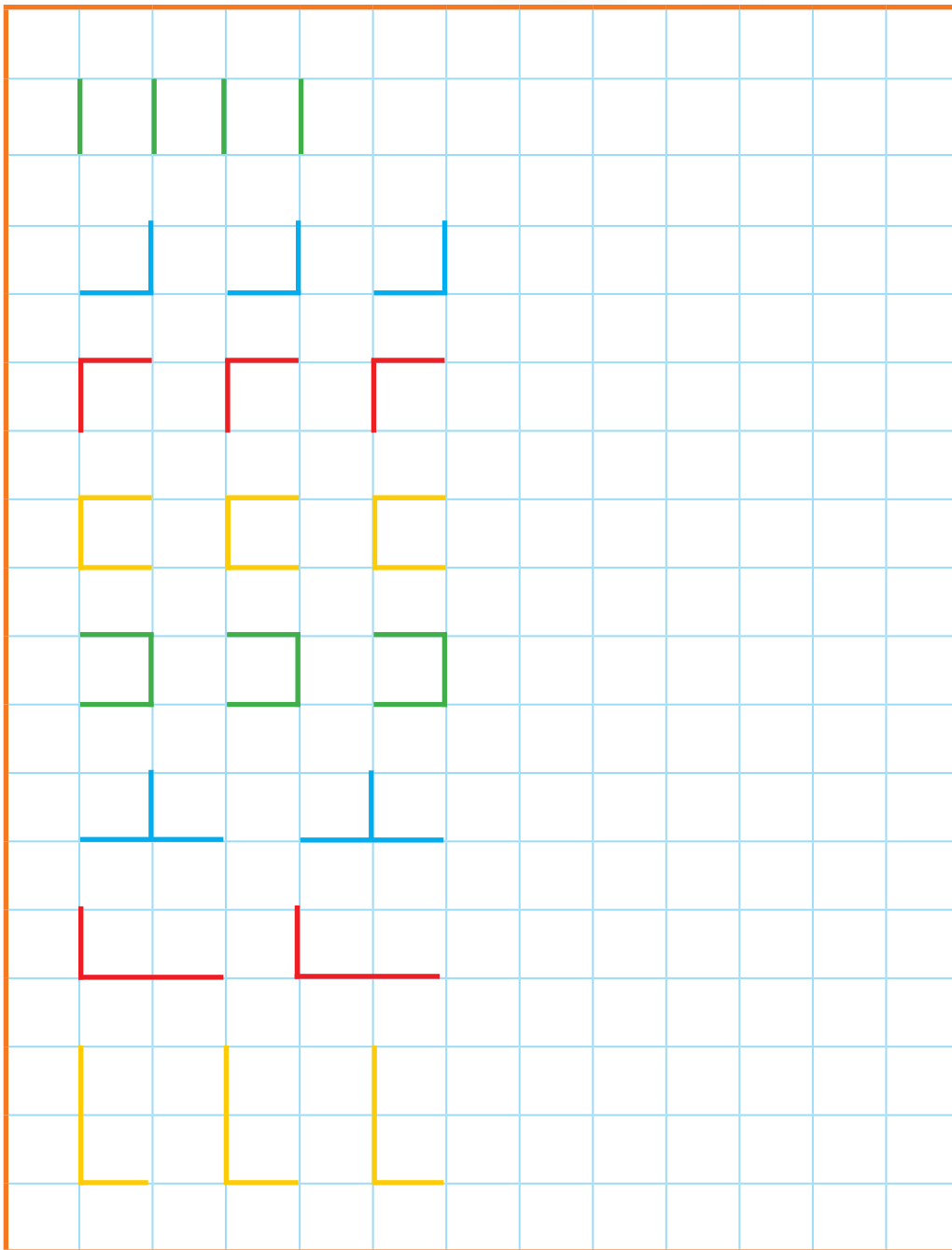


سی و هشتم



الگویابی کن

الگوها را به همین ترتیب ادامه بده
و شکلی را که تکرار می‌شود مانند نمونه در سمت راست بکش.



سی و نه

برای تشخیص شکل تکرار شونده از دانش آموزان بخواهید الگو را به صورت کلامی برای یکدیگر توضیح دهند.
از فرزند خود بخواهید الگو را برای شما توضیح دهد. در صورتی که تمام الگوها را به طور کامل درک می‌کند و توضیح می‌دهد،
می‌توانید او را تشویق کنید تا الگوی جدیدی بسازد.



از چینه‌های سبز از بالا به تعداد چوب خط‌ها خط بزن. به تعداد باقیمانده از چینه‌های سمت راست رنگ کن.

بشمار و
رنگ کن



Four rows of a counting exercise. Each row consists of a light blue rounded rectangle containing a vertical stack of green blocks on the left, a central pink-bordered box with a number of black lines, and a vertical stack of white blocks on the right. The rows are as follows:

- Row 1: 4 green blocks, 2 lines, 5 white blocks.
- Row 2: 4 green blocks, 3 lines, 5 white blocks.
- Row 3: 4 green blocks, 2 lines, 5 white blocks.
- Row 4: 4 green blocks, 1 line, 5 white blocks.



دانش‌آموزان در این صفحه از بازنمایی‌های مختلف عدد مثل چوب خط و چینه برای تمرین مفهوم تفریق استفاده می‌کنند. همین فعالیت را می‌توانید با ابزارهای دیگر غیر از چینه انجام دهید. می‌توانید از وسایل و اسباب‌بازی‌های فرزند خود استفاده کنید.



بازی

بشمار و بگو



به تصویرهای زیر دقت کن و برای آن یک داستان بساز و بگو.





به تصاویر با دقت نگاه کن. تو هم همین طوری شکل درست کن.

با ابزار
کار کن



توجه دانش آموز را به تقارن شکل جلب کنید. هر شکل، دقیقاً در طرف دیگر هم وجود دارد.

کار با ابزار به مهارت نیاز دارد. فرزند شما باید شکل‌ها را با دقت و مهارت با شابلون رسم کند. همچنین مداد پرتنگ در اختیار فرزند خود قرار دهید.






چهل و دو

۴۲



از هر کیک چند تکه برداشته شده است؟ از هر کیک چند تکه باقی مانده است؟ روی هم چند تکه کیک مانده است؟ با چوب خط نشان بده. جدول های شگفت انگیز را با رنگ مناسب کامل کن.

بشمار و بنویس



با این فعالیت مفاهیم مربوط به جمع و تفریق، مرور و آمادگی لازم برای شروع معرفی نمادها ایجاد می شود. همین فعالیت را هنگام صرف غذا به صورت های مختلف می توان تمرین کرد و موقعیت حل مسئله را برای آنها ایجاد کرد.





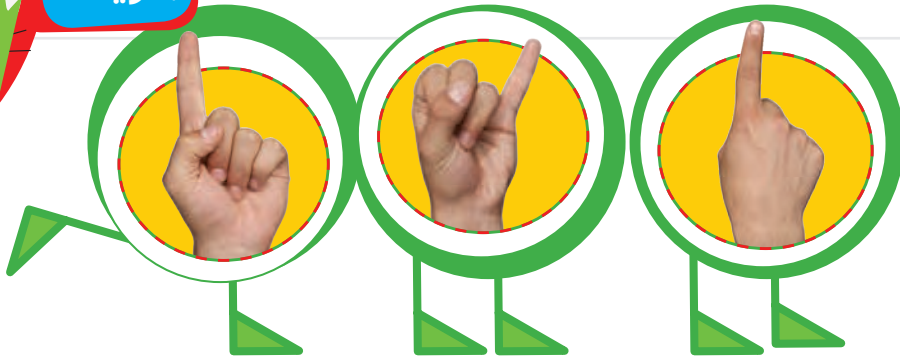
چهل و چهار

۴۴




بشمار و بنویس

هر شکل چه عددی را نشان می دهد؟



الگوها را به همان ترتیب ادامه بده و شکلی را که در هر الگو تکرار می شود، بکش.

الگویابی
کن



The cake illustration features a grid for pattern recognition. The top part of the grid shows four rows of patterns: a green zigzag, a purple zigzag, a red square wave, and a blank grid. The bottom part of the grid shows a pattern of colored squares (yellow, red, green) and a blank grid.

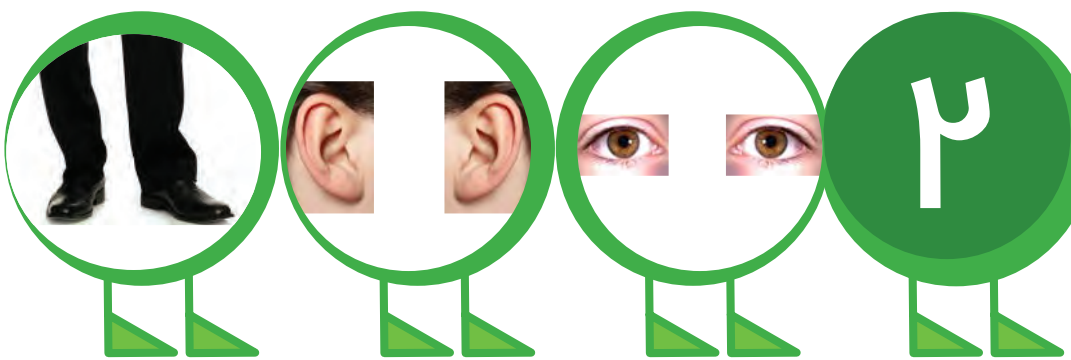

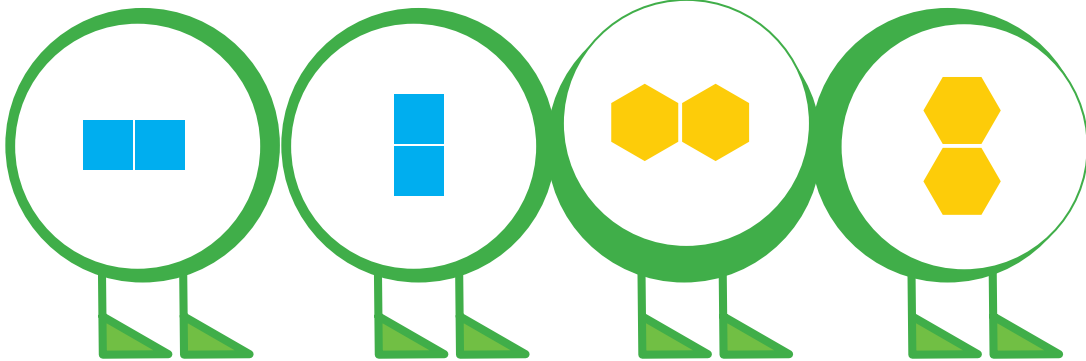

توجه کنید که در بعضی از الگوها بین شکل های تکرار شونده فاصله وجود دارد و در بعضی موارد شکل ها به هم متصل است.
اگر فرزند شما در ادامه دادن الگوها تسلط دارد از او بخواهید در کاغذهای شطرنجی، الگوهای جدیدی طراحی کند.







بشمار و بنویس

هر شکل چه عددی را نشان می‌دهد؟













خوب است به صفحات قبل که شکل‌های بالا در آن‌ها وجود دارد مراجعه کنید تا مفاهیم برای دانش‌آموزان تداعی شود. به چگونگی نوشتن نماد ۲ و حرکت قلم توجه و فرزند خود را تشویق کنید تا به همین ترتیب عدد ۲ را بنویسد.

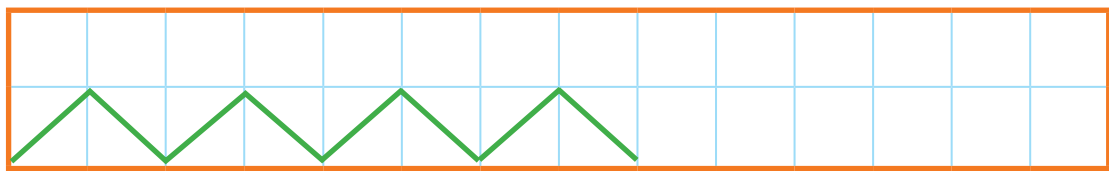



دور عدد درست یک خط بکش. 
الگورا با خط کش ادامه بده. 

بشمار و بنویس



 		
۱ ۲	۱ ۲	۱ ۲
		
۱ ۲	۱ ۲	۱ ۲
		
۱ ۲	۱ ۲	۱ ۲





از دانش آموز بخواهید دلیل انتخاب خود را بیان کند.
از موقعیت‌های مختلف برای مقایسه‌ی عددهای یک و دو استفاده کنید. هر بار از فرزند خود بخواهید نماد مربوط به جواب را بنویسد.







با ابزار کار کن

با دقت به شکل‌ها نگاه کن و شما هم در دو طرف خط با شابلون شکل بکش.






بشمار و بگو

برای هر کدام یک داستان بگو.

دور هر میز چند نفر جا می‌شوند؟ چند نفر نشسته‌اند؟ چند تا جای خالی است؟




تصویر میز و صندلی بدون حضور افراد را در مقابل

دانش‌آموزان قرار دهید. با استفاده از مهره به جای اشخاص همین فعالیت را به صورت عملی انجام دهید.

از موقعیت‌های مختلف مانند صرف غذا در کنار خانواده استفاده کنید و مشابه این فعالیت را با فرزند خود انجام دهید.


هر شکل چه عددی را نشان می‌دهد؟

بشمار و
بنویس





به صفحات قبل مراجعه کنید. دانش‌آموزان را تشویق کنید قسمت‌هایی را نشان دهند که نمایانگر عدد ۳ است. همچنین می‌توانید از درس‌های دیگر کمک بگیرید؛ برای مثال، کلمه‌ی تاب ۳ حرف دارد.
به نقطه‌ی شروع نوشتن و حرکت قلم برای نوشتن نماد ۳ توجه کنید. فرزند شما لازم است همین حرکت را تکرار کند.

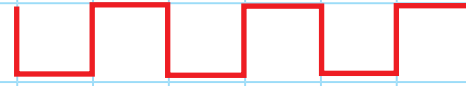




پنج‌جاه و دو



الگویابی کن


الگوها را ادامه بده و شکلی را که تکرار می شود در ستون سمت راست بکش. 
الگوها را ادامه بده و در جاهای خالی یک الگو بساز. 



Green	Green	Green	Green	Green	Green	Green	Green
Green	Green	Green	Green	Green	Green	Green	Green
Red	Blue	Red	Blue	Red	Blue	Red	Blue
Red	Blue	Red	Blue	Red	Blue	Red	Blue
Blue	Blue	Blue	Blue	Blue	Blue	Blue	Blue
Red	Yellow	Red	Yellow	Red	Yellow	Red	Yellow
Green	Green	Green	Green	Green	Green	Green	Green

Red	Blue	Yellow	Green
Blue	Red	Yellow	Green
Blue	Red	Yellow	Green
Blue	Red	Yellow	Green




پنج‌جاه و سه



هر شکل چه عددی را نشان می‌دهد؟

بشمار و بنویس



از دانش‌آموزان بخواهید مصداق‌های عدد ۴ را در زندگی روزمره مثل چهار فصل، چهار چرخ ماشین و ... بیان کنند. برای نشان دادن عدد چهار ۲ نماد وجود دارد. در حال حاضر فرزند شما باید فقط همین نماد را تمرین کند.



بجای چهار

۵۴



بشمار و بنویس




عدد مناسب هر شکل را بنویس. اندازه‌ی هر شکل چند تا گیره است؟ کنار آن بنویس.



Blank box with a dashed line for writing.

Blank box with a dashed line for writing.




Blank box with a dashed line for writing.



Blank box with a dashed line for writing.

Blank box with a dashed line for writing.

Blank box with a dashed line for writing.



Blank box with a dashed line for writing, connected to the paper clips by a line.



Blank box with a dashed line for writing, connected to the paper clips by a line.



Blank box with a dashed line for writing, connected to the paper clips by a line.

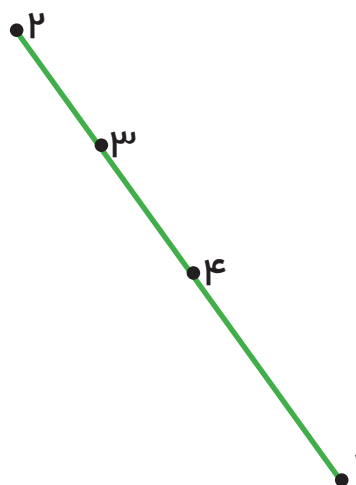
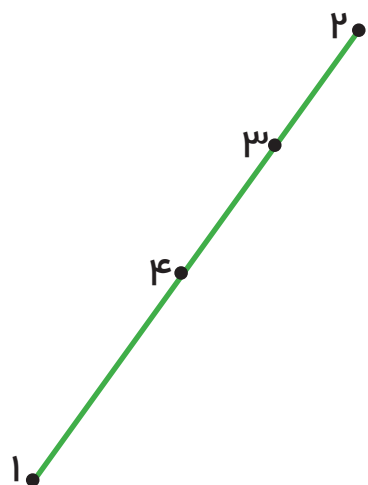
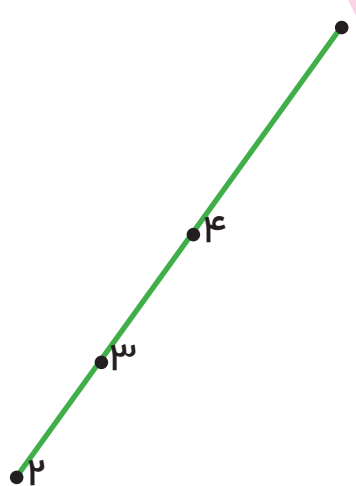
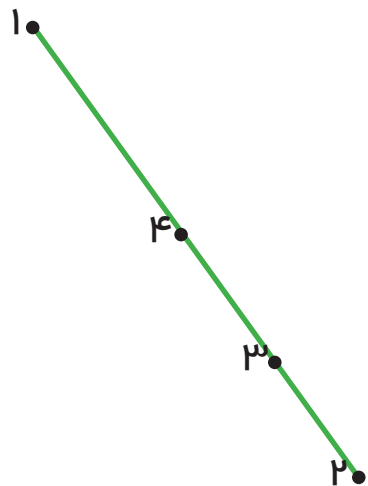
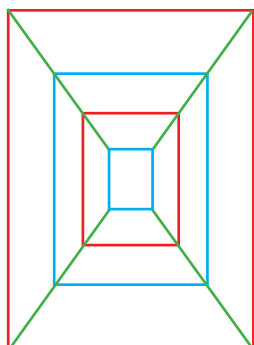
هدف این فعالیت شمارش تعداد گیره‌هاست تا دانش‌آموز با عدد به‌عنوان طول آشنا شود.

در این مرحله فرزند شما می‌تواند اندازه‌ی شکلی را پیدا کند که دقیقاً برابر ۱، ۲، ۳ یا ۴ تا از یک چیز کوچک‌تر است.



عددهای مثل هم را با خط کش به هم وصل کن تا شکل سمت چپ به دست آید.
جدول های شگفت انگیز را با عددهای مناسب پر کن.

با ابزار کار کن




۲	۱	۴	۳
۳			۲
۱			۴
۴	۳	۲	۱

۱	۲		
۴			۱
۲	۱		۳
۳	۴	۱	۲

با توجه به شرح کار این فعالیت ممکن است دانش آموزان عددهای مثل هم را به صورت قطری به هم وصل کنند؛ به آنها شکل اصلی را نشان دهید تا متوجه اشکال خود بشوند.

کاغذهای باطله را در اختیار فرزند خود قرار دهید تا کار با خط کش را تمرین کند و به مهارت برسد.

پنجاه و شش

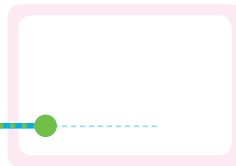
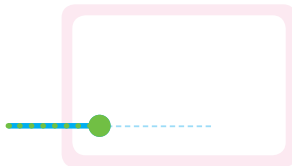

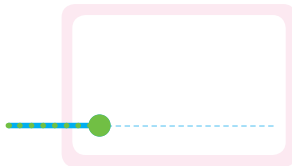

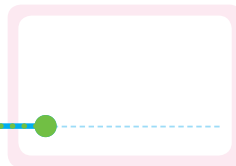
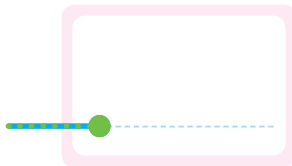
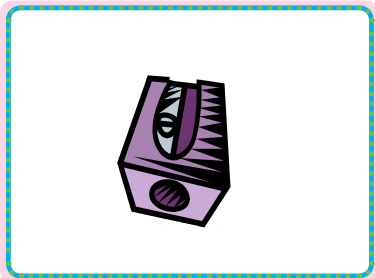
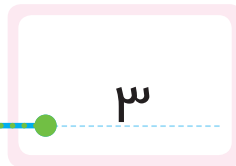
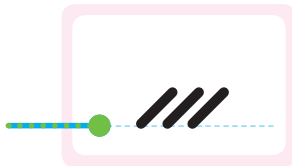
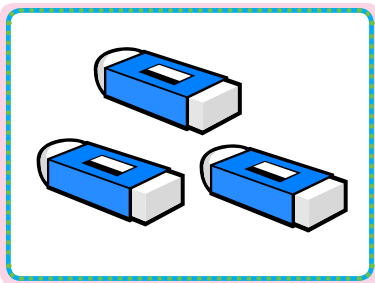


۹



بشمار و بنویس

در هر دسته چند تا شکل هست؟
مانند نمونه عمل کن.



	۲	۳	
۴			۱
۳			۲
۲	۴	۱	۳

		۴	۳
۳	۴	۱	
۱	۲		
۴	۳		۱


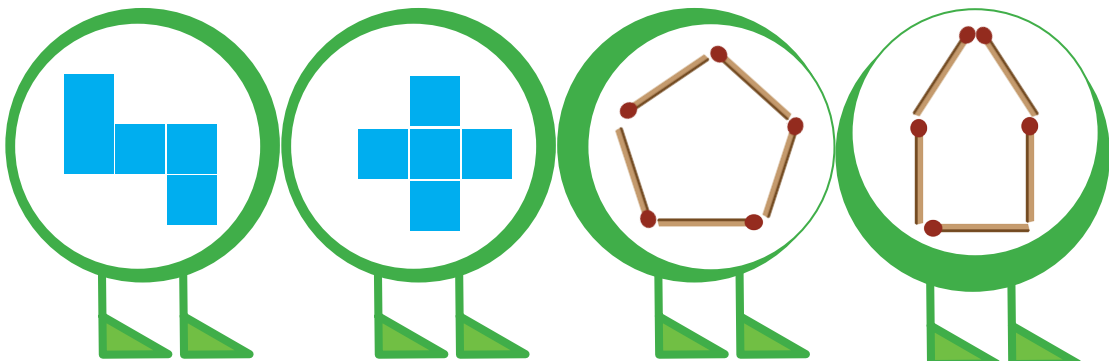
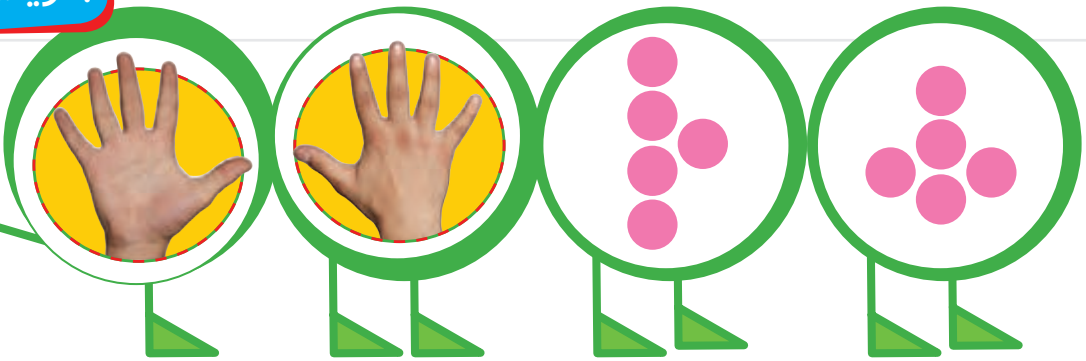
دانش آموزان ممکن است جدول های شگفت انگیز را به روش های مختلف حل کنند. به آنها فرصت دهید تا روش خود را در کلاس مطرح کنند. از فرزند خود بخواهید چیزهای مختلفی را که در منزل می بیند، بشمارد و عدد مربوط به آن را با چوب خط نمایش دهد و کنار آن بچسباند.





بشمار و بنویس

هر شکل چه عددی را نشان می‌دهد؟




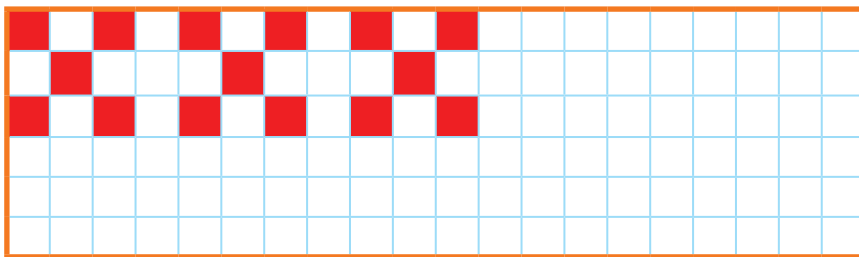
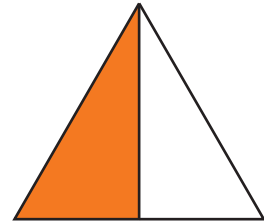

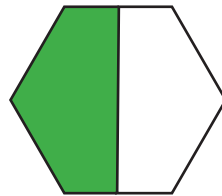


از دانش‌آموزان بخواهید با ۵ مکعب کوچک (چینه) شکل‌های گوناگونی بسازند. توجه آنها را به نمونه‌های بالا جلب کنید.

از فرزندان بخواهید به جهت حرکت قلم و چگونگی نوشتن عدد ۵ توجه کند. برای نوشتن عدد ۵ نماد دیگری هم هست؛ اما بهتر است دندانه‌ی

نماد ۵ را فراموش نکند.

دو نیمه‌ی مثل هم را به هم وصل کن.
نیمه‌ی دیگر هر شکل را مثل نیمه‌ی رنگ شده رنگ کن.

کامل کن



از دانش‌آموزان بخواهید الگویی طرح کنند که شکل تکرار شونده‌ی آن ۵ تا مربع داشته باشد.
توجه فرزند خود را به شکل‌های متقارن در محیط مانند نمونه‌های بالا جلب کنید.






شماره

۶۰



بشمار و بنویس

شکل‌های سمت چپ و راست روی هم چند تاست؟ با یک عدد نشان بده.





قبل از ورود به این صفحه، فعالیت بالا را با چیزهای ملموس انجام دهید. دانش‌آموزان را به صفحه‌ی ابتدای این بخش هم ارجاع دهید. تمرین‌هایی مانند نمونه‌های بالا را به صورت کلامی برای فرزند خود بیان کنید تا او حاصل جمع را روی کاغذ بنویسد.





اگر به تعداد شکل های سمت راست از شکل های سمت چپ برداریم چند تا می ماند؟ عدد آن را بنویس.



بشمار و بنویس













تمرین تفریق با چیزهای ملموس فراموش نشود تا مفهوم صفر برای دانش آموزان شکل بگیرد. در زندگی روزمره، موقعیت هایی برای معرفی مفهوم صفر اتفاق می افتد که می توان از آنها برای آموزش صفر استفاده کرد.




شماره و ردیف







۶۲



بشمار و بنویس

تعداد هر شکل را بنویس.

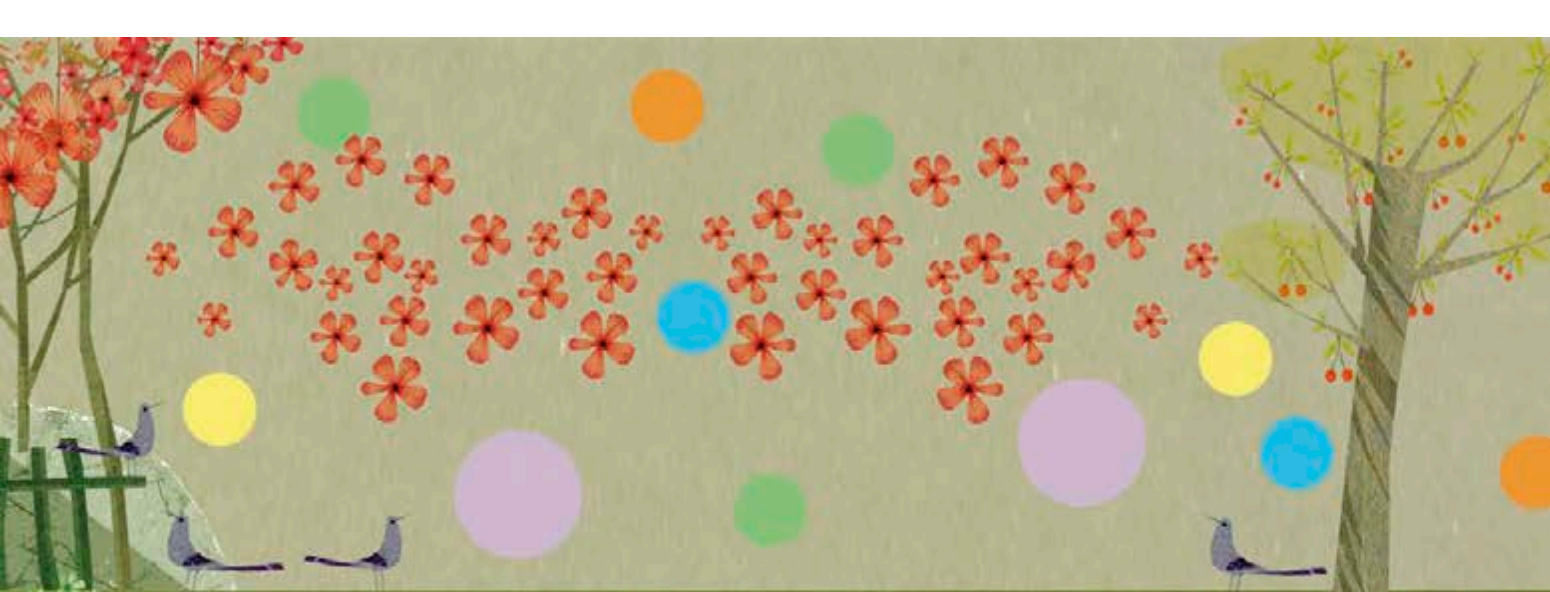


ترتیب عددهای ۰ تا ۵ را به دانش‌آموزان آموزش دهید.

از فرزند خود بخواهید موقع نوشتن عددهای ۰ تا ۵، آنها را بلند بلند بیان کند.









بشمار و بنویس



انگشتان یک دست را مانند نمونه تا جایی که امکان دارد به دست دیگر منتقل کن و بعد با چوب خط نشان بده.





شکل های هر دو دسته روی هم چند تا می شود؟ جواب را با چوب خط نشان بده.
با چوب خط نشان بده اندازه ی مداد چند تا چینه است.


بشمار و بنویس














از دانش آموزان بخواهید برای پیدا کردن پاسخ از رسم چوب خطها استفاده، و درستی پاسخ را با انگشتان دست هم کنترل کنند.
از فرزند خود بخواهید عددهای ۱ تا ۹ را با چوب خط به شما نشان دهد.





بشمار و بنویس

به تعداد چوب خط‌های سمت چپ، رنگ آبی و به تعداد چوب خط‌های سمت راست، رنگ سبز بزن.



دانش‌آموزان تا این مرحله تا ۵ را بدون شمارش شناسایی می‌کنند. در آموزش عدد ۶ تأکید بر این است که عدد ۶ را به صورت ۵ و ۱ ببینند.

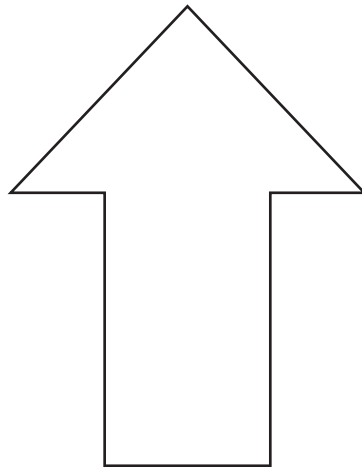
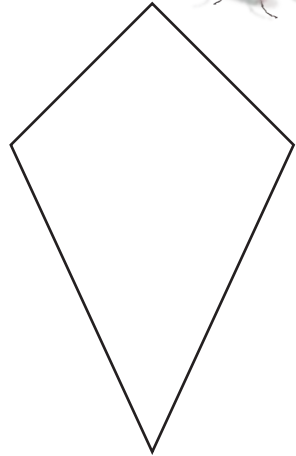


نماد عدد ۶ به دو صورت است. فرزند شما در حال حاضر فقط همین نوع را تمرین کند.



مانند نمونه با استفاده از خط کش، خطی بکش که شکل را دو نیمه‌ی مثل هم کند. هر دو نیمه را مثل هم رنگ کن.

مربع‌های سمت راست خط را طوری رنگ کن که مانند شکل‌های سمت چپ دو نیمه‌ی مثل هم به وجود آید.

با ابزار کار کن



۲	۵	۱		۳	۴
۳	۴		۲	۵	۱
۱	۲	۵		۶	۳
۴	۶		۵	۱	۲
۵	۱	۴		۲	۶
۶	۳		۱	۴	۵

۱	۴		۳	۲	۵
۲	۵	۳		۴	۶
۶	۱	۲	۵		۴
۵	۳	۴	۲	۶	
	۶	۱	۴	۵	۲
۴		۵	۶	۱	۳

در هر مستطیل 3×2 ، که خطوط آن پررنگ شده است، باید عددهای ۱ تا ۶ باشد. بنابراین، علاوه بر سطر و ستون، توجه دانش‌آموزان را به این مسئله جلب کنید.


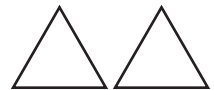
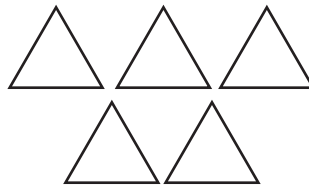
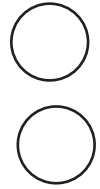
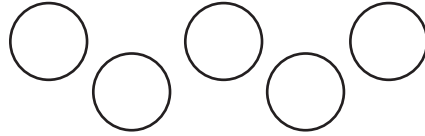
توجه فرزند خود را به شکل‌های متقارن در اطراف خود جلب کنید.

شصت و هشتم



بشمار و بنویس

به تعداد انگشتان دست چپ، رنگ آبی و به تعداد انگشتان دست راست، رنگ سبز بزن.





فعالیت‌ها و تمرین‌های بالا مقدمه‌ای است تا دانش‌آموزان عدد ۷ را به صورت ۵ و ۲ ببینند. به صفحات قبل (۶۵) نیز مراجعه کنید.

به جهت حرکت قلم در نوشتن نماد عدد ۷ توجه کنید.





عدد مربوط به هر دسته را زیر آن بنویس. در هر قسمت دسته‌ای را رنگ کن که شکل‌های بیشتری دارد.
الگو را با خط کش ادامه بده.

بشمار و بنویس





Blank space for writing the number 6.

Blank space for writing the number 5.



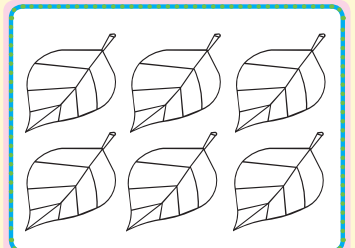
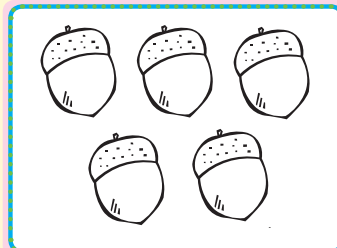
Blank space for writing the number 6.

Blank space for writing the number 5.



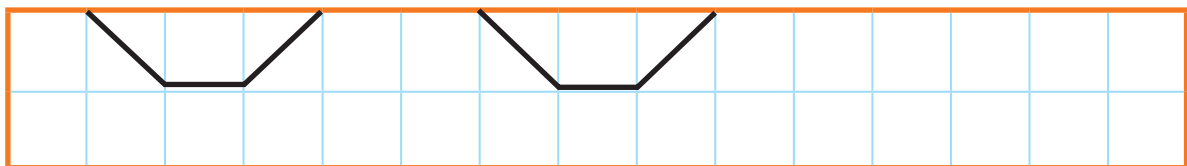
Blank space for writing the number 6.

Blank space for writing the number 4.



Blank space for writing the number 5.

Blank space for writing the number 6.



هدف این صفحه، آموزش اولیه‌ی مفهوم مقایسه‌ی دو عدد (کمتر و بیشتر) است. این مفهوم در صورت لزوم با چیزهای دیگر هم تمرین شود. از فرزند خود بخواهید در محیط زندگی دو چیز مرتبط مانند قاشق و چنگال را بشمارد و بگوید کدام یک بیشتر است.



هفتاد



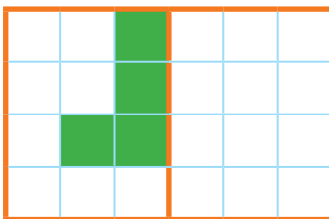
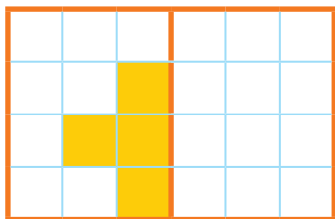
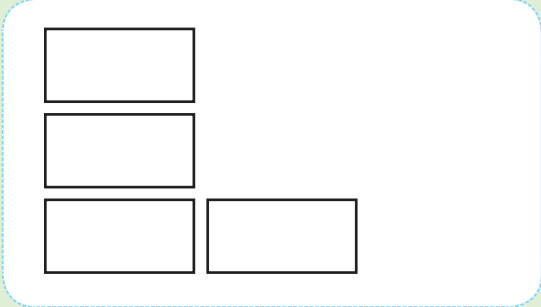
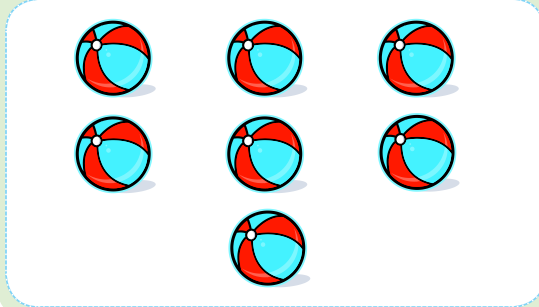
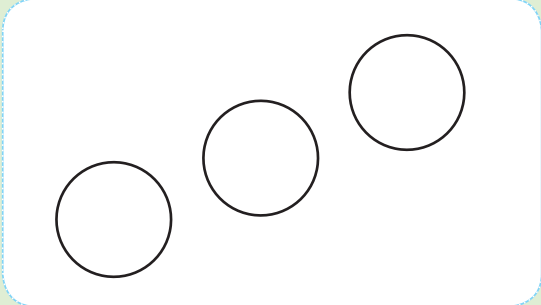
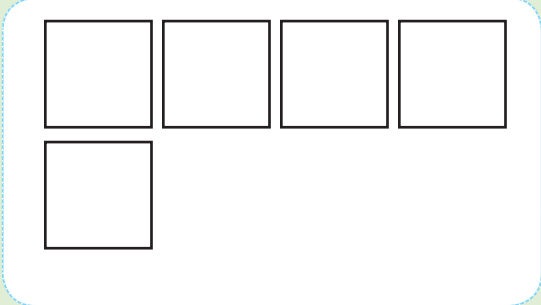



دبستان دخترانه‌ی ریحانه



بشمار و بنویس



در هر قسمت در سمت راست، آن قدر شکل بکش که تعداد آن با دسته‌ی سمت چپ برابر شود. شکل را طوری کامل کن که دو نیمه‌ی آن مثل هم باشد.






توجه دانش‌آموزان را در رسم شکل متقارن به این نکته جلب کنید که تعداد مربع‌های رنگی در دو طرف خط باید با هم مساوی باشد. هنگام صرف غذا نمونه‌های فراوانی از برابر بودن چند دسته مثل قاشق و چنگال، بشقاب و لیوان وجود دارد.








بشمار و بنویس

مانند نمونه، عدد هر دسته را بنویس. اگر تعداد شکل‌های هر دسته برابر است، علامت مساوی (=) بگذار.



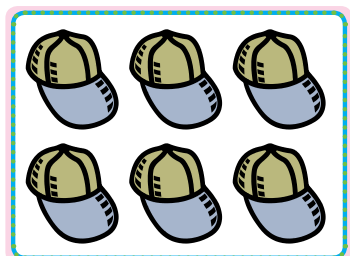
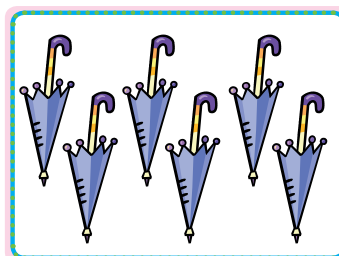

۴ = ۴

Blank space for writing the number of items in the boxes above.



Blank space for writing the number of items in the boxes above.

Blank space for writing the number of items in the boxes above.





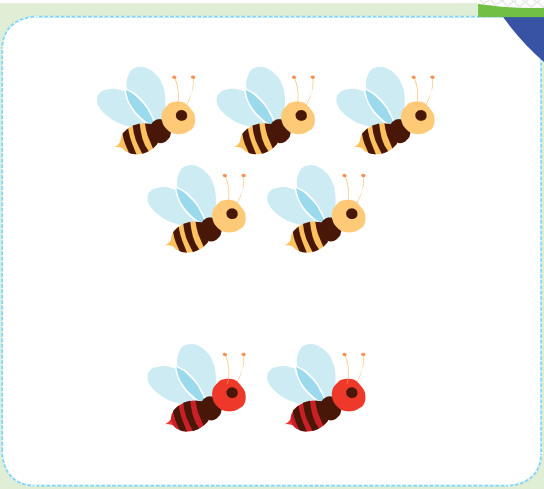
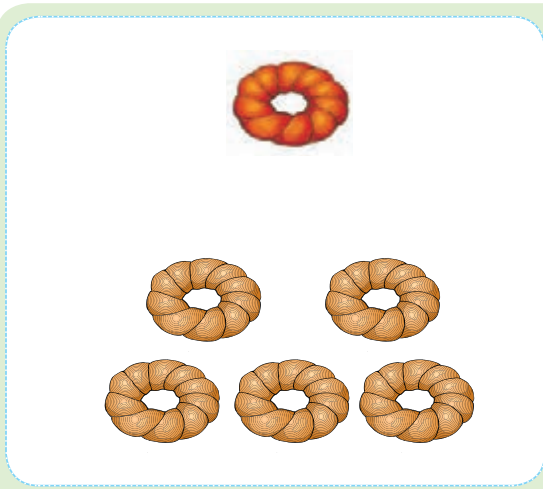
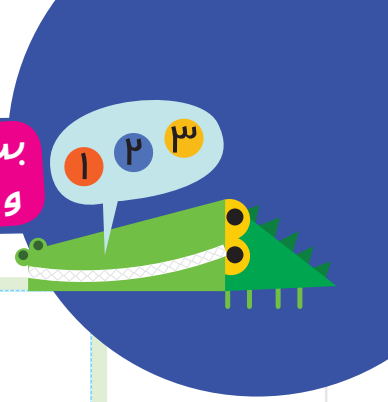
Blank space for writing the number of items in the boxes above.

Blank space for writing the number of items in the boxes above.



شکل‌های هر قسمت را بشمار و بگو.

بشمار
و بگو



دانش‌آموزان باید ابزارها و نمادهای مختلف مثل چینه و چوب خط را برای نمایش عدد ۸ به صورت ۵ و ۳ به کار ببرند. به نقطه‌ی شروع و جهت حرکت قلم و چگونگی نوشتن نماد عدد ۸ توسط فرزندتان توجه کنید و در صدد رفع اشکال احتمالی آن باشید.




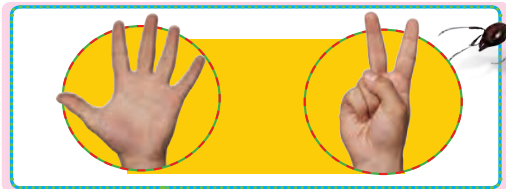
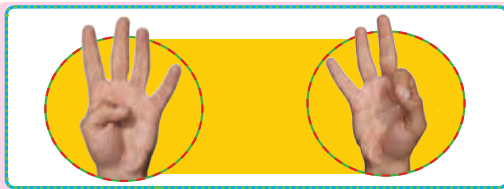


هفتاد و چهار



بشمار و بنویس

عدد هر قسمت را بنویس. اگر تعداد دو طرف برابر است، علامت مساوی (=) بگذار. با استفاده از شابلون سه شکل رسم شده را به همان ترتیب ادامه بده تا یک الگو ساخته شود.






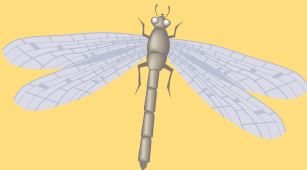

هدف این صفحه، تمرین نماد مساوی (=) به کمک ابزارها و نمادهایی است که دانش آموزان تاکنون آنها را دیده‌اند. از فرزندتان بخواهید از شابلون بیشتر استفاده کند و با آن الگوهای دیگری بسازد.



از هر شکل چند تا هست؟ با چوب خط بشمار و عدد مناسب بنویس.

بشمار و بنویس



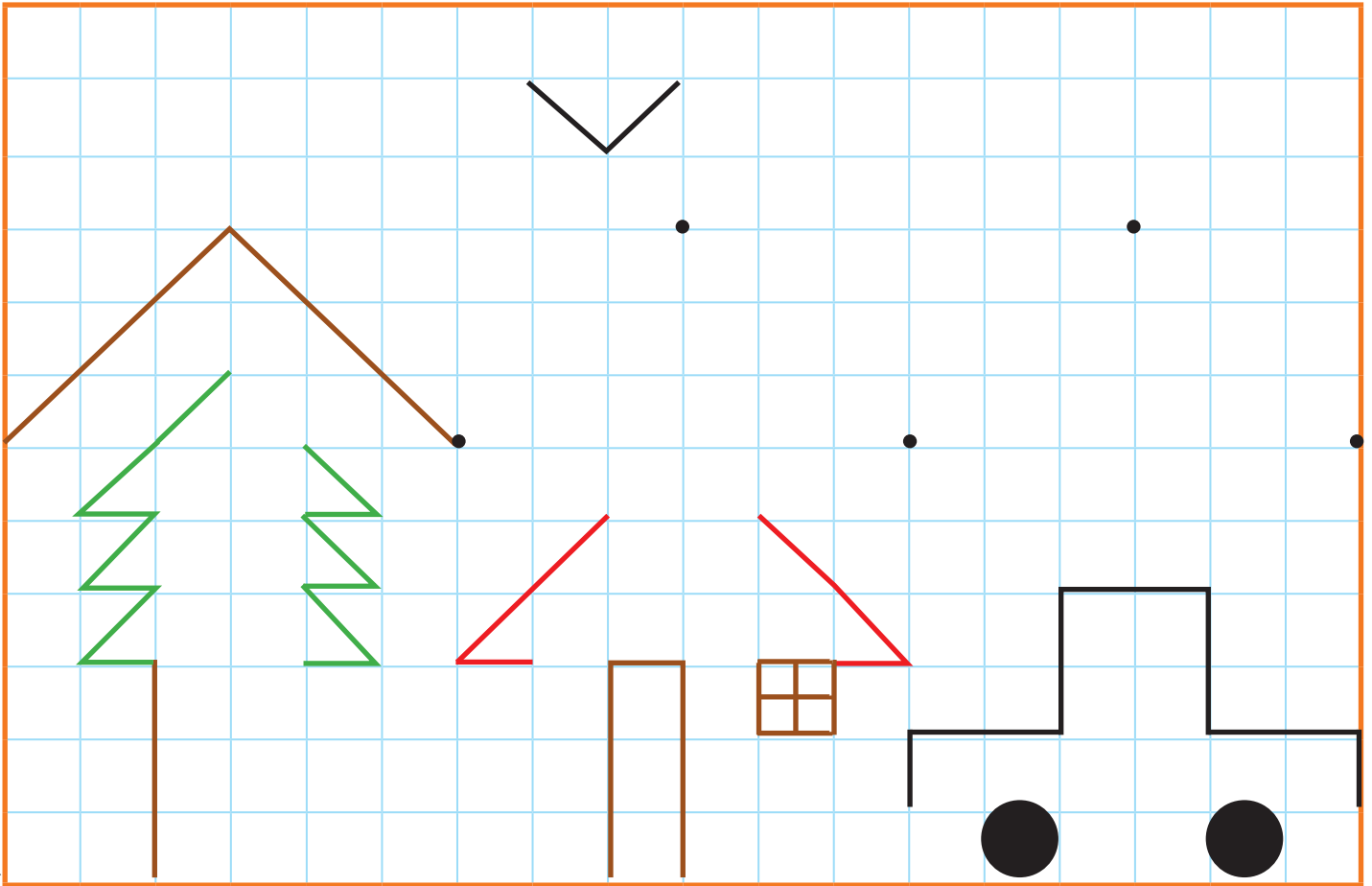
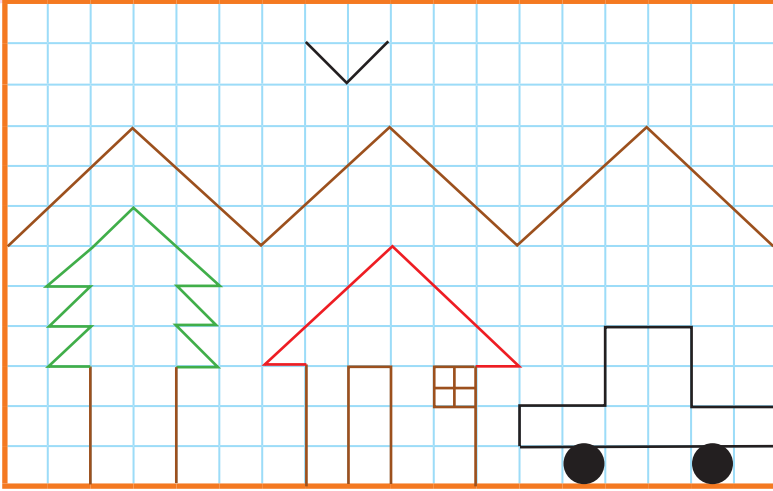
			
### //	۷		


بهتر است این فعالیت به صورت گروهی (۲ نفره) انجام شود. یک دانش آموز، شکل های مثل هم را یکی یکی بیان کند و دیگری چوب خط بگذارد. دانش آموزان همزمان با شمردن، می توانند روی شکل شمرده شده علامت بزنند. همین فعالیت را می توانید با فرزندتان به صورت دو نفره انجام دهید. شما یکی یکی بگویید و او چوب خط بگذارد.



با ابزار کار کن

شکل بالا را با خط کش در قسمت پایین بکش.





۱۲



بشمار و رنگ کن

عدد هر دسته را بنویس. دور شکل های دسته ی کمتر خط بکش.



--	--

--	--

--	--

--	--

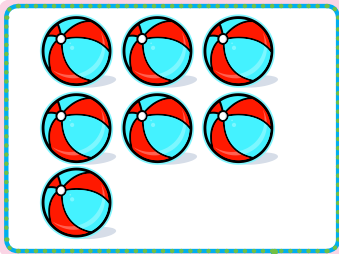

--	--

--	--



مثل نمونه از علامت کمتر - بیشتر (<) یا مساوی (=) استفاده کن.

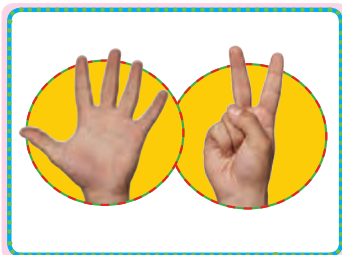
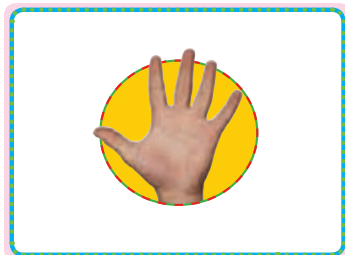
بشمار و بنویس



۵

<

۷


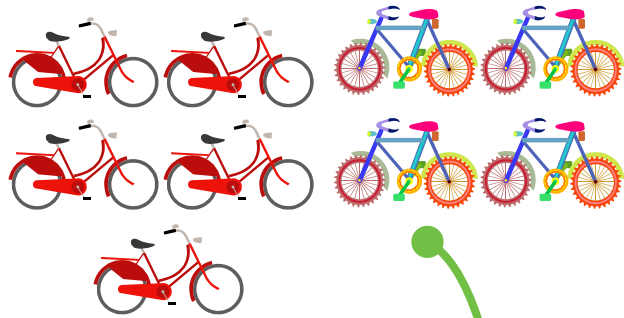

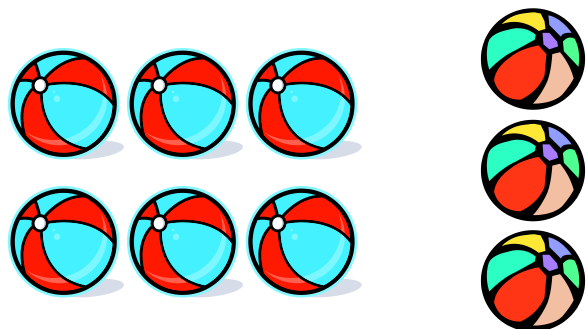



برای کاهش اشتباهات دانش آموزان در این صفحه فقط نماد < کار می شود و استفاده از نماد > فعلاً توصیه نمی شود؛ اما عبارت از دو طرف خوانده می شود؛ یعنی ۷ < ۵ را می توان ۵ کمتر از ۷ و همچنین ۷ بیشتر از ۵ خواند. دانش آموزان در این سن در استفاده از این نماد دچار مشکل می شوند؛ لذا برای تثبیت یادگیری عجله نکنید.

هشتاد



بشمار
و بگو

عدد هر قسمت را بگو.

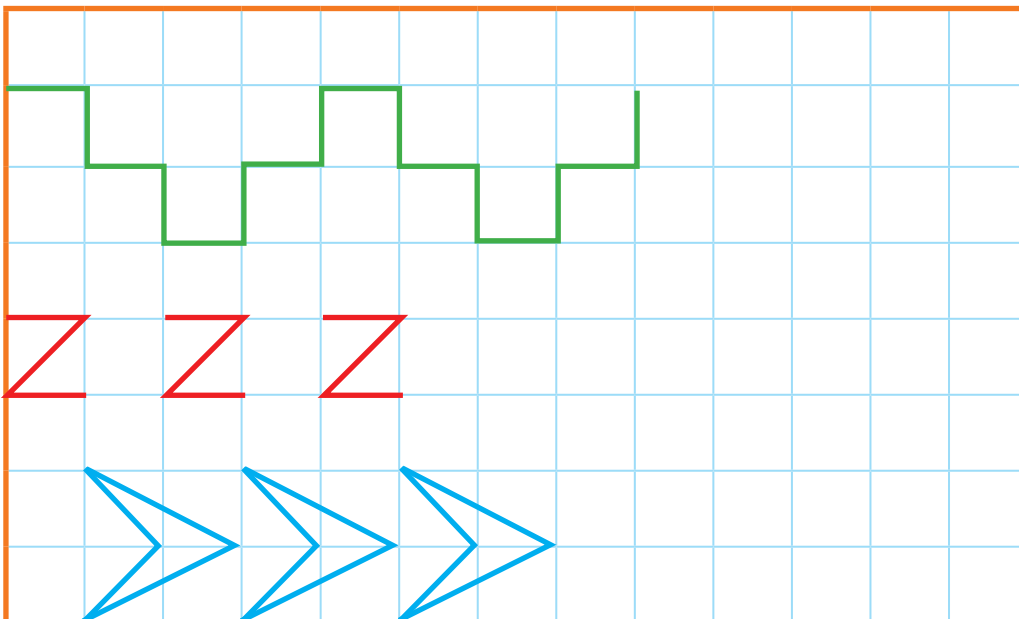






عدد هر دسته را بنویس و از علامت کمتر - بیشتر به طور مناسب استفاده کن.
الگورا به همان ترتیب ادامه بده.

بشمار و
بنویس




۴ > ۳



هدف این صفحه تشخیص قرار دادن نماد < یا > با توجه به عددهای هر دسته است. هر بار عبارت را از دو طرف بخوانید.
فرزند شما باید یاد بگیرد عدد بزرگ تر مقابل دهانه‌ی باز علامت و عدد کوچک تر مقابل قسمت بسته‌ی علامت قرار می‌گیرد.



هشتاد و دو



الگویابی کن

جدول شگفت‌انگیز اعداد را با توجه به ردیف‌ها و ستون‌ها کامل کن. شکل را طوری کامل کن که دو نیمه‌ی آن مثل هم باشد.

۳	۱	۲		۹	۵	۴	۷	۶
۵	۶	۹	۱		۷	۳	۸	۲
۴	۸	۷	۲	۶		۵	۱	۹
۹	۵	۱	۷	۳	۶		۴	۸
۷	۲	۸	۵	۱	۴	۶		۳
۶	۳	۴	۹	۸	۲	۱	۵	
	۴	۵	۶	۷	۹	۸	۳	۱
۱		۶	۳	۵	۸	۹	۲	۴
۸	۹		۴	۲	۱	۷	۶	۵





در جدول شگفت‌انگیز، علاوه بر بررسی ردیف و ستون، ۹ مربع ۹ تایی را نیز کنترل کنید.

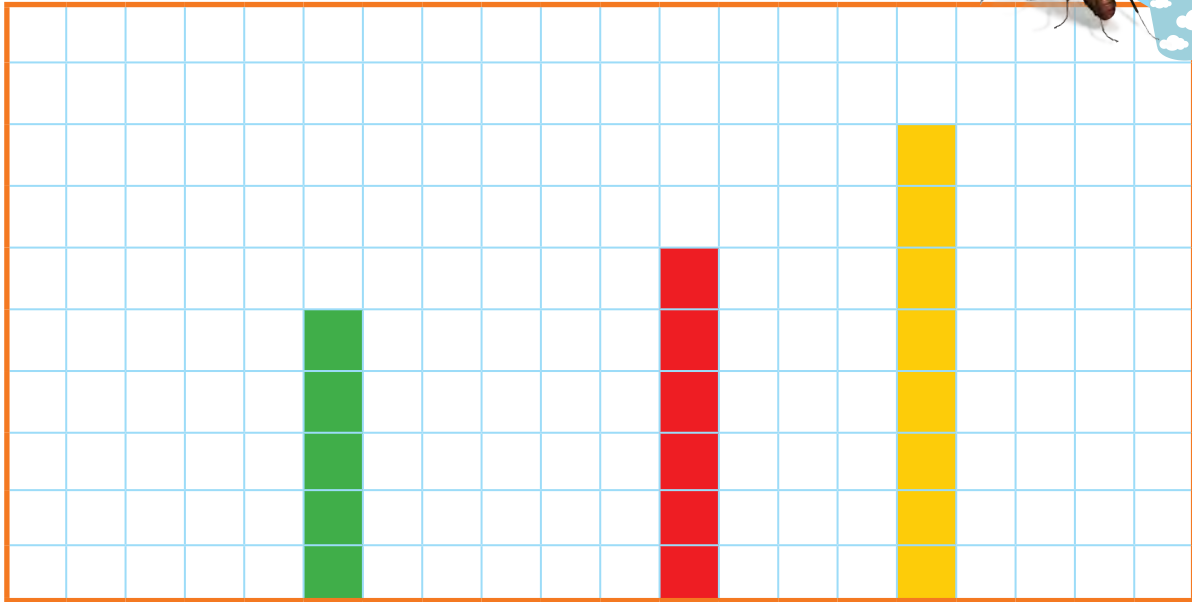
جدول‌هایی که در این کتاب طرح می‌شود با سطح یادگیری فرزندان متناسب است. از حل کردن جدول‌های مشابه در روزنامه‌ها و

مجلات، که سطوح بالتری دارد، پرهیز کنید.

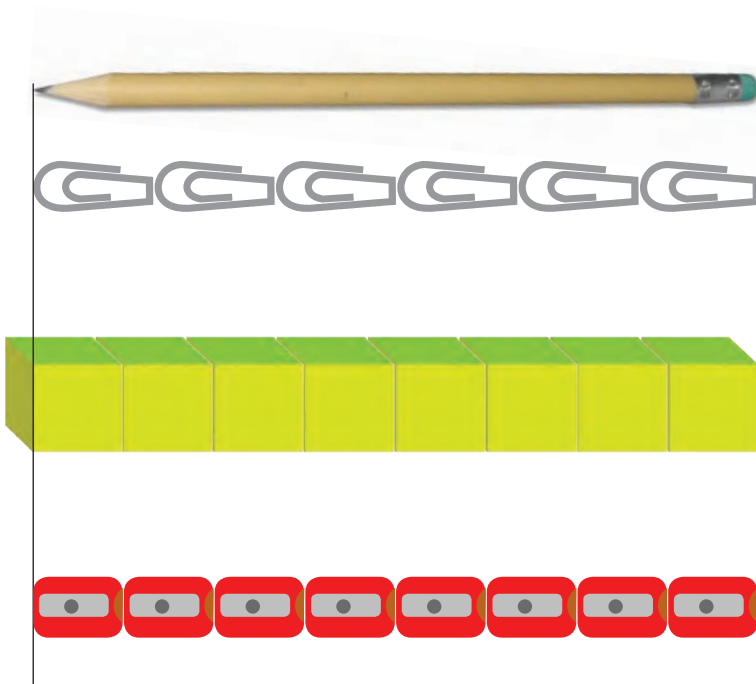


به تعداد عدد نوشته شده مربع رنگ کن. عدد ستون‌های رنگ شده را بنویس.
اندازه‌ی مداد چند تا شکل کوچک است؟ عدد آن را بنویس.

بشمار و رنگ کن



۳ ۹ ۰ ۷ ۲ ۴ ۱




هدف فعالیت، مقایسه‌ی یک طول با واحدهای مختلف است.
توجه فرزند خود را به مقایسه‌ی ارتفاع ستون‌های رنگ شده در عددی مختلف جلب کنید.

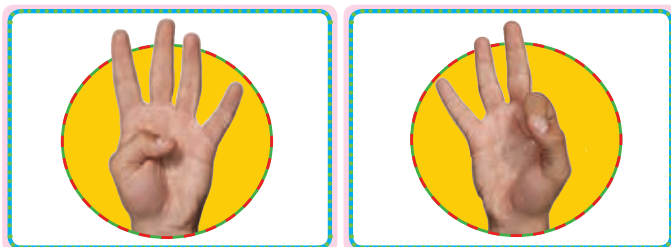


عدد مربوط به انگشتان هر دست را بنویس. انگشتان دست چپ را تا جایی که می شود به دست راست منتقل کن و حاصل را بنویس.

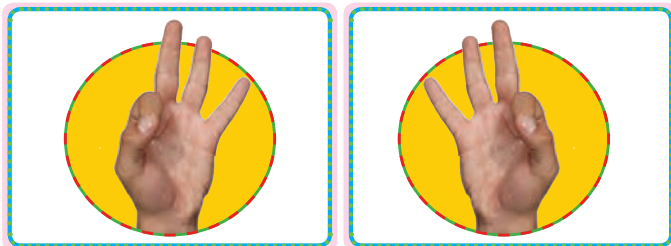
بشمار و بنویس



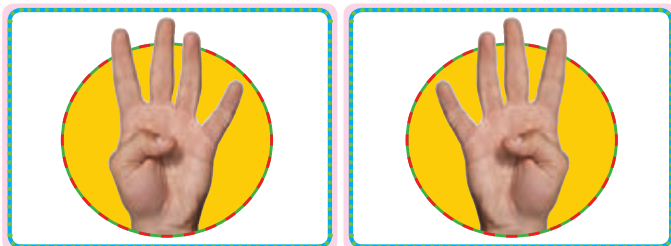
$$\square + \square = \square$$



$$\square + \square = \square$$



$$\square + \square = \square$$



$$\square + \square = \square$$

دانش آموز به ازای بستن هر انگشت از سمت چپ، یک انگشت از سمت راست را باز می کند. هدف این فعالیت معرفی نماد جمع و حاصل جمع است. در صورتی که فرزند شما تشخیص بدهد که می تواند همزمان تعداد بیشتری از انگشتان دست چپ را ببندد و معادل آن را از دست راست باز کند، او را تشویق و تأیید کنید.




هشتاد و شش




باشچار و بنویس

ابتدا به تعداد شکل های هر دسته در سمت راست چوب خط بکش؛ سپس عبارت جمع را کامل کن.
دو عدد را پیدا کن که جمع آنها برابر با عددی باشد که بالای ستون نوشته شده است.



+



=



----- + ----- = -----



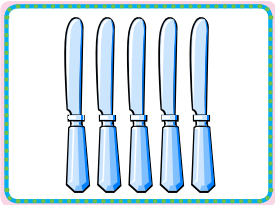
+



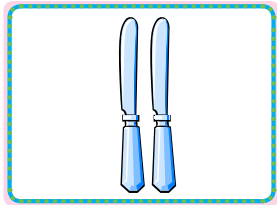
=



----- + ----- = -----



+



=



----- + ----- = -----



۲	۳	۴	۵	۶
۰ ۲				

برای پیدا کردن پاسخ باید چوب خط عدد اول را رسم کنند؛ سپس به تعداد عدد دوم چوب خط کشیده شود به طوری که با کامل شدن دسته ی ۵ تایی دسته ی بعد شروع شود. در قسمت پایین صفحه باید با استفاده از چیزهای ملموس برای مثال، مهره های سبز و آبی جمع های ترکیبی عدد را به دست آورند. برای وارد کردن جواب جمع ها در ستون ها بهتر است از نوشتن نظام دار استفاده شود.

به تعداد عدد سمت چپ، مربع آبی و به تعداد عدد سمت راست، مربع سبز رنگ کن. چند تا مربع رنگ شده است؟ حاصل جمع را بنویس.

بشمار و بنویس



A series of seven rows of ten boxes each, used for a dot-marker activity. The first row has 4 blue boxes and 2 green boxes. A yellow pencil is shown pointing to the first green box. The remaining rows are empty.

$$4 + 2 = \underline{\quad}$$

$$2 + 3 = \underline{\quad}$$

$$3 + 4 = \underline{\quad}$$

$$6 + 3 = \underline{\quad}$$

$$5 + 5 = \underline{\quad}$$

$$4 + 6 = \underline{\quad}$$


$$7 + 3 = \underline{\quad}$$

۱۰ - ۱۰ - ۱۰



هدف این صفحه آموزش نماد عدد ۱۰ بدون معرفی جدول ارزش مکانی است. فرزند شما تا اینجا هنوز با مفهوم یکی و ده تایی آشنا نشده است.

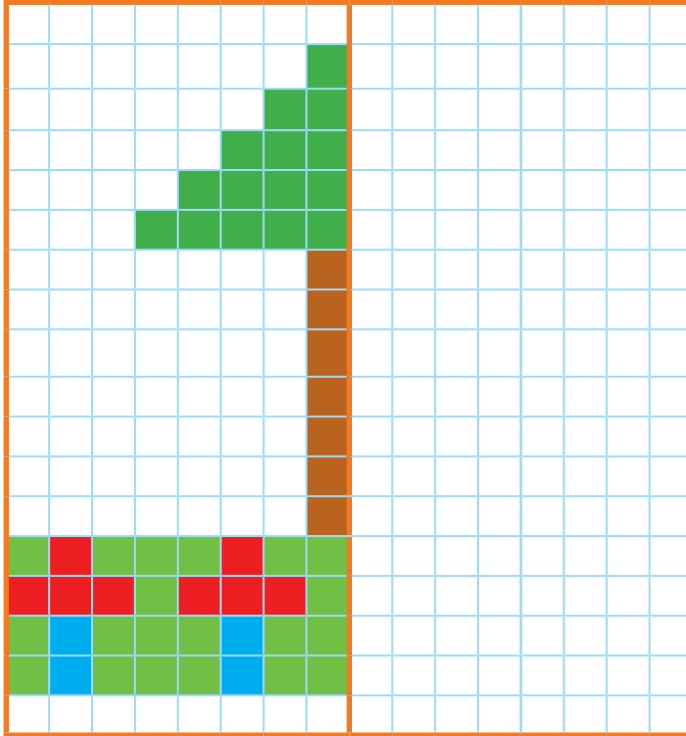


هشتاد و هشت



الگویابی کن

نیمه‌ی سمت راست شکل را مثل نیمه‌ی سمت چپ آن رنگ کن. 
جدول شگفت‌انگیز را کامل کن. 



۴	۱	۵	۲	۶	۷	۹	۸	۳
۲	۹	۶	۵	۸	۳	۷	۴	۱
۷	۳			۹	۴		۵	۶
۱	۲			۴	۶	۵	۳	۷
۵	۸	۳	۷	۲	۹	۱	۶	۴
۶	۷	۴	۳	۱			۹	۲
۸	۵	۷	۴	۳			۲	۹
۳	۶	۱	۹	۵	۲	۴	۷	۸
۹	۴	۲	۶	۷	۸	۳	۱	۵

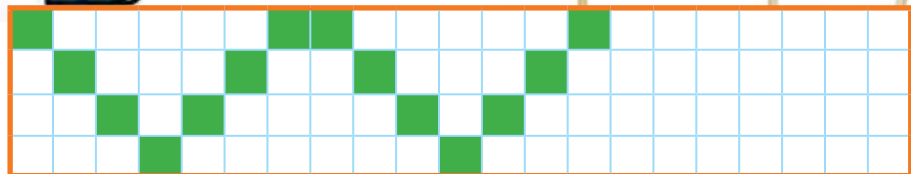


دو عدد پیدا کن که جمع آنها برابر با عددی باشد که بالای آن ستون نوشته شده است.
الگورا به همان ترتیب ادامه بده.

بشمار و
بنویس



۷		۸		۹		۱۰	
۰	۷						
۱	۶						



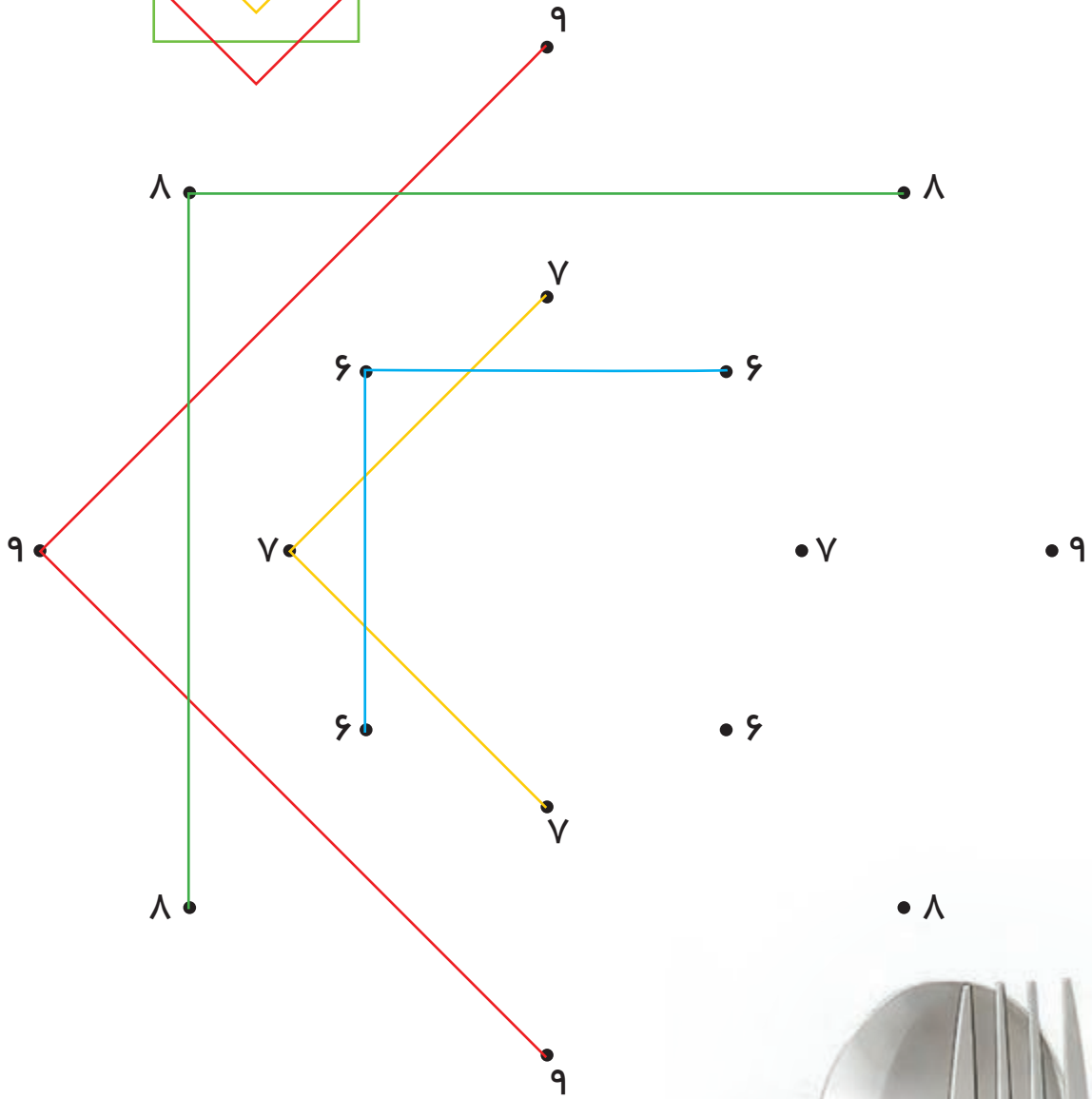
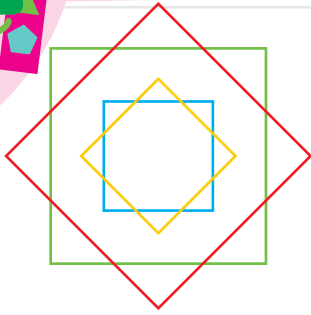
پس از پیدا کردن جمع‌های ترکیبی یک عدد با چیزهای ملموس در کتاب، عددهای پاسخ را به صورت نظام‌دار بنویسید تا دانش‌آموزان با نوشتن پاسخ‌ها به صورت منظم و دارای الگو عادت کنند. دانش‌آموز باید جمع‌های ترکیبی اعداد را از صفحات ابتدایی کتاب آموزش ببیند. فرزند شما با بازی و تمرین‌های مختلف باید به مهارت بیان جمع‌های ترکیبی یک عدد دست یابد.





با ابزار کار کن

عددهای مثل هم را با توجه به شکل زیر با خط کش به شکل سمت چپ به دست آید.




دردیک

هدف این فعالیت، مهارت استفاده از ابزار و توجه به نمونه است. دانش آموزان به تقارن در شکل به دست آمده توجه کنند. طرح‌های مشابه را در اختیار فرزندتان قرار دهید تا در استفاده از خط کش به مهارت دست یابد.



۱۴





بشمار و بنویس

به تعداد انگشتانی که دست سمت راست نشان می‌دهد از انگشتان دست سمت چپ ببند. حالا چه عددی را نشان می‌دهد؟ تفریق مربوط به شکل‌ها را بنویس.



$$۴ - ۱ = ۳$$



$$\square - \square = \square$$



$$\square - \square = \square$$



$$\square - \square = \square$$




دانش‌آموزان از این صفحه با نماد تفریق و نوشتن یک عبارت تفریق آشنا می‌شوند.

فرزند شما مفهوم تفریق را به صورت‌های مختلف تمرین کرده است. در این صفحه فقط نماد آن را تمرین می‌کند.






چند تا بودند؟ چند تا رفتند؟ چند تا ماندند؟ حالا یک عبارت تفریق برای شکل‌ها بنویس.




بشمار و بنویس






$$\square - \square = \square$$



$$\square - \square = \square$$



$$\square - \square = \square$$



$$\square - \square = \square$$



قبل از ورود به این صفحه می‌توانید همین فعالیت را با چیزهای ملموس و یا بیان داستان با دانش‌آموزان کلاس انجام دهید. در موقعیت‌های زندگی روزمره، مفاهیم جمع و تفریق را با فرزند خود تمرین کنید.

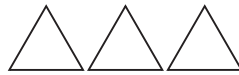


بزرگوار




بشمار و بنویس

مانند نمونه با کشیدن شکل یا رنگ کردن، جمع کن. جدول های شگفت انگیز پایین را کامل کن.



$$۴ + ۳ = \underline{\hspace{2cm}}$$

$$۳ + ۵ = \underline{\hspace{2cm}}$$



$$۵ + ۲ = \underline{\hspace{2cm}}$$

$$۶ + ۳ = \underline{\hspace{2cm}}$$



$$۷ + ۲ = \underline{\hspace{2cm}}$$

$$۵ + ۵ = \underline{\hspace{2cm}}$$

۵	۱	۴	۳	۲	۶
۶			۱	۴	۵
۱	۲				۳
۴	۶		۵	۱	۲
۲	۵		۶	۳	۴
۳	۴	۶	۲	۵	۱

	۲	۳	۶	۴	۱
۶	۴		۳		۲
۴	۳	۵	۲	۱	۶
۱	۶		۴	۳	۵
۲	۵		۱		۳
	۱	۶	۵	۲	۴




هدف این صفحه، تمرین راهبرد رسم شکل برای حل مسئله است.

از فرزند خود بخواهید برای پیدا کردن جواب، از کشیدن شکل یا از چیزهای ملموس یا از انگشتان دست خود استفاده کند.



مانند نمونه تفريق كن.
اندازه‌ی هر شكل چند تا شكل كوچك است؟

گاهل كن



$$6 - 2 = 4$$



$$8 - 5 =$$



$$5 - 3 =$$




$$7 - 4 =$$



$$9 - 6 =$$



$$10 - 5 =$$



اندازه‌ی ني كمي بلندتر از



اندازه‌ی مداد كمي بلندتر از




اندازه‌ی مداد كمي بلندتر از





دانش‌آموز بايد مقايسه‌ی طول را به اين صورت بيان كند؛ براي مثال، اندازه‌ی ني از ۱۰ تا چينه كمي بلندتر است.
بهرتر است فرزند شما خط زدن روی شكل‌ها را از سمت راست و به‌ترتيب شروع كند تا شبیه‌كاری شود كه بعداً روی محور انجام می‌دهد.



بدرستی



بشمار و رنگ کن

مانند نمونه برای هر عدد از یک رنگ استفاده کن و با رنگ کردن، جواب جمع را پیدا کن. 
جاهای خالی را با عدد مناسب پر کن. نمونه‌ی آخر را خودت رنگ کن. 



$$1 + 3 + 2 = \underline{\quad}$$



$$2 + 2 + 2 = \underline{\quad}$$



$$0 + 2 + 4 = \underline{\quad}$$



$$\underline{\quad} + \underline{\quad} + \underline{\quad} = 7$$



$$\underline{\quad} + \underline{\quad} = 7$$

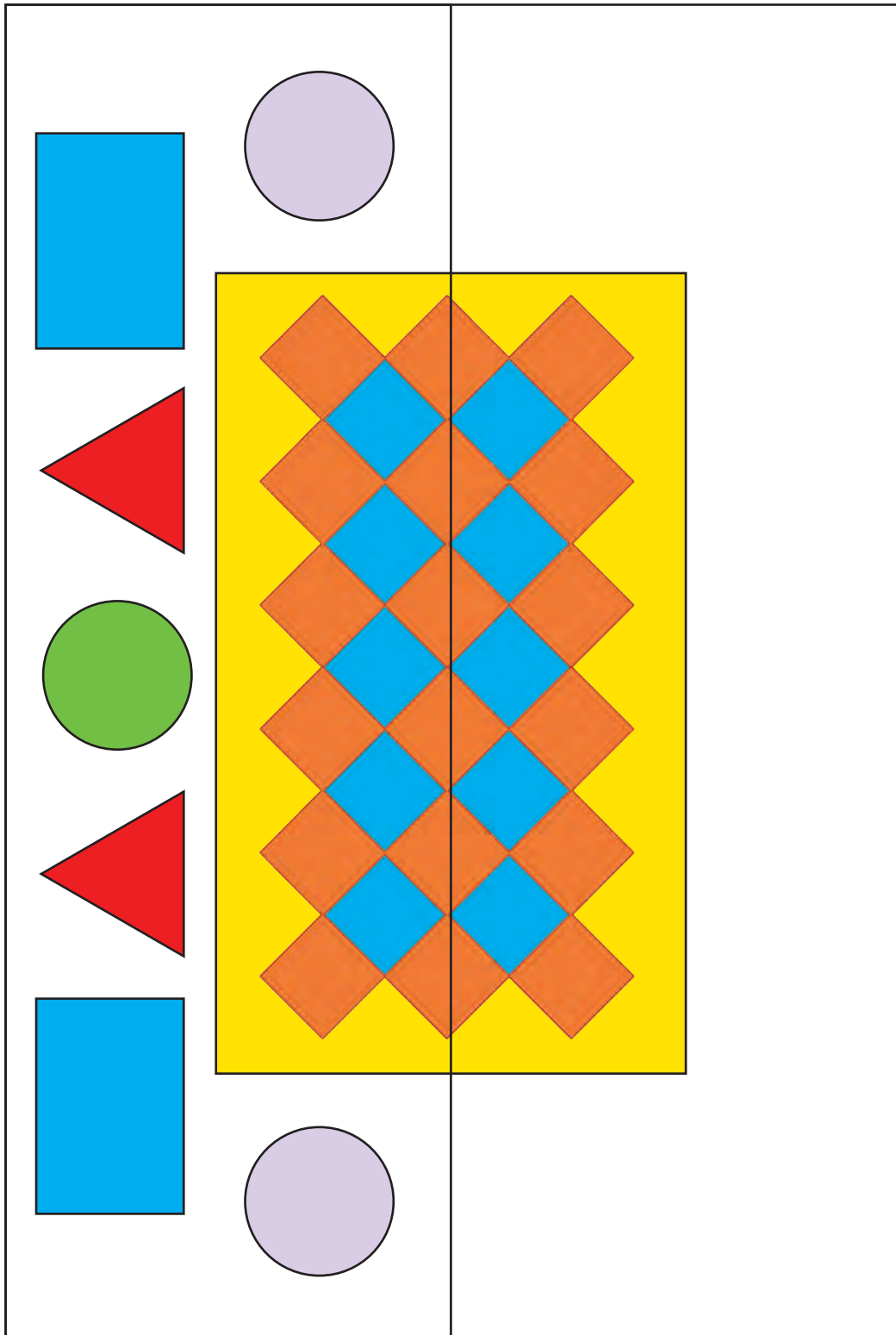


$$\underline{\quad} + \underline{\quad} = 7$$



سمت راست شکل را با شابلون کامل کن. شکل را طوری رنگ کن که دو نیمه‌ی آن مثل هم باشد.

با ابزار
کار کن



انتظار نداریم که تمام دانش‌آموزان بتوانند تمام شکل‌ها را با شابلون و به صورت قرینه و دقیق رسم کنند. انتظار خود را با توان آنها متناسب کنید. توجه فرزند خود را به تقارن‌های محیط زندگی مثل فرش، گلیم یا پارچه جلب کنید.

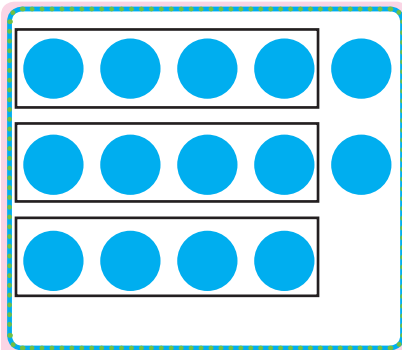


نود و هشت




مانند نمونه در هر قسمت با توجه به عدد کنار آن، شکل‌ها را با کشیدن خط، دسته‌بندی کن.
عدد کنار هر قسمت، تعداد شکل‌های هر دسته را نشان می‌دهد.

بشمار و
بنویس




دسته‌ی چهارتایی و
دسته‌ی یکی

۴




دسته‌ی شش‌تایی و
دسته‌ی یکی

۶




دسته‌ی سه‌تایی و
دسته‌ی یکی

۳




دسته‌ی پنج‌تایی و
دسته‌ی یکی

۵




دسته‌ی هفت‌تایی و
دسته‌ی یکی

۷



دسته‌ی ده‌تایی و
دسته‌ی یکی

۱۰



دانش‌آموز در این صفحه با مفهوم دسته‌بندی‌های مختلف آشنا می‌شود تا برای مفهوم ارزش مکانی آماده شود.
چیزهای کمتر از ۲۰ تا را در اختیار فرزندتان قرار دهید و از او بخواهید دسته‌بندی‌های مختلفی درست کند.




ص

۱۰۰




بشمار و بنویس


در هر قسمت، دسته‌های ده تایی درست کن و در جای خالی، عدد مناسب بنویس.




دسته‌ی ده تایی و
یکی




دسته‌ی ده تایی و
یکی



دسته‌ی ده تایی و
یکی



دسته‌ی ده تایی و
یکی



دسته‌ی ده تایی و
یکی



دسته‌ی ده تایی و
یکی



جاهای خالی را با عدد مناسب پر کن.

بشمار و بنویس



ده تایی	یکی

ده تایی	یکی

ده تایی	یکی

ده تایی	یکی

ده تایی	یکی

ده تایی	یکی

۱۰

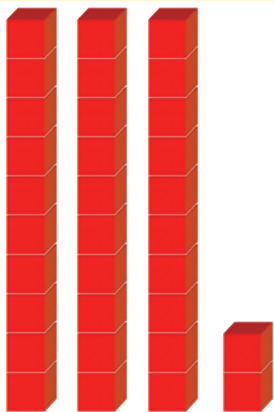

جدول یکی و ده تایی را با نوشته‌های صفحه‌ی قبل تطبیق دهید تا این نماد برای دانش‌آموزان ساده شود. در قسمت پایین صفحه نماد ۱۰، که بیرون جدول است برای آموزش خارج کردن عدد از جدول است. فرزند شما دوباره با نماد ۱۰ آشنا می‌شود؛ اما در این قسمت عدد ۱۰ را به عنوان یک دسته‌ی ده تایی و صفر یکی می‌شناسد.

صد و دو


کامل کن

جدول‌ها را کامل کن.


جدول‌های شگفت‌انگیز را کامل کن.



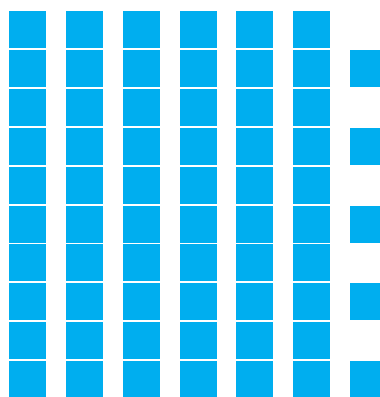
ده تایی | یکی



ده تایی | یکی



ده تایی | یکی



ده تایی | یکی

۱	۵	۲	۴	۶	
۶	۴			۲	۵
۵	۲			۴	۶
	۶	۴	۲	۵	
۴	۱	۵	۶	۳	۲
۲	۳	۶		۱	۴

۱	۴	۶	۵	۲	۳
۲	۵			۴	۱
۶	۱			۳	۵
۵	۳			۶	۲
۳	۶			۵	۴
۴	۲	۵	۳	۱	۶



دانش‌آموزان در جدول شگفت‌انگیز باید راهبرد حدس و آزمایش (آزمون و خطا) را به کار ببرند.


فرزند شما از این صفحه وارد مرحله‌ای می‌شود که برای کامل کردن جدول‌ها باید از مداد و پاک‌کن استفاده کند. ممکن















است حدس اول آنها اشتباه باشد.



سمت راست شکل را کامل کن و شکل وسط را مانند نمونه رنگ کن.
اندازه‌ی بلندی درخت چند تا آدم است؟

الگویابی
کن





برای مقایسه‌ی طول و تخمین مقدار آن نیاز است که با وسایل و چیزهای مختلف، تمرین بیشتری به صورت افقی و عمودی انجام شود.
نمونه‌ی بالا تصویری است که یک الگوی تکرار شونده و یک الگوی کناره دارد. توجه فرزند خود را به این الگوهای واقعی جلب کنید.



صد و بیست و چهار



با ابزار کار کن

عددهای مثل هم را با خط کش و با یک رنگ به هم وصل کن.

•	۷	•	•	۷	•	•	•	•
•	•	۹	•	•	•	•	۹	•
۷	•	•	۷	•	•	•	•	•
•	•	۹	•	•	•	•	۹	•
•	•	•	•	۱۰	•	•	•	•
•	•	۸	•	•	•	۸	•	•
•	•	•	•	•	•	•	•	•
•	•	•	•	•	•	•	•	•
۱۰	•	•	•	•	•	•	•	۱۰
•	•	۸	•	•	•	۸	•	•
•	•	•	•	•	•	•	•	•








بشمار و بنویس

تعداد شکل‌های هر دسته را با چوب خط بشمار. با شکل‌ها دسته‌های ده‌تایی درست کن. جدول را کامل کن و عدد مربوط به هر دسته را بنویس.




///
///
//

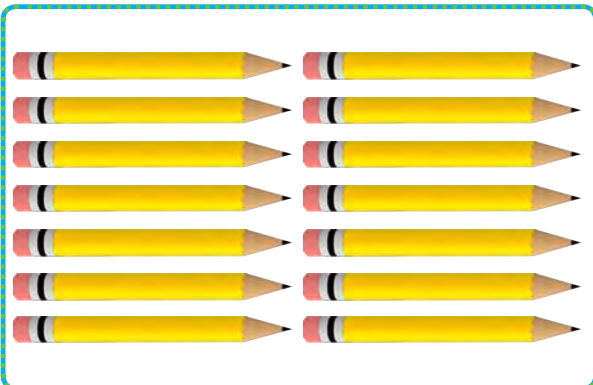
ده‌تایی	یکی	
۱	۲	۱۲



ده‌تایی	یکی	



ده‌تایی	یکی	





ده‌تایی	یکی	

با چوب خط شمردن، کمک می‌کند دانش‌آموزان بتوانند عدد دو رقمی خارج از جدول ارزش مکانی را راحت بنویسند. دانش‌آموزان می‌توانند نام عددهای ۱۱ تا ۱۹ را به حروف فقط بیان کنند. از فرزند خود بخواهید فقط چیزهای با تعداد کمتر از ۲۰ را بشمارد و بنویسد.







هر دسته چند شکل دارد؟ با چوب خط بشمار و عدد هر دسته را بنویس.

بشمار و بنویس



۱۵




۱۱ _ ۱۲ _ ۱۳



با چوب خط شمردن یعنی به ازای هر شکل یک خط گذاشته و دسته‌های ۵ تایی درست می‌شود. در انتها نماد چوب خطی به عددی تبدیل می‌شود. در ادامه‌ی هدف صفحه‌ی قبل، محور اعداد معرفی می‌شود. محور با صفر شروع و واحدها یکی یکی اضافه می‌شود. از نمایش محورهایی به شکل‌های دیگر خودداری فرمایید.

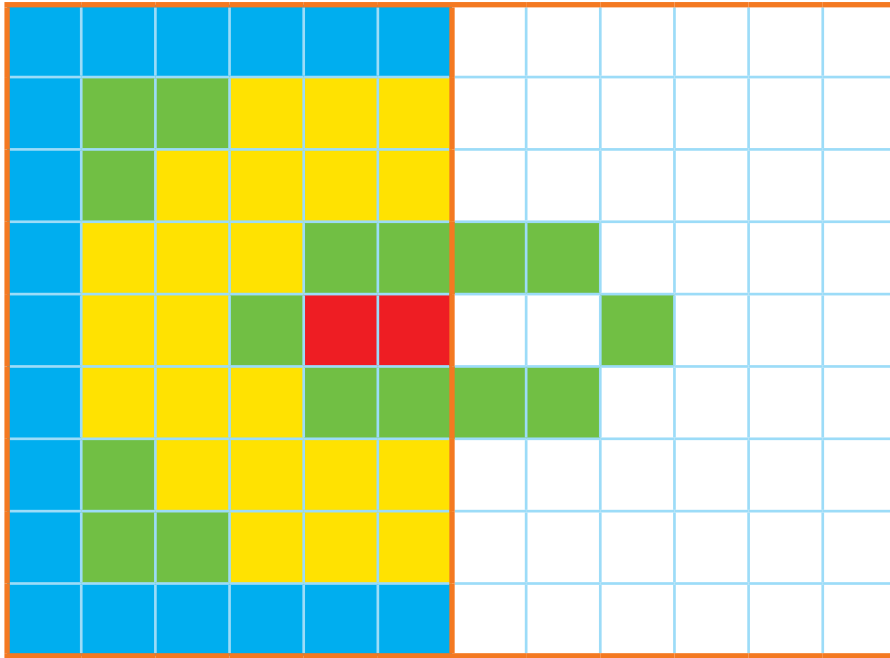
صد و هشتاد و هشت

۱۰۸



الگویابی کن

نیمه‌ی سمت راست شکل را مثل سمت چپ رنگ کن. 
جدول شگفت‌انگیز را کامل کن. 



	۱	۵	۲	۶	۷	۹	۸	۳
۲		۶	۵	۸	۳	۷	۴	۱
۷	۳		۱	۹	۴	۲	۵	۶
۱	۲	۹		۴	۶	۵	۳	۷
۵	۸	۳	۷		۹	۱	۶	۴
۶	۷	۴	۳	۱		۸	۹	۲
۸	۵		۴	۳	۱		۲	۹
۳		۱	۹	۵	۲	۴		۸
	۴	۲	۶	۷	۸	۳	۱	





به کمک انگشتان، جواب جمع را پیدا کن. حالا بگو دو دسته روی هم چند شکل دارد؟ برای آن یک جمع بنویس.



بشمار و بنویس





$$\square + \square = \square$$



$$\square + \square = \square$$



$$\square + \square = \square$$



$$\square + \square = \square$$

دانش‌آموزان برای نمایش ۷، ۵ تا را به ذهن می‌سپارند (می‌توانید به آنها بگویید عدد ۵ روی شانه‌ی شماست) و ۲ را با انگشتان دست نشان می‌دهند.

برای جمع ۶ و ۷ در واقع عددهای ۲ و ۵ جمع می‌شود.

از فرزند خود فقط جمع‌های با حاصل کمتر از ۱۵ را سؤال کنید. این صفحه به تمرین فراوان نیاز دارد تا دانش‌آموز به این روش جمع کردن مسلط شود.


صد و ده

عددها را با خط کش به شکل مناسب وصل کن.

با ابزار
کار کن



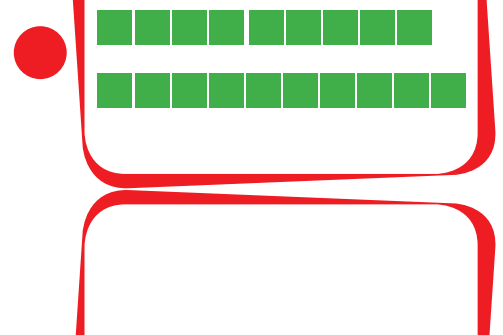
۱۰



۱۱



۱۲



۱۳



۱۴



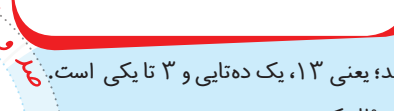
۱۵




۱۶



۱۷



۱۸



۱۹





دانش آموزان باید عددهای ۱۰ تا ۱۹ را به صورت عدد ۱۰ تایی و یکی ببینند و تمرین ذهنی کنند؛ یعنی ۱۳، یک ده تایی و ۳ تا یکی است. با فرزند خود تمرین های ذهنی انجام دهید و جمع هایی مثل ۱ و ۱۰، ۲ و ۱۰، ... تا ۹ و ۱۰ را سؤال کنید.



یک و نازده

با نگاه کردن به یک ساعت، عددهای روی ساعت زیر را بنویس.
جاهای خالی را کامل کن.

با ابزار
کار کن



اندازه‌ی چاقو از کوتاه‌تر است.



اندازه‌ی چنگال از کوتاه‌تر است.

هدف این صفحه، فقط مشاهده‌ی عددهای روی صفحه‌ی ساعت است. آموزش ساعت موردنظر نیست. به شباهت صفحه‌ی ساعت و محور

عددهای ۱ تا ۱۲ توجه کنید.

توجه فرزند خود را به نمایش‌های مختلف صفحه‌ی ساعت و نوع عددها و ارقام به کار رفته و انواع ساعت‌های عقربه‌ای جلب کنید.

صد و دوازده

۱۱۲



با چوب خط، حاصل جمع را پیدا کن و یک جمع بنویس.

بشمار و بنویس



۴

+



۳

+



۲

=




۹



----- + ----- + ----- = -----



----- + ----- + ----- = -----




----- + ----- + ----- = -----



هدف، جمع زدن دوتایی عددها نیست؛ بلکه با کامل کردن چوب خطهای ۵ تایی و شمردن نهایی چوب خطها، حاصل جمع پیدا می شود. فرزند شما برای شمارش نهایی چوب خطها باید دو دسته ی ۵ تایی را ۱۰ ببیند و چوب خطهای باقیمانده را با ۱۰ جمع کند.



صد و چهارده



بشمار و رنگ کن

با توجه به شکل، جمع مناسب را بنویس و حاصل را پیدا کن. 
با توجه به جمع نوشته شده، مربع‌ها را با رنگ‌های مختلف رنگ کن و حاصل را بنویس. 



$$۳ + ۴ + ۷ = ۱۴$$



$$+ + =$$



$$+ + =$$



$$+ + =$$



$$۱ + ۲ + ۴ + ۵ =$$



$$۵ + ۲ + ۵ =$$



پاسخ هر قسمت را بنویس و مقایسه کن و علامت مناسب کمتر - بیشتر را انتخاب کن.

کامل کن



$10 - 3 = 7$



$2 + 4 + 5 = 11$

$+ =$



$- =$

$+ + =$



$+ =$

$- =$



$+ =$



دانش آموزان برای پیدا کردن حاصل جمع یا تفریق از هر روشی که تا این صفحه یاد گرفته‌اند، می‌توانند استفاده کنند. در حال حاضر، جمع و تفریق ترکیبی در یک عبارت موردنظر نیست. فقط جمع و تفریق را از فرزند خود سؤال کنید.



صد و شانزده

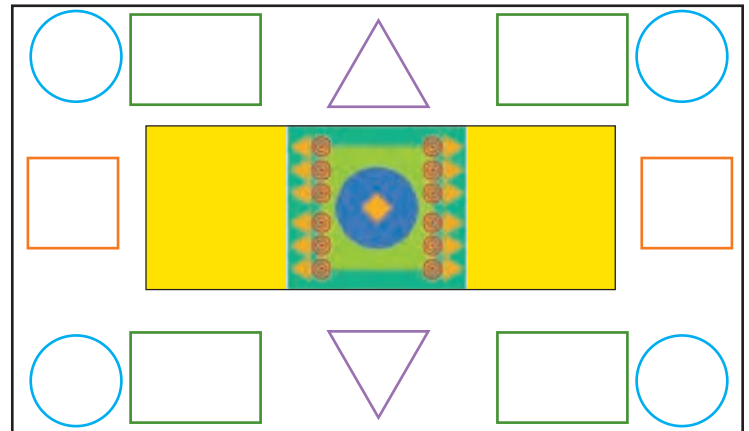


با ابزار کار کن

با شابلون شکل کوچک را بزرگ کن. 
جدول شگفت انگیز پایین را پر کن. 



۹	۳	۸	۶	۵	۱	۷	۲	۴
۴		۵	۷		۲	۳		۱
۲	۱	۷	۴	۳	۹	۸	۶	۵
۶	۹	۴		۷		۱	۵	۲
۷		۳	۱		۴	۹		۶
۸	۲	۱		۹		۴	۳	۷
۳	۴	۶	۸	۱	۵	۲	۷	۹
۱		۲	۹		۳	۵		۸
۵	۸	۹	۲	۴	۷	۶	۱	۳



اندازه‌گیری
کن




جمله‌ها را با نوشتن عدد مناسب کامل کن.
ترتیب فصل‌ها را با عددهای ۱ تا ۴ مشخص کن.



اندازه‌ی چنگال بین تا است.



اندازه‌ی قاشق بین تا است.



اندازه‌ی ساعت بین تا است.



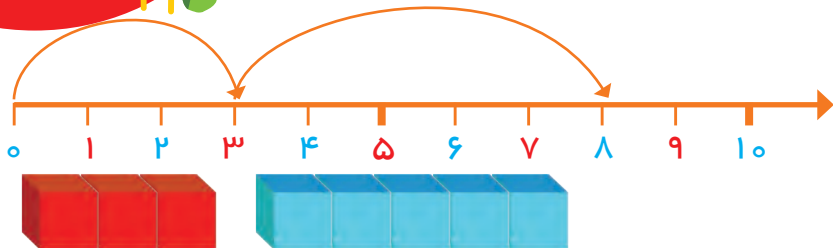
هدف این صفحه آشنایی دانش‌آموزان با مفهوم تقریب‌زدن در اندازه‌گیری طول با یک واحد مشخص است.
فرزند شما عددهای ترتیبی را با مفهوم زمان در فصل‌های مختلف سال فرا می‌گیرد.



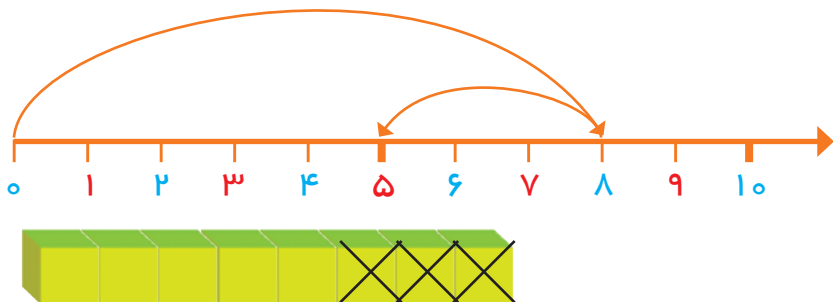
صد و هجده

بشمار و بنویس

با کمک محور، جمع یا تفریق کن.



$$3 + 5 = 8$$



$$8 - 3 = \underline{\quad}$$



$$6 - 4 = \underline{\quad}$$



$$3 + 2 + 4 = \underline{\quad}$$



$$7 - 5 = \underline{\quad}$$

کار و نوزده

برای انتزاعی شدن جمع و تفریق، دو عدد محور اعداد، واسطه‌ی خوبی برای حذف چیزهای ملموس مثل انگشتان دست، چینه و ... در حال حاضر بهتر است محور عددها را برای فرزند خود رسم کنید. ممکن است رسم محور با فاصله‌ی مساوی بین عددها زود



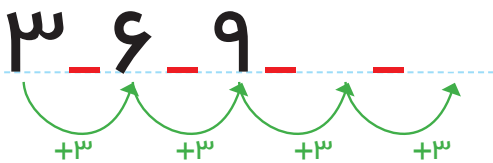
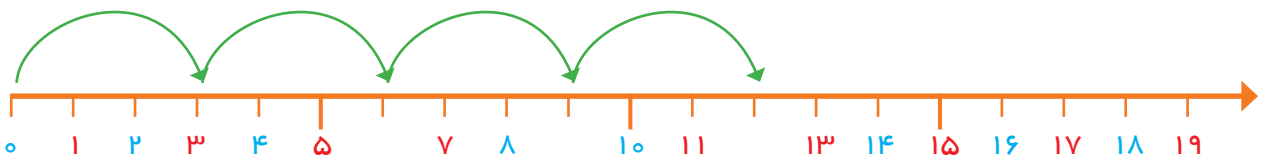

باشد.







بشمار و بنویس


عدد هر شکل را بنویس. جاهای خالی را با عدد مناسب پر کن.  جاهای خالی را کامل کن. 



بلندی نمکدان بین تا است.  است.
بلندی لیوان بین تا است.  است.

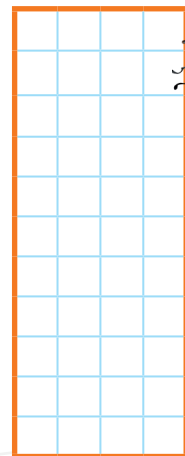
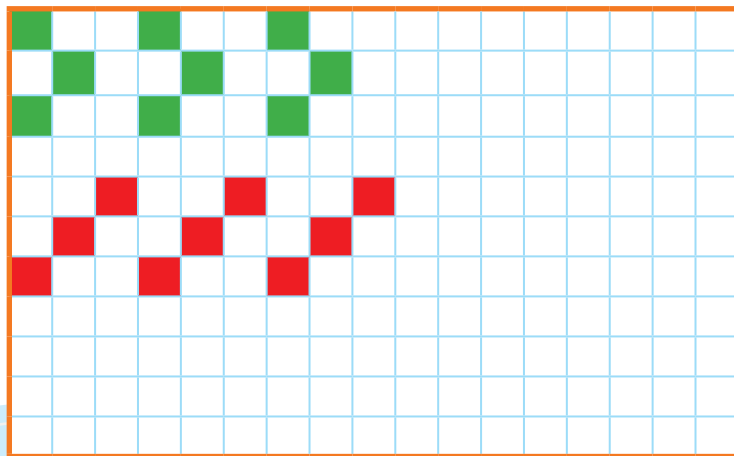
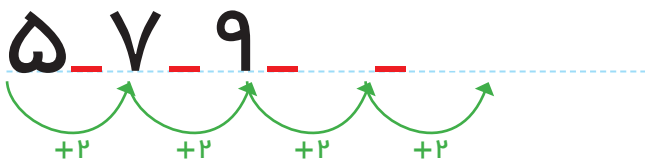
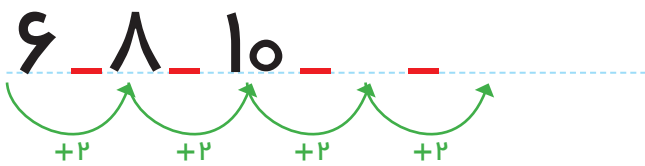
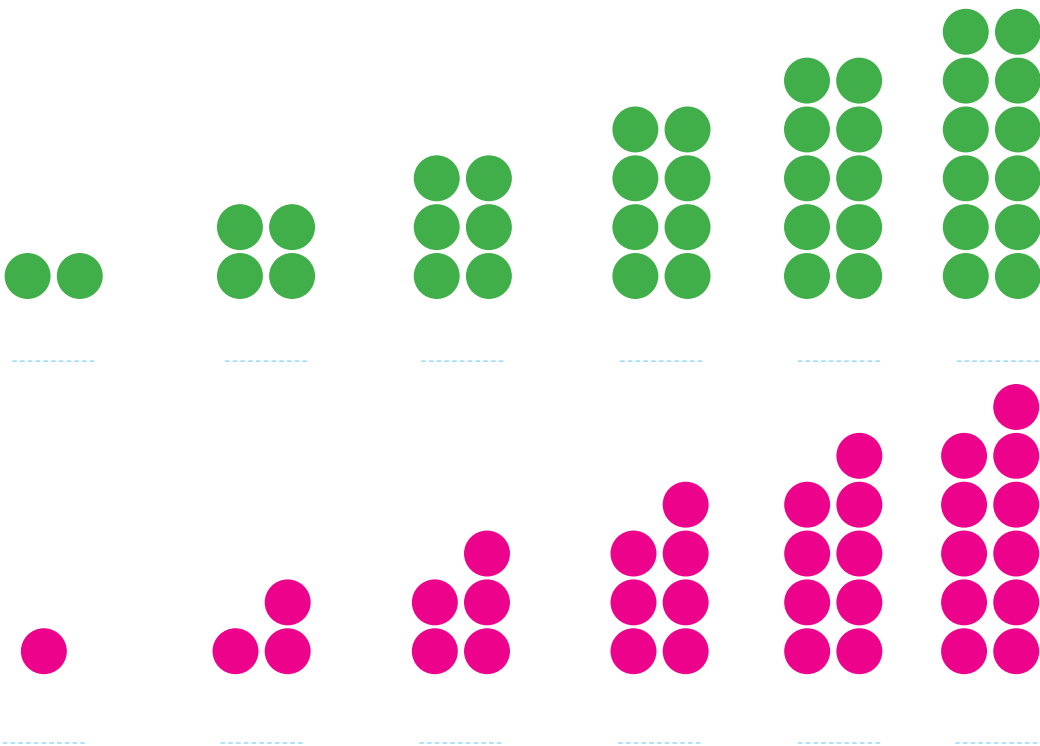


هدف این صفحه تمرین شمردن سه تا سه تا به شیوه‌های مختلف شکل، محور و الگوهای عددی است. 

هدف این فعالیت، بیان اندازه اجسام به کمک کلمه «بین» است. این کار را می‌توانید با نمونه‌های واقعی بیشتر توسط فرزندانتان انجام دهید. 

در جاهای خالی عدد مناسب بنویس.
 الگوها را ادامه بده. یک شکل ۳ تایی در نظر بگیر و یک الگو بساز.

بشمار و بنویس



هدف این صفحه شمردن ۲ تا ۲ تا و ایجاد آمادگی برای عددهای فرد و زوج است و در حال حاضر نامهای فرد و زوج برای عددهای بالا مورد نظر نیست.
 فرزند شما برای طراحی الگو باید ابتدا شکلی را که قرار است تکرار شود در ستون سمت راست رسم کند و سپس الگوی خود را بکشد.



بشمار و بنویس

حاصل جمع‌ها را با چوب خط پیدا کن و عبارت جمع را بنویس.

//		=	
----	--	---	--

۲	+	۱۲	=	۱۴
---	---	----	---	----

	+		=	
--	---	--	---	--

	+		=	
--	---	--	---	--

	+		=	
--	---	--	---	--

	+		=	
--	---	--	---	--

	+		=	
--	---	--	---	--

	+		=	
--	---	--	---	--


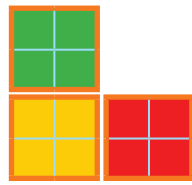
دانش‌آموزان می‌توانند از روش جایگزینی برای چوب خط یا انگشتان دست استفاده کنند. حاصل جمع‌ها در تمرین‌های مشابه باید از ۲۰ کمتر شود.



بشمار و بنویس



جاهای خالی را با عدد مناسب پر کن. الگوها را به همان ترتیب ادامه بده و شکلی که در هر الگو تکرار می شود را بکش.



.....

.....

.....

.....

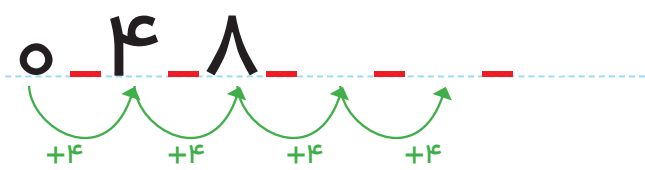


.....


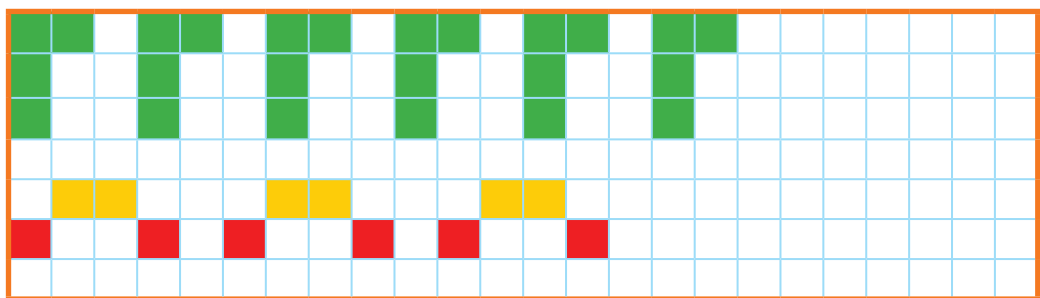
.....

.....

.....



۱	۲	۳		۵	۶	۷		۹	۱۰
۱۱		۱۳	۱۴	۱۵		۱۷	۱۸	۱۹	



دانش آموزان برای شمردن بدون شکل می توانند از انگشتان دست با روش آموزش داده شده استفاده کنند. عدد ۲۰ نیز در این قسمت معرفی می شود. بهتر است فرزند شما برای پیدا کردن عدد بعد از ۸ از شمردن یکی یکی استفاده نکند و برای مثال، حاصل $۸+۴$ را با کمک چوب خط یا با انگشتان دست پیدا کند.





با ابزار کار کن

الگوهای دو طرف فرش را ادامه بده. با شابلون دو طرف فرش، شکل های یکسان بکش. جدول شگفت انگیز پایین را پر کن.




Activity area for drawing and coloring. It features a border with a repeating pattern of red, yellow, and blue squares. Inside the border, there are several shapes: a square, a circle, a triangle with an 'X' inside, another circle, and another square. Below these shapes is a large rectangular area with a colorful, repeating geometric pattern. At the bottom of the activity area, there are two rows of empty boxes for writing or drawing.

۶	۲	۹	۸	۳	۷	۱	۴	۵
۷	۸	۱	۴	۹	۵	۳	۲	۶
۴	۳		۲				۹	۷
۵	۷		۶	۴	۲	۹	۸	۱
۹	۴		۳	۱	۸	۷	۵	۲
۸	۱		۷	۵	۹	۶	۳	۴
۲	۹		۱				۶	۳
۱	۶	۸	۵	۲	۳	۴	۷	۹
۳	۵	۴	۹	۷	۶	۲	۱	۸

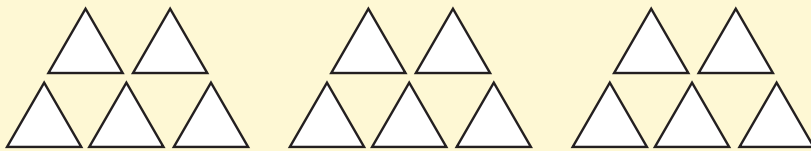


با استفاده از ۲ رنگ مختلف، جواب جمع را پیدا کن.

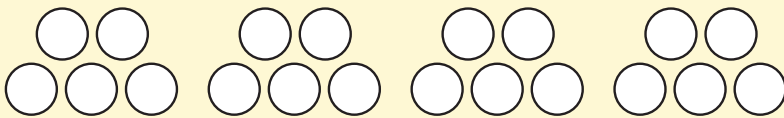
مسئله
حل کن



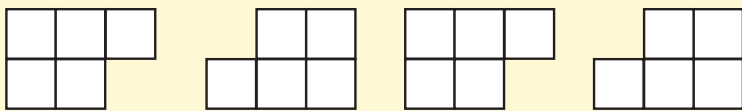
$$6 + 7 = \underline{\quad}$$



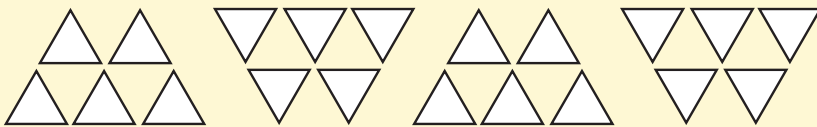
$$8 + 5 = \underline{\quad}$$



$$7 + 9 = \underline{\quad}$$




$$9 + 6 = \underline{\quad}$$



$$9 + 8 = \underline{\quad}$$

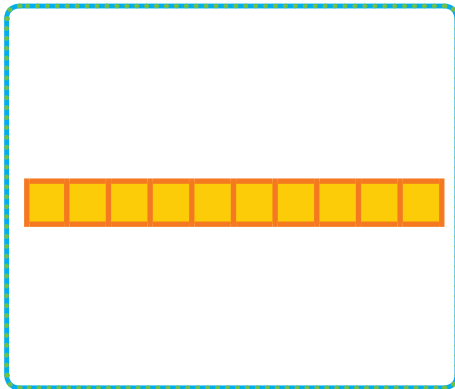
هدف این فعالیت، کسب آمادگی حل مسئله به کمک رسم شکل و یا استفاده از مدل و چیزهای دیگر است. می‌توانید از فرزند خود جمع‌های با حاصل کمتر از ۲۰ را بپرسید و او با استفاده از رسم شکل یا با استفاده از مهره‌ها پاسخ را پیدا کند.





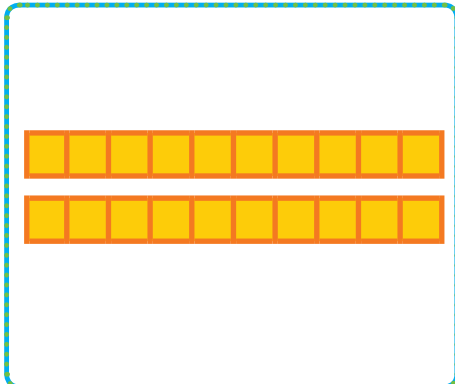
جدول را کامل کن و عددی کنار آن بنویس که هر شکل نشان می دهد.
الگورا به همان ترتیب ادامه بده.

بشمار و
بنویس



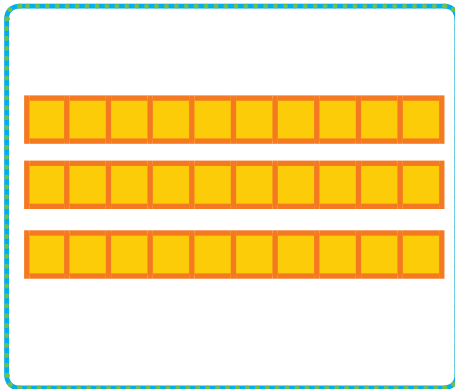
ده تایی	یکی

Blank space for writing the number.



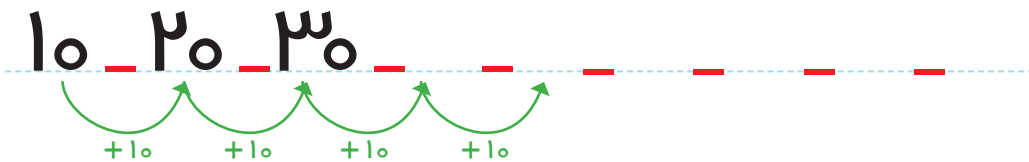

ده تایی	یکی

Blank space for writing the number.



ده تایی	یکی

Blank space for writing the number.



از این صفحه خواندن و نوشتن عددهای مضرب های ۱۰ (شمارش ۱۰ تا ۱۰ تا به طور مستقیم) شروع می شود.
فرزند شما باید عددهای بین ۱۰ تا ۹۰ را ۱۰ تا ۱۰ تا به طور مستقیم بشمارد و از این عددها درک درستی داشته باشد. از شمارش طوطی وار بپرهیزید.



صد و بیست و هشت

۱۲۸



بشکار و بنویس

جواب جمع‌ها و تفریق‌ها را بنویس. در هر ردیف کارها را به ترتیبی که باید انجام شود، شماره‌گذاری کن.



$40 + 30 =$


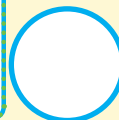



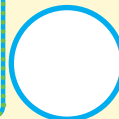

	+		=	
--	---	--	---	--

$50 - 10 =$

$20 + 40 =$

	+		=	
--	---	--	---	--


$60 - 50 =$



دانش‌آموزان برای پیدا کردن حاصل جمع مثل $20 + 30$ باید ۳ دسته‌ی ۱۰ تایی را با ۲ دسته‌ی ۱۰ تایی جمع کنند و حاصل را بنویسند که ۵ دسته‌ی ۱۰ تایی می‌شود. در فعالیت دوم، دانش‌آموز باید از عبارت اولین، دومین و سومین استفاده کند. فرزند شما می‌تواند برای پیدا کردن جواب جمع مثل $20 + 30$ به عدد ۳۰، دو دسته‌ی ۱۰ تایی اضافه کند.

برای هر مسئله، یک شکل ساده بکش و جواب را پیدا کن و روی محور نشان بده.


مسئله حل کن



۴ اردک در آب بودند.
۲ اردک دیگر هم داخل آب رفتند.
چند اردک در آب است؟



۷ ماهی کوچک در تنگ بودند. ۲ ماهی دیگر هم در تنگ انداختیم. حالا چند ماهی در تنگ است؟



۶ پرنده روی شاخه‌ی درخت نشسته بودند.
۴ پرنده‌ی دیگر کنار آنها نشستند. چند پرنده روی درخت است؟



۵ دانش‌آموز بازی می‌کردند. ۴ دانش‌آموز دیگر برای بازی آمدند. چند دانش‌آموز بازی می‌کنند؟



به تنوع نمایش‌ها مثل استفاده از انگشتان دست، کشیدن شکل، محور، چینه و سایر مواردی توجه شود که تاکنون آموزش دیده‌اند. فرزند شما باید سعی کند متن را خودش بخواند. درک و فهم صورت مسئله، بخش مهمی از فرایند حل مسئله است.



صد و سی



بشمار و بنویس

جمع یا تفریق کن و علامت مناسب < یا > یا = را انتخاب کن.

$\dots + \dots = \dots$

<
=
>

$\dots - \dots = \dots$

$\dots + \dots = \dots$

<
=
>

$\dots + \dots = \dots$

$\dots + \dots = \dots$

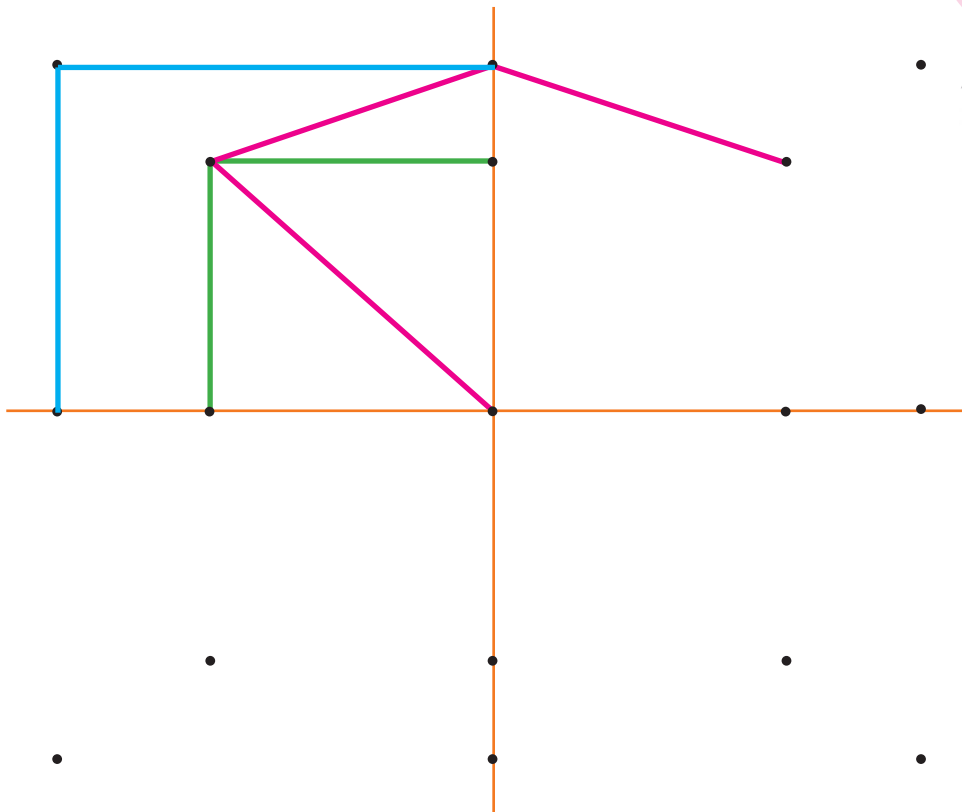
<
=
>

$\dots - \dots = \dots$



ابتدا نقطه‌های نیمه‌ی سمت راست را مانند سمت چپ به هم وصل کن. حالا نقطه‌های نیمه‌ی پایین را مانند نیمه‌ی بالا به هم وصل کن تا ۴ قسمت شکل مثل هم شود. جدول شگفت انگیز پایین را پر کن.

با ابزار کار کن



۳	۱	۶	۷	۴	۲	۹	۸	۵
۸	۴	۵	۳	۶	۹	۲	۷	۱
۹	۷			۱	۸	۶	۴	۳
۷	۳			۹	۵	۱	۲	۸
۶	۸	۹	۴	۲	۱	۳	۵	۷
۲	۵			۷			۹	۶
۵	۶			۳			۱	۲
۱	۹	۳	۲	۸	۷	۵	۶	۴
۴	۲	۷	۱	۵	۶	۸	۳	۹



دانش‌آموزان در این فعالیت باید به دو تقارن عمودی و افقی توجه کنند. در رنگ‌آمیزی شکل‌ها نیز به این تقارن‌ها توجه شود. فرزند شما می‌تواند با شابلون شکل را کامل‌تر کند و خلاقیت خود را بروز دهد.



صدوسی و دو


۱۳۲

مسئله حل کن


هر مسئله را هم با شکل و هم با محور نشان بده و جواب را پیدا کن.



۸ پرنده روی درخت بودند. ۳ تا از پرنده‌ها پرواز کردند و رفتند. چند تا پرنده روی درخت مانده است؟



علی ۹ بادکنک داشت. ۵ تا از بادکنک‌ها به هوا رفت. چند تا بادکنک مانده است؟



۷ تا شمع روشن بود. زهرا ۴ تا از شمع‌ها را خاموش کرد. چند تا شمع روشن مانده است؟



۱۰ تا جوجه داریم. ۳ تا از جوجه‌ها سیاه هستند. چند تا جوجه سیاه نیستند؟



هنگام حل مسائل در کلاس، روش‌های رسم شکل و محور روی تخته کار شود. راه‌های دیگر نیز شنیده شود.

از خواندن متن کتاب برای فرزند خود تا حد امکان بپرهیزید.







بشمار و بنویس

جاهای خالی را با عدد مناسب پر کن.

	ده تایی	یکی

	ده تایی	یکی

	ده تایی	یکی

	ده تایی	یکی

۱۴ ۲۴ ۳۴

۸۴ ۹۴



	ده تایی	یکی

	ده تایی	یکی

	ده تایی	یکی
	۳	۷

	ده تایی	یکی
	۴	۷

۱۷ ۲۷ ۳۷

۹۷




از این صفحه، آموزش عددهای بیشتر از ۲۰ شروع می شود.

دانش آموزان، عدد دو رقمی را از جدول ارزش مکانی خارج، و به الگوی اضافه شدن دسته های ده تایی توجه می کنند.

فرزند شما به کمک شکل های بالای صفحه، الگوی اضافه شدن یک بسته ده تایی را یاد می گیرد و در نوشتن الگوی عددی زیر آن استفاده می کند.


شکل‌های هر دسته را بشمار و عدد مربوط به آن را بنویس. پس از آن جدول را کامل کن.
الگورا به همان ترتیب ادامه بده.

بشمار و بنویس



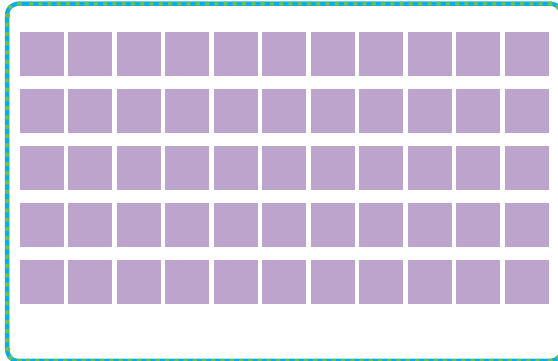
Blank space for writing the number 35.

ده تایی	یکی




Blank space for writing the number 28.

ده تایی	یکی



Blank space for writing the number 40.

ده تایی	یکی



Blank space for writing the number 24.

ده تایی	یکی



۵۳ ۵۴ ۵۵

دانش‌آموز در این فعالیت با شمردن پشت سر هم،

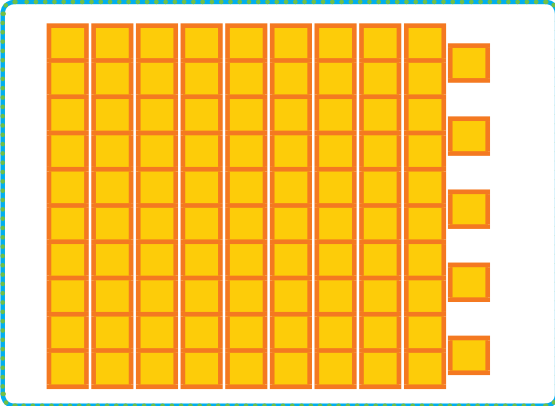
عدد مربوط به دسته را به دست می‌آورد و می‌نویسد. سپس عدد نوشته شده را به جدول منتقل می‌کند.

در تصویری مثل تصویر صفحه ۱۳۴ شمردن آدم‌ها و یا هر چیزی که قابل شمارش است، توصیه می‌شود.




بشمار و بنویس


دسته‌های ده‌تایی درست کن. جدول را کامل کن و عدد مربوط را بنویس.




ده‌تایی	یکی
۹	۵



ده‌تایی	یکی



ده‌تایی	یکی



ده‌تایی	یکی





قبل از ورود به این صفحه، همین فعالیت را می‌توانید با چیزهای ملموس انجام دهید.

شمردن چیزها در زندگی روزمره به کمک دسته‌بندی توصیه می‌شود. به این ترتیب، عددهای ۲۰ تا ۹۹ می‌تواند ساخته شود.



جاهای خالی را پر کن.
شکل را طوری کامل کن که دو نیمه‌ی آن مثل هم باشد.

بشمار و بنویس

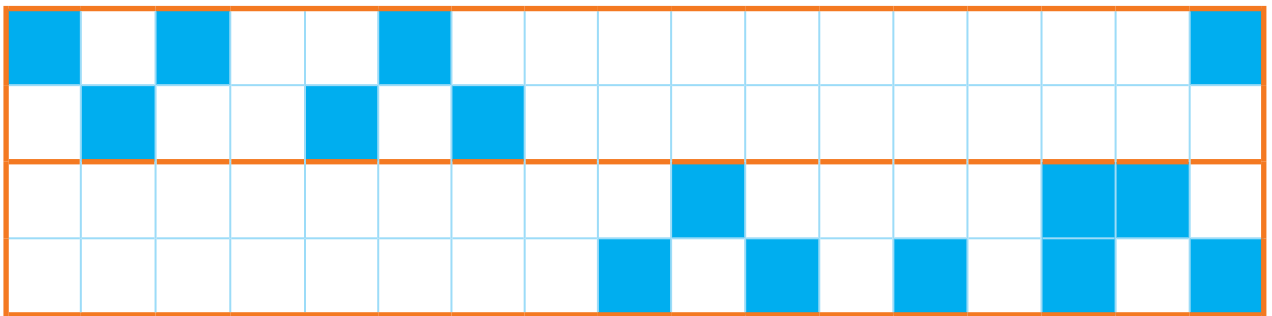


۱۵ ۲۰ ۲۵



۵۰

۵۵ ۶۰ ۶۵






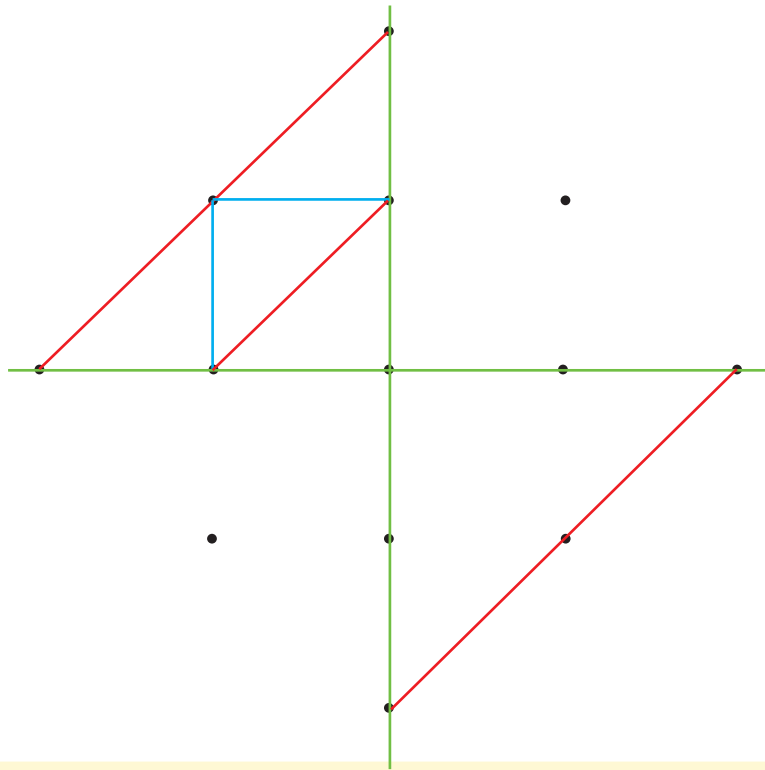
دانش آموزان باید شمردن ۵ تا ۵ را به صورت مستقیم یا معکوس با سرعت انجام دهند تا در جمع و تفریق‌ها از آن استفاده کنند.
فرزند شما باید شمردن مضرب‌های ۵ را به صورت مستقیم و معکوس به صورت ذهنی و با مهارت انجام دهد.





با ابزار کار کن

نقطه‌ها را با خط کش به هم وصل کن تا یک شکل با ۴ قسمت مثل هم ساخته شود. با نوشتن عدد مناسب، ترتیب کارها را مشخص کن.




ممکن است دانش آموزان تفسیرهای مختلفی از تصاویر ترتیب وضو ارائه کنند. به توضیح آنها و ترتیب شماره گذاری توجه کنید. فرزند شما به کمک این فعالیت، می تواند ترتیب وضو گرفتن را یاد بگیرد.



حاصل جمع و تفریق‌ها را به صورت ذهنی پیدا کن و بنویس.
مسئله‌ها را با رسم شکل حل کن.

مسئله
حل کن



$$10 + 10 + 10 = \square$$

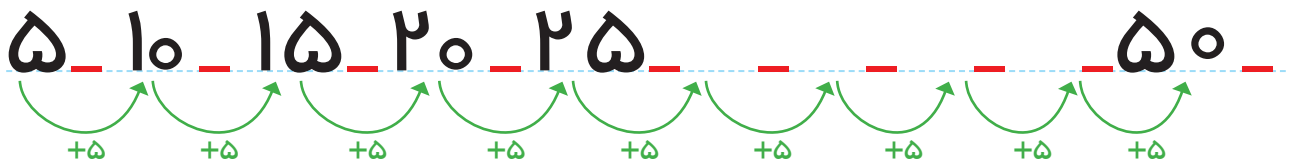
$$10 - 5 = \square$$

$$5 + 5 + 5 = \square$$

$$10 + 10 = \square$$

$$10 + 5 - 5 = \square$$

$$5 - 5 = \square$$



دو دسته‌ی ۱۰ تایی کبوتر در حال پرواز بودند. ۵ کبوتر به آنها اضافه شدند. حالا چند کبوتر در حال پرواز هستند؟

کبوتر



مداد

دو دسته‌ی ده‌تایی مداد روی میز بود. آموزگار ۳ بسته‌ی ۱۰ تایی دیگر مداد روی میز گذاشت. حالا چند مداد روی میز قرار دارد؟

دانش‌آموزان را به نوشتن عبارت جمع وادار نکنید. آنها می‌توانند پاسخ را با رسم شکل یا به صورت ذهنی به دست آورند.

مثال‌های مشابهی را با فرزند خود انجام دهید.



صد و بیست و یک



جاهای خالی را پر کن.
مانند الگوی داده شده ادامه بده و جدول را رنگ کن.

بشمار و بنویس



	ده تایی	یکی
۲۳		

	ده تایی	یکی
۳۹		


	ده تایی	یکی
۷۱		

	ده تایی	یکی
۴۰		

۴۷ ۴۸ _____ ۵۱ _____ ۵۵ _____

از عدد ۶۳ شروع کنید و تا عدد ۷۵ بنویسید.

۱	۲	۳	۴	۵	۶	۷	۸	۹	۱۰
۱۱	۱۲	۱۳	۱۴	۱۵	۱۶	۱۷	۱۸	۱۹	۲۰
۲۱	۲۲	۲۳	۲۴	۲۵	۲۶	۲۷	۲۸	۲۹	۳۰
۳۱	۳۲	۳۳	۳۴	۳۵	۳۶	۳۷	۳۸	۳۹	۴۰



در این کتاب برای تعدادی از عددهای دو رقمی، شکل و جدول ارزش مکانی رسم شده است. برای سایر عددها نیز با استفاده از چیزهای

ملموس و شکل و ... همین فعالیت‌ها را انجام دهید.

فرزند شما به مرور با جدول عددهای ۱ تا ۱۰۰ آشنا می‌شود و شمردن چندتا چند تا را روی آن تمرین می‌کند.





صد و چهل و دو

۱۴۲



بشمار و بنویس

با توجه به مربع‌های رنگ شده یا چوب‌خط‌ها جمع‌ها را بنویس و حاصل را پیدا کن. 
عددهایی را که با حروف نوشته شده است با عدد بنویس. 



$$\text{---} + \text{---} + \text{---} = \text{---}$$



$$\text{---} + \text{---} + \text{---} = \text{---}$$



$$\text{---} + \text{---} + \text{---} = \text{---}$$

$$5 + 5 + 10 + 10 = \text{---}$$

$$10 + 20 + 10 + 20 = \text{---}$$

$$5 + 5 + 20 + 20 = \text{---}$$

$$2 + 3 + 5 + 10 = \text{---}$$



یک چهار هفت دو سه

ده شش نه هشت پنج



با چوب خط جمع یا تفریق کن.
مسئله‌ها را با رسم چوب خط حل کن.

مسئله
حل کن



$$7 + 8 = \square$$



$$11 + 4 + 5 = \square$$

$$15 - 5 = \square$$



۴ اردک در آب بودند. ۵ اردک دیگر به آنها اضافه شدند. ۳ اردک دیگر هم آمدند. چند اردک در آب است؟

..... اردک در آب است.



۸ دانش آموز در کلاس بودند. ۴ دانش آموز دیگر به کلاس آمدند. ۵ دانش آموز دیگر هم به کلاس آمدند. چند دانش آموز در کلاس هستند؟

..... دانش آموز در کلاس است.

استفاده از ۲ یا چند رنگ برای رسم چوب خط صرفاً برای تشخیص جمع چند عدد است. تأکید بر آن ضروری نیست. فرزند شما مسئله‌ها را با رسم چوب خط حل می‌کند. کشیدن چوب خط و نوشتن جواب، راه حل قابل قبول و کافی است. به نوشتن عبارت جمع نیازی نیست.

صد و چهل و چهار
۱۴۴



با ابزار کار کن

اندازه‌ی مداد بین کدام دو عدد است؟
جاهای خالی را با عدد مناسب پر کن.



اندازه‌ی مداد بین تا است.



اندازه‌ی مداد بین تا است.



اندازه‌ی مداد بین تا است.

مداد شماره‌ی ۳ کوتاه‌تر از مداد شماره‌ی است.
مداد شماره‌ی ۱ هم اندازه‌ی مداد شماره‌ی است.
مداد شماره‌ی بلندترین مداد است.
مداد شماره‌ی کوتاه‌ترین مداد است.

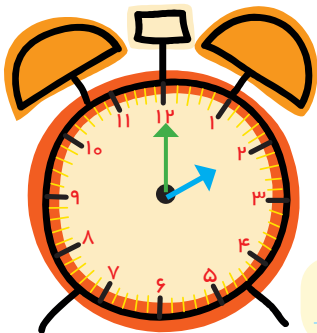
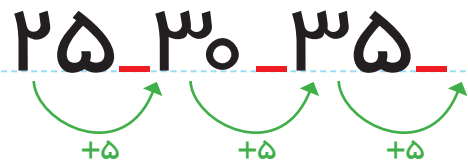
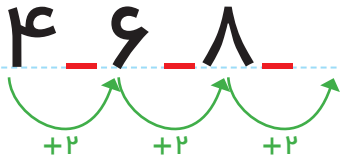



قبل از وارد شدن به این صفحه، همین فعالیت را با چیزهای ملموس و به‌طور عملی انجام دهید.

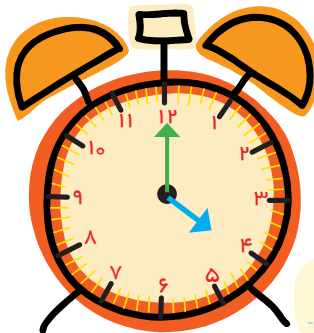
فرزند شما باید واژه‌های بلند، بلندتر و بلندترین و همچنین کوتاه، کوتاه‌تر و کوتاه‌ترین را به‌درستی به‌کار برد.

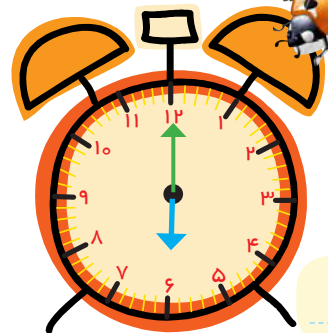
عددها را با توجه به الگو ادامه بده. مانند نمونه، زمانی را بنویس که ساعت نشان می دهد.

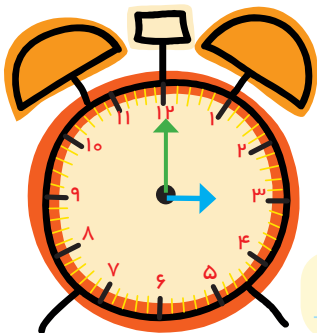
الگویابی کن

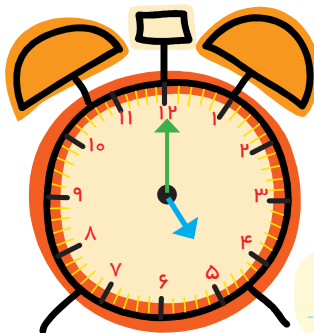


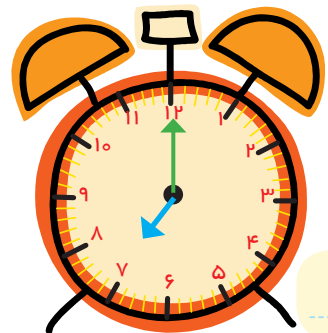
۲












هر کدام از تمرین های بالا در واقع نوعی حل مسئله است. دانش آموزان باید الگوی عددی را کشف کنند و سپس ادامه دهند. از فرزند خود بخواهید الگوها را به صورت کلامی برای شما توضیح دهد. همچنین در طول روز، ساعت های کامل را با فرزند خود کار کنید.



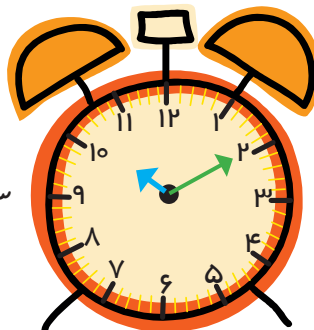
اندازه‌گیری کن

مانند نمونه انجام بده.

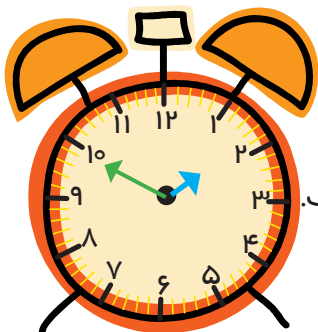
در هر قسمت، مشخص کن که کدام کار بیشتر طول می‌کشد. با X مشخص کن.



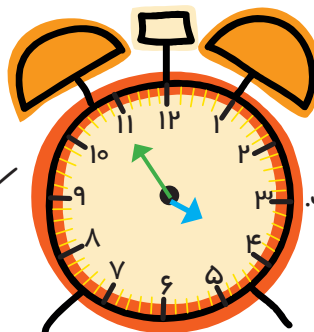
ساعت از گذشته است.






ساعت از ۱۰ گذشته است.



کمی به ساعت مانده است.




کمی به ساعت مانده است.



هدف این صفحه، ایجاد درک درست از مفهوم زمان در ذهن دانش‌آموز است و نیاز نیست دانش‌آموزان زمان را با دقیقه بیان کنند. در کارهای روزمره مثل مسواک زدن، حمام رفتن، پوشیدن کفش و لباس و تکلیف نوشتن، توجه فرزند خود را به مدت انجام دادن کار جلب کنید.



کنید.

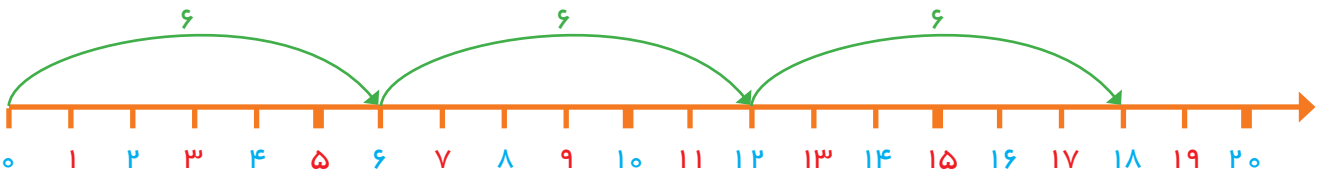






بشمار و بنویس

جاهای خالی را پر کن.

جدول عددها را با شمردن ۶ تا ۶ تا رنگ کن و سپس الگوی عددی را با کمک جدول کامل کن.



۱	۲	۳	۴	۵	۶	۷	۸	۹	۱۰
۱۱	۱۲	۱۳	۱۴	۱۵	۱۶	۱۷	۱۸	۱۹	۲۰
۲۱	۲۲	۲۳	۲۴	۲۵	۲۶	۲۷	۲۸	۲۹	۳۰
۳۱	۳۲	۳۳	۳۴	۳۵	۳۶	۳۷	۳۸	۳۹	۴۰
۴۱	۴۲	۴۳	۴۴	۴۵	۴۶	۴۷	۴۸	۴۹	۵۰



۰ ۶ ۱۲ ۱۸ ۲۴



هدف این صفحه، شمردن و ادامه دادن الگوهای ۶ تایی به صورت ذهنی نیست. دانش آموزان در اینجا فقط به کمک شکل یا

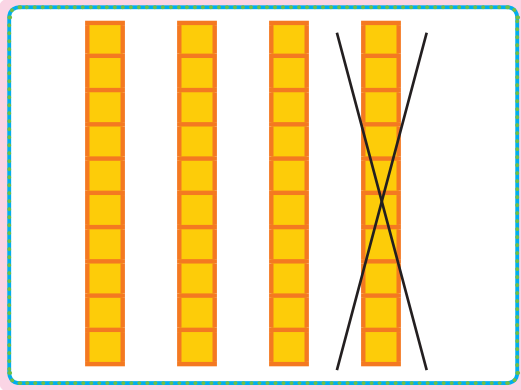
چیزهای ملموس، عدد بعدی را مشخص می کنند.

از فرزند خود بخواهید الگوی شمارش ۶ تایی را توضیح دهد. روی جدول بین عددهای رنگ شده، الگویی را کشف کند.

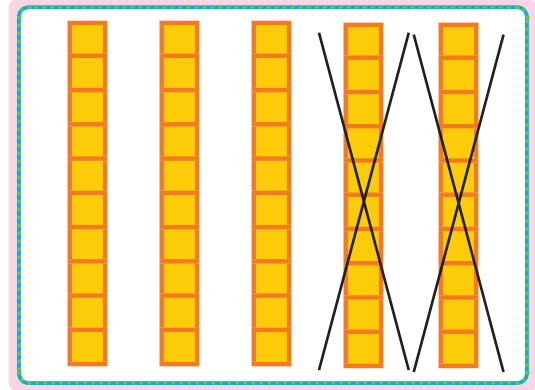


جاهای خالی را با عدد مناسب پر کن.


بشمار و بنویس



$$۴۰ - ۱۰ = \square$$



$$\square - \square = \square$$



$$\square - \square = \square$$

$$۴۰ - ۲۰ = \square$$

$$۱۵ - ۵ = \square$$

$$۲۵ - ۵ = \square$$

قبل از ورود به این صفحه، تفریق ۱۰ تایی یا ۵ تایی را با چیزهای ملموس انجام دهید. فرزند شما تفریق‌های مضرب ۱۰ را به صورت ذهنی انجام دهد تا به مهارت دست یابد.

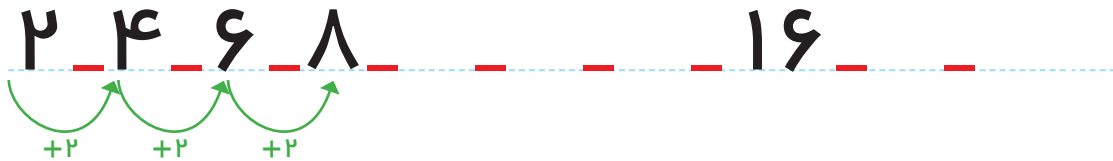
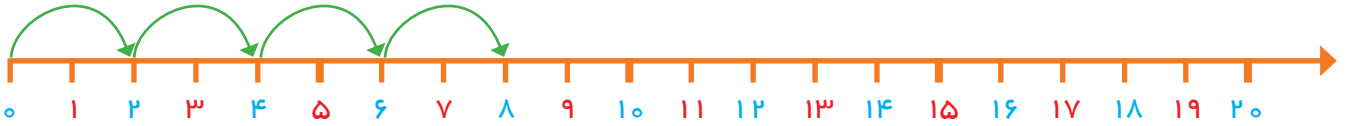


صد و پنجاه

۱۵۰

مسئله حل کن

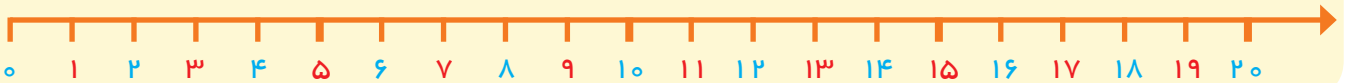
الگو را ادامه بده.
مسئله‌ها را با محور حل کن.



یک اتوبوس ۱۸ مسافر داشت. در اولین ایستگاه ۲ نفر پیاده شدند. در دومین ایستگاه ۲ نفر دیگر پیاده شدند. در ایستگاه سوم ۲ نفر دیگر پیاده شدند. حالا اتوبوس چند مسافر دارد؟ مسافر دارد.



در یک کلاس ۱۲ دانش‌آموز نشسته بودند. ۴ نفر وارد کلاس شدند. ۵ نفر از کلاس بیرون رفتند. حالا چند نفر در کلاس هستند؟ دانش‌آموز در کلاس است.



هدف این فعالیت‌ها حل مسئله‌های ۲ مرحله‌ای به کمک محور اعداد است.

لازم نیست فرزند شما برای حل این مسئله‌ها عبارت جمع یا تفریق بنویسد. پیدا کردن جواب به کمک محور کافی است.

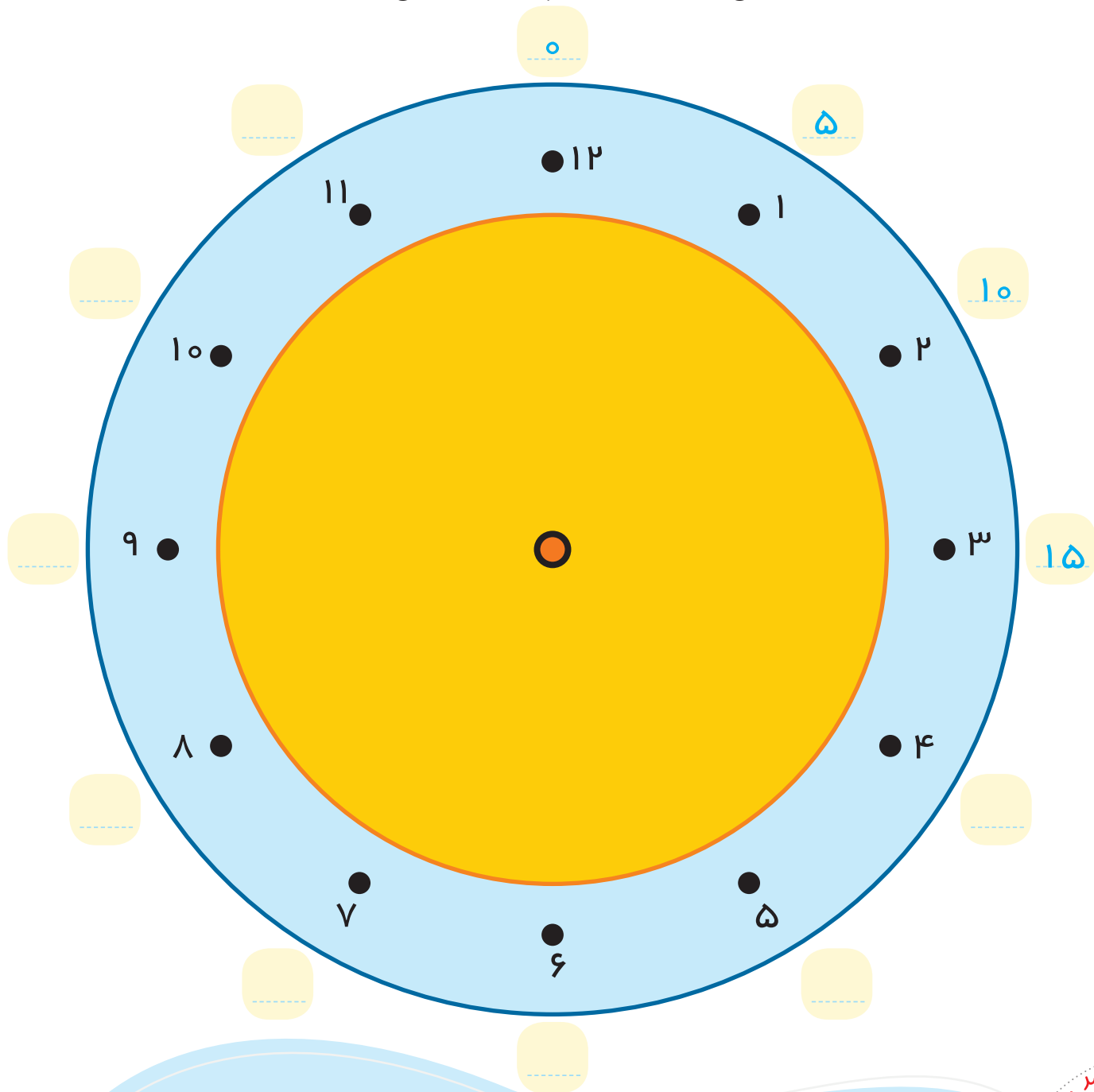


با توجه به توضیحات داده شده، نقطه‌ها را روی دایره با خط کش به هم وصل کن.

با ابزار
کار کن



از ۲ شروع کن و ۲ تا ۲ تا بشمار و نقطه‌ها را وصل کن و به ۲ برگرد.
از ۳ شروع کن. ۳ تا ۳ تا بشمار و نقطه‌ها را به هم وصل کن و به ۳ برگرد.
از ۴ شروع کن. ۴ تا ۴ تا بشمار و نقطه‌ها را به هم وصل کن و به ۴ برگرد.
عددهای آبی رنگ دور ساعت را هم با توجه به الگویی که دارد، ادامه بده و کامل کن.



هدف این فعالیت، علاوه بر استفاده از ابزار، تمرین شمردن چند تا چند تا و همچنین دنبال کردن دستورالعمل نیز هست.
فرزند شما همین فعالیت را با شروع از عددهای مختلف نیز می‌تواند در منزل انجام دهد.




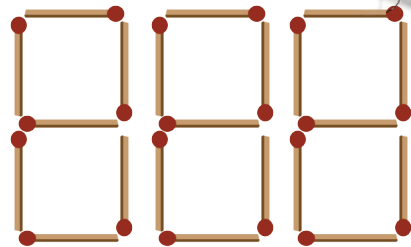
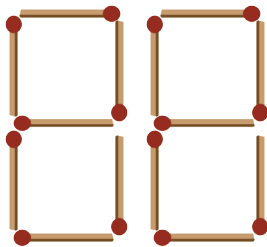
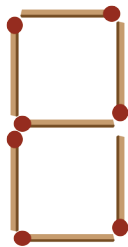
صد و پنجاه و دو

۱۵۲

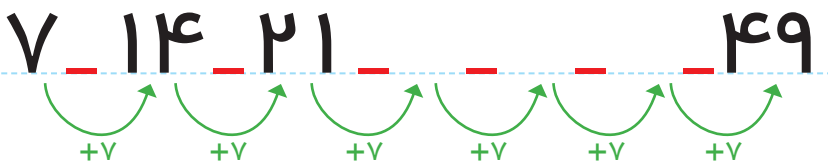


بشمار و بنویس

جاهای خالی را با عدد مناسب پر کن. ۷ تا ۷ تا بشمار و رنگ کردن را ادامه بده.



۱	۲	۳	۴	۵	۶	۷	۸	۹	۱۰
۱۱	۱۲	۱۳	۱۴	۱۵	۱۶	۱۷	۱۸	۱۹	۲۰
۲۱	۲۲	۲۳	۲۴	۲۵	۲۶	۲۷	۲۸	۲۹	۳۰
۳۱	۳۲	۳۳	۳۴	۳۵	۳۶	۳۷	۳۸	۳۹	۴۰
۴۱	۴۲	۴۳	۴۴	۴۵	۴۶	۴۷	۴۸	۴۹	۵۰



شنبه	یکشنبه	دوشنبه	سه شنبه	چهارشنبه	پنجشنبه	جمعه
۱	۲	۳	۴	۵	۶	۷
شنبه	یکشنبه	دوشنبه	سه شنبه	چهارشنبه	پنجشنبه	جمعه
۸	۹	۱۰	۱۱	۱۲	۱۳	۱۴
شنبه	یکشنبه	دوشنبه	سه شنبه	چهارشنبه	پنجشنبه	جمعه
۱۵	۱۶	۱۷	۱۸	۱۹	۲۰	۲۱
شنبه	یکشنبه	دوشنبه	سه شنبه	چهارشنبه	پنجشنبه	جمعه
۲۲	۲۳	۲۴	۲۵	۲۶	۲۷	۲۸
شنبه	یکشنبه	دوشنبه	سه شنبه	چهارشنبه	پنجشنبه	جمعه
۲۹	۳۰					

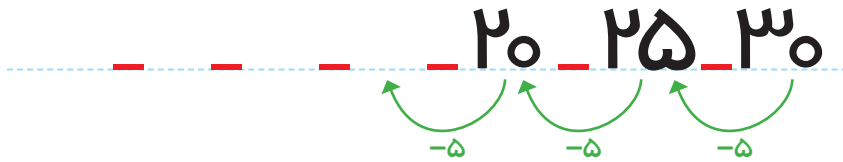
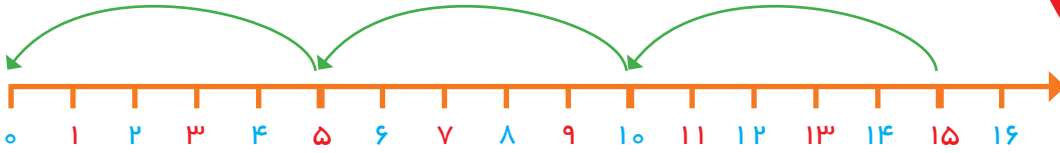
هدف، شمردن و ادامه دادن الگوی ۷ تا ۷ تا بیشتر از عددی داده شده در جدول و یا به صورت ذهنی نیست.

شمردن ۷ تا ۷ تا با کمک چیزها و مهره‌ها یا رسم شکل توصیه می‌شود. یکی از این نمونه‌ها تقویم ماهانه است که روزهای هفته ۷ تا

۷ تا مشخص می‌شود.

جاهای خالی را پر کن.

بشمار و بنویس



Counting sticks for numbers 20, 25, 30, 35, and 40, with Persian labels: پنجاه, چهل, سی, بیست, ده.

Counting sticks for numbers 70, 80, 90, and 100, with Persian labels: هفتاد, هشتاد, نود, شصت.

هدف، تفریق عددهای بزرگتر از عددهای نوشته شده در این صفحه نیست. دانش آموزان در این محدوده‌ی عددها به کمک محور یا تفریق با

انگشتان می‌توانند عددهای قبلی را پیدا کنند.

فرزند شما باید بتواند عددهای مضرب 5 را به صورت معکوس به کمک شکل، چوب خط یا محور بشمارد و بیان کند.





صد و پنجاه و چهار

۱۵۴

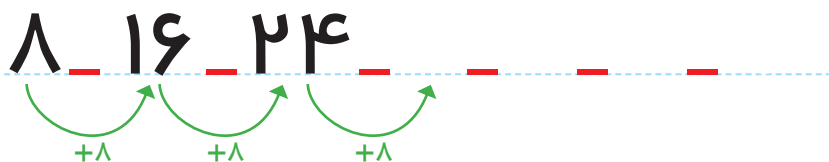


جاهای خالی را پر کن.
۸ تا ۸ تا بشمار و رنگ کردن را ادامه بده.

بشمار و بنویس



۱	۲	۳	۴	۵	۶	۷	۸	۹	۱۰
۱۱	۱۲	۱۳	۱۴	۱۵	۱۶	۱۷	۱۸	۱۹	۲۰
۲۱	۲۲	۲۳	۲۴	۲۵	۲۶	۲۷	۲۸	۲۹	۳۰
۳۱	۳۲	۳۳	۳۴	۳۵	۳۶	۳۷	۳۸	۳۹	۴۰
۴۱	۴۲	۴۳	۴۴	۴۵	۴۶	۴۷	۴۸	۴۹	۵۰
۵۱	۵۲	۵۳	۵۴	۵۵	۵۶	۵۷	۵۸	۵۹	۶۰



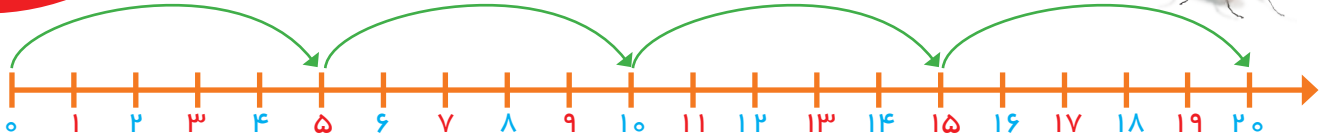
با توجه به اینکه جمع کردن عددها برای پیدا کردن عددهای بعدی الگو مورد نظر نیست، دانش‌آموزان باید الگو را به کمک جدول و پس از رنگ کردن کامل کنند.

از فرزند خود بخواهید در مورد الگوهایی توضیح دهد که در شکل‌ها و جدول اعداد می‌بیند.



بشمار و بنویس

جاهای خالی را با عدد مناسب پر کن. بازی را با توجه به توضیحات آن انجام بده.



یک مهره روی یکی از عددهای ۱ تا ۵ بگذار. حالا دستوره‌های زیر را دنبال کن. آخر کار، مهره روی چه عددی است؟

- ۱) ۵ خانه برو جلو
- ۲) ۱۰ خانه برو جلو
- ۳) ۵ خانه برگرد عقب
- ۴) ۱۰ خانه برو جلو
- ۵) ۵ خانه برگرد عقب



1 2 3 4 5 6 7 8 9 10

21 20 19 18 17 16 15 14 13 12 11

22

23 24 25 26 27 28 29 30 31 32 33

34

35 36 37 38 39 40

هدف اصلی این صفحه، دنبال کردن دستورالعمل و همچنین شمردن رو به جلو و عقب ۵ تایی با شروع‌های متفاوت است. بازی بالا را می‌توانید با شروع از عددهای مختلف با فرزند خود تمرین کنید.



جاهای خالی را با عدد مناسب پر کن.
 عددی را که به حروف نوشته شده است، به عدد بنویس.

بشمار و
 بنویس



$5 + 5 + 5 + 5 = \square$

$5 + 5 + 5 + 4 = \square$

$20 + 10 + 5 - 5 = \square$

$10 + 10 + 5 + 5 + 5 = \square$

$20 + 10 + 5 + 3 = \square$

$5 + 5 + 2 = \square$

$20 + 5 + 10 - 10 = \square$

$10 + 5 + 3 = \square$

$20 + 20 + 10 + 5 = \square$

$10 + 20 + 5 + 4 = \square$

چهارده

شانزده

سیزده



چهل و سه

نوزده

یازده

پنجاه و هفت

سی و یک

هفده

هجده

پانزده

دوازده

هدف این صفحه، تمرین جمع و تفریق‌های ضرب‌های ۱۰ و یک عدد یک رقمی است. همچنین نوشتن عددهای دورقمی به حروف از اینجا شروع می‌شود. فرزند شما برای جمع و تفریق می‌تواند با روشی که در این کتاب یاد گرفته است از انگشتان دست خود استفاده کند تا به مهارت دست یابد. توجه او را به عددهای پایین صفحه جلب کنید که به حروف نوشته شده است.





با ابزار کار کن

دستورالعمل‌های زیر را دنبال کن تا شکل، رسم شود. جواب جمع و تفریق را بنویس؛ مقایسه کن و علامت مناسب را انتخاب کن.



۱) از کمترین عدد شروع کن.

۲) عددها را با خط کش به ترتیب به هم وصل کن.

۳) دوباره به عدد ۱۹ برگرد.

۱۹ •

• ۲۲



• ۲۰

۲۱ •



• ۲۳



$۲۰ + ۳۰ =$ $< = >$ $۶۰ - ۱۰ =$

$۱۰ + ۸ =$ $< = >$ $۱۰ + ۷ =$

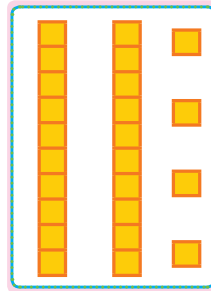


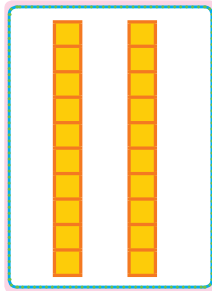

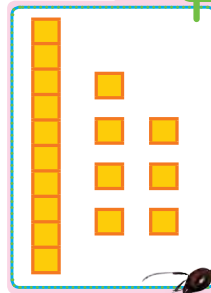

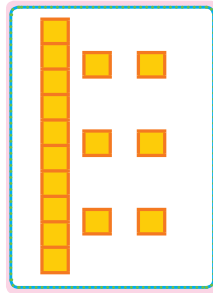


$۲۵ - ۵ =$ $< = >$ $۱۵ + ۱۰ =$

هدف این صفحه علاوه بر استفاده از ابزار، دنبال کردن دستورالعمل (الگوریتم) نیز هست. تمرین‌های پایین صفحه برای یادآوری جمع و تفریق بدون شکل و به صورت ذهنی است.



به کمک شکل، مقایسه کن و علامت مناسب (< = >) بگذار.
 عددهای مثل هم را با خط کش به هم وصل کن.

با ابزار
کار کن



- ۱
- ۲
- ۳
- ۴
- ۵
- ۶
- ۷
- ۸
- ۹
- ۰

- ۱
- ۰
- ۹
- ۴
- ۸
- ۶
- ۲
- ۵
- ۳
- ۷

- ۲
- ۳
- ۶
- ۰
- ۹
- ۴
- ۷
- ۵
- ۱
- ۸



هدف این صفحه آشنایی دانش آموز با ماشین حساب و عددهای انگلیسی روی صفحه‌ی کلید و صفحه‌ی نمایش است.
 عددهای مختلف یک رقمی را روی ماشین حساب به فرزند خود نشان دهید تا با این نمادها آشنا شود.



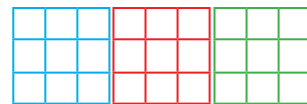
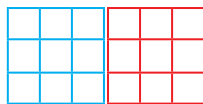
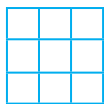
صد و شصت

۱۶۰



بشمار و بنویس


جاهای خالی را پر کن. 
مسئله‌ها را با هر روشی که می‌خواهی حل کن. 



حمید ۱۸ کتاب داستان دارد. امروز پدرش ۹ کتاب داستان دیگر به او داد. حالا حمید چند کتاب دارد؟
..... کتاب دارد.



مریم ۹ کتاب داستان و ۲۷ کتاب علمی دارد. او روی هم چند کتاب دارد؟
..... کتاب دارد.

دانش‌آموزان بدون رسم شکل یا استفاده از چیزها و به کمک ماشین حساب می‌توانند عدد بعدی الگوها را بنویسند؛ لذا کار با ماشین حساب را آموزش دهید.  در صورتی که ماشین حساب در اختیار دارید، می‌توانید برای پیدا کردن عدد بعدی از ماشین حساب استفاده کنید.

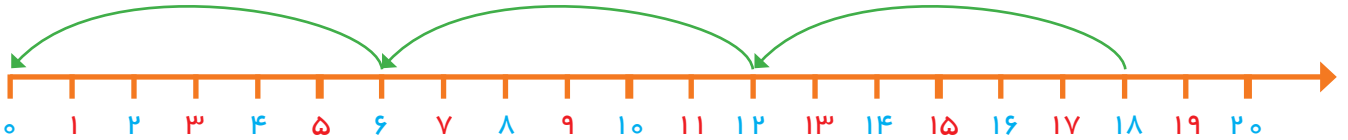


۲۴




مسئله حل کن

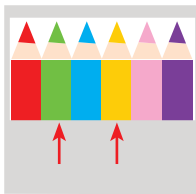
جاهای خالی را با عدد مناسب پر کن.
مسئله را با رسم شکل حل کن.



علی یک بسته مداد رنگی ۱۲ تایی داشت. دوستش به او یک بسته مداد رنگی ۶ تایی هدیه داد.
(۱) علی چند مداد رنگی دارد؟



(۲) او مدادهای مشخص شده در شکل روبه‌رو را از هر دو دسته برداشت، چند مداد برداشته است؟

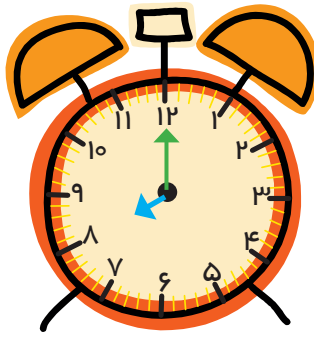
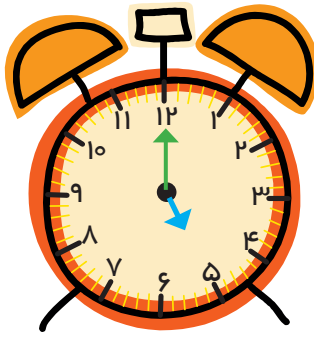
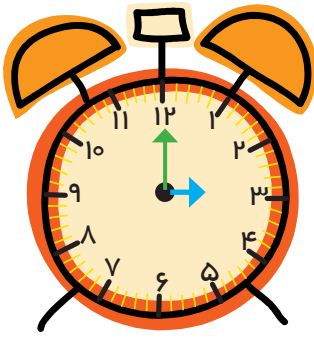


(۳) چند مداد برایش باقی مانده است؟


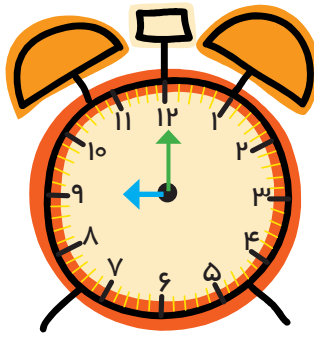
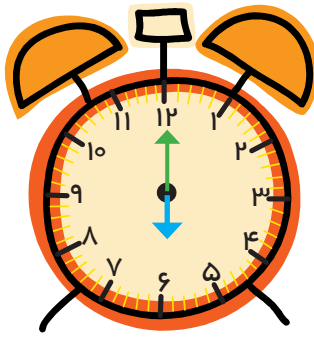

زهرا ۱۸ مداد رنگی داشت. ۶ تا را در خانه گذاشت و به مدرسه رفت. در مدرسه ۶ تا از مدادها را به دوستش داد. حالا چند تا مداد رنگی برایش باقی مانده است؟

مانند نمونه انجام بده.

اندازه‌گیری
کن



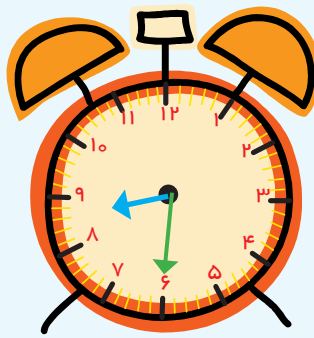
۳



زمان بین

ساعت _____ و _____

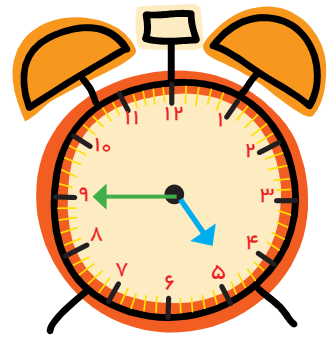
است.



زمان بین

ساعت _____ و _____

است.



زمان بین

ساعت ۴ و ۵

است.

هدف از این صفحه، آموزش خواندن ساعت با دقیقه نیست. پس از اینکه دانش‌آموزان، خواندن ساعت‌های دقیق را تمرین کردند، فعالیت

پایین انجام شود تا تشخیص دهند که زمان از یک ساعت مشخص گذشته و به ساعت بعد نرسیده است.

اوقات مختلف شبانه روز فرصت مناسبی است که از فرزند خود در مورد ساعت و خواندن آن سؤال کنید.

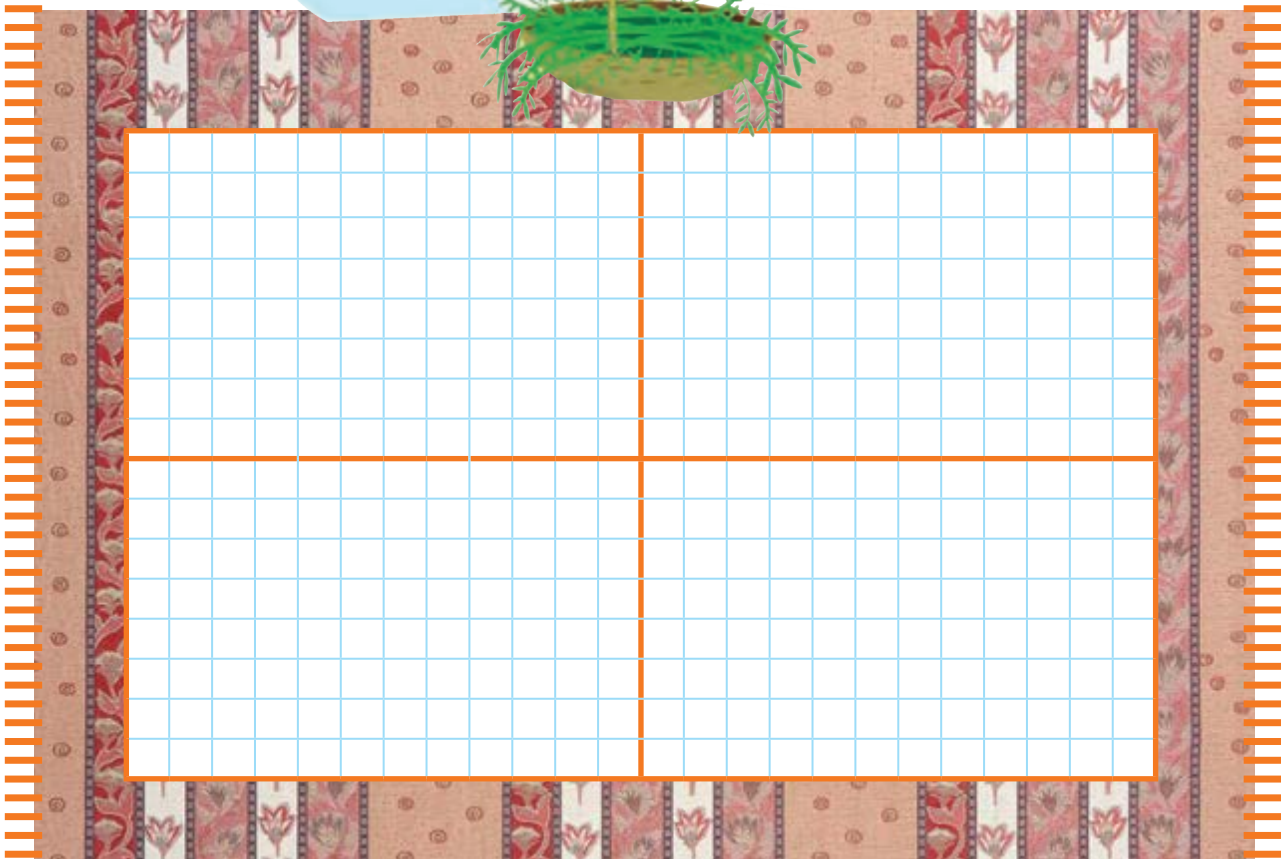


صد و شصت و یک
۱۶۴



با ابزار کار کن

فرش زیر به چهار قسمت تقسیم شده است. ۵ تا از مربع‌های یک قسمت را رنگ کن.
 ۳ قسمت دیگر را هم مانند همان قسمت کامل کن.
 جاهای خالی را کامل کن.


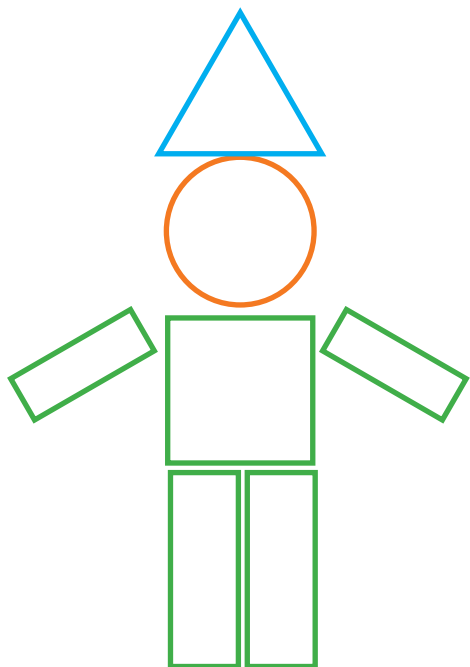


پنجاه - شصت - هفتاد - هشتاد - نود
 نود و یک - نود و دو - نود و سه - نود و چهار - نود و پنج




نام هر شکل نوشته شده است. با شابلون یک شکل، مثل آن بکش. با استفاده از شابلون یک شکل درست کن؛ سپس آن را رنگ کن. از هر شکل چند مرتبه استفاده کردی؟


با ابزار
کار کن



مربع



مثلث



دایره



مستطیل

دانش آموزان نوشتن نام شکل های هندسی را می آموزند و تفاوتها و شباهت های این شکلها را بیان می کنند. فرزند شما باید علاوه بر شناخت شکل های هندسی، املاي آنها را نیز یاد بگیرد.



صد و شصت و سه

۱۶۶

مسئله حل کن

مثل نمونه؛ مسئله‌ها را با چوب‌خط و یا با کشیدن شکل حل کن و برای راه‌حل خود یک عبارت جمع یا تفریق بنویس.



۱۲ شکلات در ظرف بود. بچه‌ها ۷ تا را خوردند. حالا چند شکلات در ظرف است؟



$$12 - 7 = \square$$

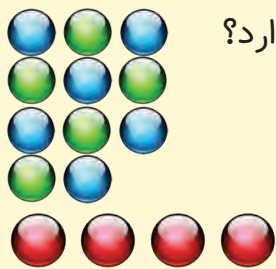
شکلات در ظرف مانده است.



منصوره ۱۸ ستاره‌ی رنگی داشت. ۸ تا را در دفترش چسباند. حالا چند ستاره دارد؟



فرهاد ۱۷ کارت بازی در دست داشت. ۶ تا را روی میز گذاشت. حالا چند کارت در دست دارد؟



فاطمه ۱۱ مهره‌ی رنگی داشت. ۴ تا مهره‌ی قرمز هم خرید. حالا فاطمه چند مهره دارد؟

$$11 + 4 = \square$$

مهره دارد.



در خانه ۱۲ قاشق غذاخوری بود. مادر یک بسته‌ی ۶ تایی دیگر خرید.

حالا چند قاشق غذاخوری در خانه است؟

از این صفحه دانش‌آموزان یاد می‌گیرند که برای حل کردن مسئله یک عبارت جمع یا تفریق بنویسند.

کشیدن شکل با استفاده از چیزهای ملموس یا انگشتان دست و چوب‌خط کمک می‌کند تا فرزند شما مسئله را بهتر درک کند.



کند.

مسئله حل کن

مسئله‌ها را با استفاده از چوب خط، مهره و چیزهای دیگر حل کن؛ سپس جمله‌ها را کامل کن.
در هر ردیف کدام سنگین‌تر است؟ با × مشخص کن.



در گلدان ۶ گل سفید و ۸ گل صورتی بود. ۱۰ تا از گل‌ها پژمرده شد. چند گل شاداب در گلدان است؟

..... گل در گلدان است. $\square + \square = \square$





..... گل شاداب است. $\square - \square = \square$

مهرداد ۹ کاغذ رنگی زرد و ۷ کاغذ رنگی قرمز برداشت. ۱۲ تا از کاغذ رنگی‌ها را به دوستانش داد و با بقیه‌ی کاغذها یک بادبادک زیبا درست کرد. مهرداد با چند کاغذ رنگی بادبادک درست کرد؟

مهرداد کاغذ رنگی دارد. $\square + \square = \square$

با کاغذ، بادبادک درست کرد. $\square - \square = \square$



		
<input type="text"/>	<input type="text"/>	<input type="text"/>
		<input type="text"/>

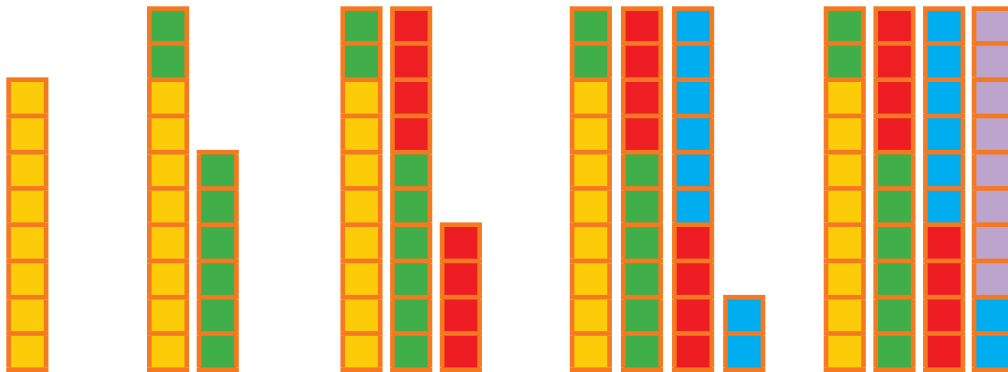
هدف این صفحه، تمرین راهبرد زیر مسئله است. دانش‌آموزان باید خودشان مسئله‌ی دو مرحله‌ای را تشخیص دهند و حل کنند. از فرزند خود بخواهید دو مرحله از حل مسئله را به صورت کلامی برای شما توضیح دهد.

۱	۲	۳							۱۰
۱۱	۱۲								
									😊



با کمک شکل، جاهای خالی را پر کن؛ سپس مسئله‌ها را با استفاده از شکل حل کن.

مسئله
حل کن



۸

مهری ۲۴ عکس از کودکی خود دارد. مادر بزرگ ۸ تا از عکس‌هایش را گرفت. حالا چند عکس دارد؟
اگر خاله هم ۸ عکس دیگرش را بگیرد، چند عکس برایش باقی می‌ماند؟

..... عکس برایش می‌ماند.



علی ۲۷ تیله داشت. ۷ تا رابه دوستش رضا داد. ۵ تا تیله‌ی دیگر را هم به محمّد داد. حالا چند تا تیله
برایش باقی مانده است؟

..... تیله باقی می‌ماند.



هدف این صفحه، حل مسئله با استفاده از رسم شکل است.
توجه کنید که فرزندان با کمک شکل، شمردن ۸ تا ۸ تا را انجام دهد.



صد و هفتاد

مسئله حل کن

مسئله‌های زیر را با هر روشی که می‌خواهی، حل کن.
کدام کار در مدت کمتری انجام می‌شود؟ × بزن.



یک کلاس دبستان، ۳۳ دانش‌آموز دارد. آموزگار در ابتدای سال، به هر کدام از دانش‌آموزان یک مداد هدیه داد. او در ابتدای آبان ماه نیز به مناسبت روز دانش‌آموز، به هر کدام از دانش‌آموزان یک مداد دیگر هدیه داد. آموزگار چند مداد هدیه داده است؟

..... مداد هدیه داده است.

حسین ۷۴ عدد شکلات دارد و می‌خواهد آن را در بسته‌های ده‌تایی دسته‌بندی کند. او چند بسته‌ی ده‌تایی می‌تواند درست کند و چند عدد شکلات باقی می‌ماند؟

..... بسته‌ی ده‌تایی درست می‌شود و باقی می‌ماند.



در این صفحه دانش‌آموز از هر روشی که دوست دارد می‌تواند مسئله را حل کند.

فرزند شما باید از زمان انجام کارها درک و تصویری داشته باشد. این موضوع را در موقعیت‌های مختلف تمرین کنید.



در هر قسمت عددهای مناسب بنویس.

بشمار و
بنویس



از عدد ۲۰ تا ۳۰ را یکی یکی بنویس.

۲۰ ۲۱ ۲۲

از عدد ۱۰ تا ۱۰۰ را ۱۰ تا ۱۰۰ بنویس.

۱۰ ۲۰

از عدد ۹۰ تا ۹۹ را یکی یکی بنویس.

۹۰ ۹۱ ۹۵

از عدد ۱۰ تا ۵۰ را ۵ تا ۵ بنویس.

۱۰ ۱۵ ۵۰

از عدد ۷۰ تا ۹۵ را ۵ تا ۵ بنویس.

۷۰ ۷۵

هدف این صفحه، تمرین شمردن چند تا چند تا بدون استفاده از شکل و به صورت ذهنی است. فرزند شما در این فعالیت، نوشتن نماد عددهای مختلف را تمرین می کند. دقت در چگونگی نوشتن نمادها اهمیت دارد.





صد و هفتاد و دو

۱۷۲

مسئله حل کن

ابتدا با کمک شکل‌ها جاهای خالی را پر کن.
سپس مسئله‌ها را با استفاده از شکل حل کن.



۰

۹



در کلاس اول ۲۹ دانش‌آموز نشسته بودند. ۹ نفر از آنها از کلاس بیرون رفتند. چند نفر در کلاس ماندند؟



..... در کلاس ماندند.

کلاس دوم ۲۷ دانش‌آموز دارد. ۹ نفر آنها برای بازی فوتبال رفتند. اگر ۹ نفر دیگر هم برای طناب زدن بروند، چند نفر در کلاس باقی مانده‌اند؟



..... در کلاس ماندند.

دانش‌آموزان برای حل مسئله‌ها می‌توانند از رسم شکل یا چوب خط استفاده کنند. همچنین تشخیص زیر مسئله‌ها اهمیت دارد. می‌توانید مانند بالا به فرزندتان مسئله بدهید و بخواهید با رسم شکل حل کند.



اگر اطلاعات مسئله کافی است آن را حل کن.
عقربه‌های ساعت آخر را با توجه به الگوی آن بکش.

مسئله
حل کن




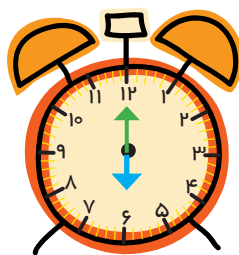
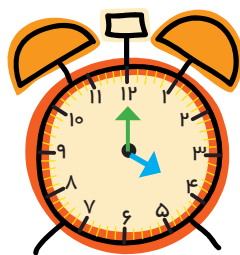

۱) یک اتوبوس ۴۰ صندلی دارد. ۲۴ مسافر در اتوبوس بودند که به ایستگاه امام خمینی رسید. ۴ نفر از اتوبوس پیاده شدند. اتوبوس چند صندلی دارد؟



۲) سعیده یک کتابخانه‌ی ۲ طبقه دارد. در طبقه‌ی اول ۱۲ کتاب و در طبقه‌ی دوم ۱۳ کتاب دارد. او ۴ کتاب از طبقه‌ی اول برداشت و در طبقه‌ی دوم قرار داد. او روی هم چند کتاب در این کتابخانه دارد؟



۳) ۲ تاکسی از ابتدای خط شروع به حرکت کردند. در یک تاکسی ۴ مسافر و در تاکسی دیگر ۳ مسافر نشسته بودند. در بین راه چند نفر پیاده و چند نفر دیگر سوار شدند. در انتهای این مسیر چند مسافر از تاکسی‌ها پیاده شدند؟



هدف این صفحه، تشخیص اطلاعات اضافی یا اطلاعات کم هر مسئله است.

فرزند شما در فعالیت پایین صفحه علاوه بر نوشتن ساعت‌ها، الگو را تشخیص می‌دهد و عقربه‌های ساعت را می‌کشد.





با ابزار کار کن

با شابلون و خط کش و مدادهای رنگی یک فرش زیبا طراحی کن.





